

ВСЕРОССИЙСКАЯ ПРОВЕРОЧНАЯ РАБОТА**ФИЗИКА****11 КЛАСС****Вариант 1****Инструкция по выполнению работы**

Проверочная работа включает в себя 18 заданий. На выполнение работы по физике отводится 1 час 30 минут (90 минут).

Оформляйте ответы в тексте работы согласно инструкциям к заданиям. В случае записи неверного ответа зачеркните его и запишите рядом новый.

При выполнении работы разрешается использовать калькулятор и линейку.

При выполнении заданий Вы можете использовать черновик. Записи в черновике проверяться и оцениваться не будут.

Советуем выполнять задания в том порядке, в котором они даны. Для экономии времени пропускайте задание, которое не удаётся выполнить сразу, и переходите к следующему. Если после выполнения всей работы у Вас останется время, Вы сможете вернуться к пропущенным заданиям.

Баллы, полученные Вами за выполненные задания, суммируются. Постарайтесь выполнить как можно больше заданий и набрать наибольшее количество баллов.

Желаем успеха!

Таблица для внесения баллов участника

Номер задания	1	2	3	4	5	6	7	8	9	10	11	12	13	14	15	16	17	18	Сумма баллов	Отметка за работу
Баллы																				

Ниже приведены справочные данные, которые могут понадобиться Вам при выполнении работы.

Десятичные приставки

Наименование	Обозначение	Множитель	Наименование	Обозначение	Множитель
гига	Г	10^9	сантиметры	см	10^{-2}
мега	М	10^6	миллиметры	мм	10^{-3}
кило	к	10^3	микрометры	мкм	10^{-6}
гекто	г	10^2	нанометры	нм	10^{-9}
деци	д	10^{-1}	пикометры	пм	10^{-12}

Константы

ускорение свободного падения на Земле	$g = 10 \text{ м/с}^2$
гравитационная постоянная	$G = 6,7 \cdot 10^{-11} \text{ Н} \cdot \text{м}^2 / \text{кг}^2$
универсальная газовая постоянная	$R = 8,31 \text{ Дж}/(\text{моль} \cdot \text{К})$
скорость света в вакууме	$c = 3 \cdot 10^8 \text{ м/с}$
коэффициент пропорциональности в законе Кулона	$k = 9 \cdot 10^9 \text{ Н} \cdot \text{м}^2 / \text{Кл}^2$
модуль заряда электрона (элементарный электрический заряд)	$e = 1,6 \cdot 10^{-19} \text{ Кл}$
постоянная Планка	$h = 6,6 \cdot 10^{-34} \text{ Дж} \cdot \text{с}$

1 Прочитайте перечень понятий, с которыми Вы встречались в курсе физики:

плотность, диоптрия, электроёмкость, мощность, генри, паскаль.

Разделите эти понятия на две группы по выбранному Вами признаку. Запишите в таблицу название каждой группы и понятия, входящие в эту группу.

Название группы понятий	Перечень понятий

2 Выберите **два** верных утверждения о физических явлениях, величинах и закономерностях. Запишите в ответе их номера.

- 1) По мере подъёма в гору атмосферное давление понижается.
- 2) Процесс передачи количества теплоты от более нагретого тела к менее нагретому является обратимым.
- 3) Ориентация магнитной стрелки на Земле была бы невозможна при отсутствии на Земле атмосферы.
- 4) Гармонические колебания электрического заряда в металлических проводниках являются источниками рентгеновских лучей.
- 5) При естественной радиоактивности чем меньше период полураспада изотопов, тем быстрее снижается масса радиоактивного вещества.

Ответ:

--	--

3 Четыре тела двигались по оси Ox . В таблице представлена зависимость их координат от времени.

t, c	0	1	2	3	4	5
$x_1, м$	0	3,0	6,0	9,0	12,0	15,0
$x_2, м$	2,0	4,0	8,0	9,0	14,0	16,0
$x_3, м$	0	0,5	2,0	4,5	8,0	12,5
$x_4, м$	0	1,5	0	-1,5	0	1,5

Какое из тел двигалось равноускоренно из состояния покоя?

Ответ: _____

4 Расстояние между молекулами вещества много больше размеров самих молекул. Двигаясь во всех направлениях, молекулы быстро распределяются по всему сосуду. В каком агрегатном состоянии находится вещество?

Ответ: _____

5

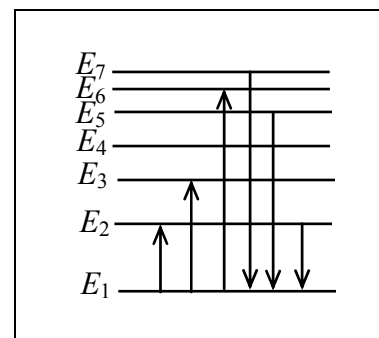
На рисунке приведены спектры излучения атомарных паров гелия, аргона и неизвестного газа. Какое(-ие) вещество(-а) – гелий или аргон – входит(-ят) в состав неизвестного газа?



Ответ: _____

6

На рисунке представлена диаграмма нижних энергетических уровней атома. Какой из отмеченных стрелками переходов между энергетическими уровнями сопровождается излучением кванта максимальной частоты?



Ответ: _____

7

Для наблюдения внешнего фотоэффекта цинковую пластину облучают фотонами с энергией 5 эВ при неизменной интенсивности излучения.

В таблице даны значения работы выхода электронов для некоторых металлов.

Металл	A , эВ
Калий	2,2
Литий	2,3
Натрий	2,5
Платина	6,3
Серебро	4,7
Цинк	4,0

Как изменятся фототок насыщения и кинетическая энергия фотоэлектронов, если цинковую пластину заменить на серебряную?

Для каждой величины определите соответствующий характер изменения:

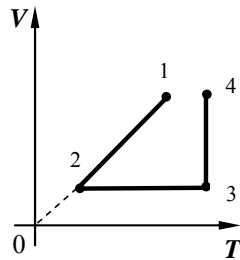
- 1) увеличится
- 2) уменьшится
- 3) не изменится

Запишите в таблицу выбранные цифры для каждой физической величины. Цифры в ответе могут повторяться.

Фототок насыщения	Кинетическая энергия фотоэлектронов

8

В сосуде под поршнем находится разреженный воздух. На графике представлена зависимость объёма воздуха от его температуры.



Выберите **два** верных утверждения, соответствующих данным графика. Запишите в ответе их номера.

- 1) В процессе 1–2 происходило изобарное сжатие воздуха.
- 2) В процессе 2–3 давление воздуха уменьшалось прямо пропорционально изменению его абсолютной температуры.
- 3) В процессе 3–4 наблюдалось изотермическое сжатие воздуха.
- 4) В процессе 2–3 внутренняя энергия воздуха увеличивалась.
- 5) В процессе 3–4 поршень опускался и совершал работу по сжатию воздуха.

Ответ:

--	--

9

В мастерской Ивана Петровича электрическая линия для розеток оснащена автоматическим выключателем, который размыкает линию, если сила тока в ней превышает 16 А. Напряжение электрической сети 220 В.

В таблице представлены электрические приборы, используемые в мастерской, и потребляемая ими мощность.

<i>Электрические приборы</i>	<i>Потребляемая мощность, Вт</i>
Электрический рубанок	800
Электрическая ударная дрель	1400
Электрический лобзик	600
Шлифовальная машина	1900
Циркулярная пила	1600
Торцовочная пила	2200

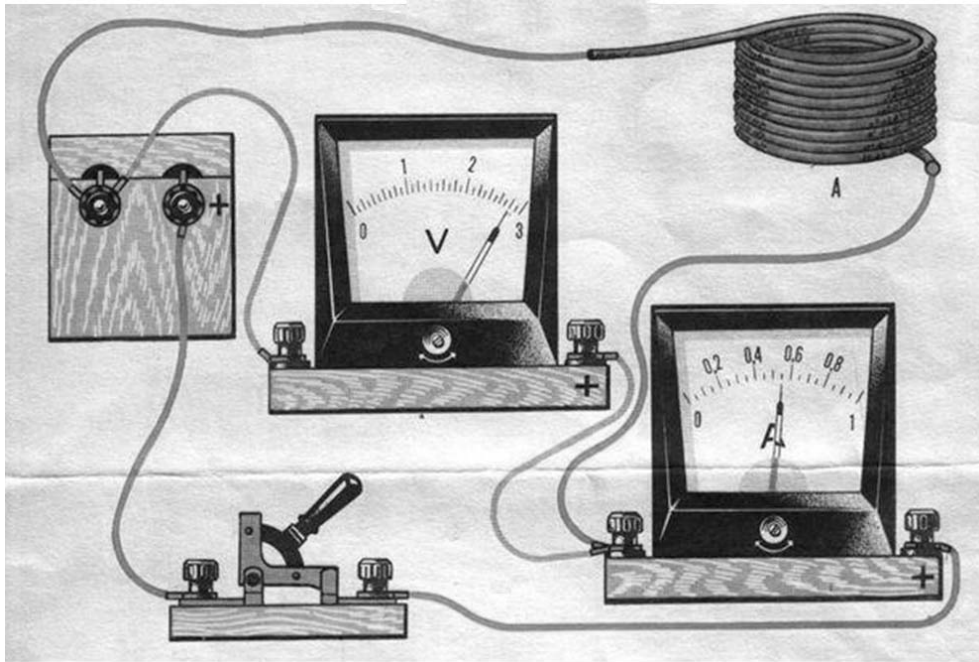
В мастерской работает шлифовальная машина. Можно ли дополнительно к шлифовальной машине включить в сеть торцовочную пилу? Запишите решение и ответ.

Решение: _____

Ответ: _____

10

На участке цепи, содержащем моток проволоки из константана, проводится измерение силы тока через моток и напряжения на нём. Погрешности измерения силы тока и напряжения равны цене деления приборов.

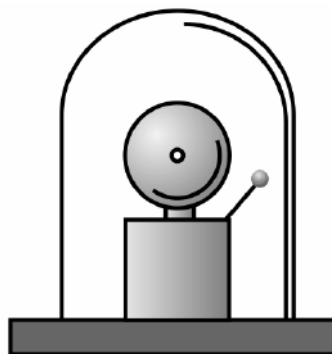


Запишите в ответе показания амперметра с учётом погрешности измерений.

Ответ: _____ А.

11

Учитель на уроке проделал следующий опыт. Он поместил электрический звонок под стеклянный колокол, соединённый с воздушным насосом. Включив звонок, он начал откачивать воздух. По мере откачивания звук становился всё тише, хотя сквозь стекло было видно, что молоточек по-прежнему ударяет в чашку звонка.

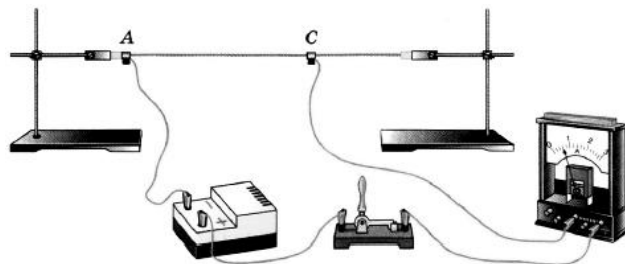


Какой вывод можно сделать по результатам данного опыта?

Ответ:

12

Вам необходимо продемонстрировать, что электрическое сопротивление проводника зависит от площади его поперечного сечения. Имеется следующее оборудование (см. рисунок):



- источник тока;
- амперметр;
- ключ;
- соединительные провода;
- штативы для закрепления проводника и скользящие контакты, при помощи которых можно изменять длину проводника, включённого в электрическую цепь;
- набор из пяти проводников одинаковой длины (100 см), характеристики приведены в таблице.

Таблица

Номер проводника	Длина проводника	Площадь поперечного сечения проводника	Материал, из которого изготовлен проводник
1	100 см	1,5 мм ²	нихром
2	100 см	1,2 мм ²	медь
3	100 см	0,5 мм ²	сталь
4	100 см	0,8 мм ²	медь
5	100 см	0,5 мм ²	медь

В ответе:

1. Зарисуйте схему электрической цепи. Укажите номера используемых проводников (см. таблицу).
2. Опишите порядок действий при проведении исследования.



Ответ: _____

13

Установите соответствие между техническими устройствами и физическими явлениями, лежащими в основе принципа их действия.

К каждой позиции первого столбца подберите соответствующую позицию из второго столбца.

ТЕХНИЧЕСКИЕ УСТРОЙСТВА

- А) циклический ускоритель
заряженных частиц
(циклотрон)
Б) электромагнитное реле

ФИЗИЧЕСКИЕ ЯВЛЕНИЯ

- 1) взаимодействие постоянных магнитов
2) действие электрического поля на неподвижную заряженную частицу
3) действие магнитного поля на движущуюся заряженную частицу
4) взаимодействие электромагнита и железных или стальных предметов

Запишите в таблицу выбранные цифры под соответствующими буквами.

Ответ:

А	Б

Прочитайте текст и выполните задания 14 и 15.

Искусственные спутники Земли

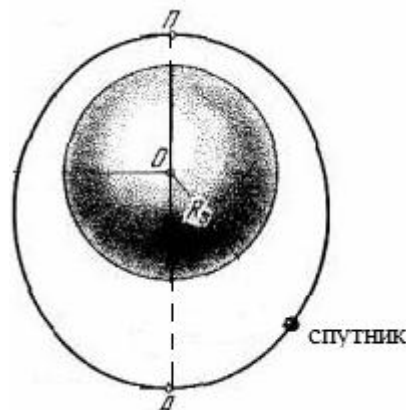
Первый искусственный спутник (ИСЗ) Земли был запущен на орбиту в СССР 4 октября 1957 г. В настоящее время ИСЗ выполняют следующие важные работы: исследование радиационных поясов Земли и земной атмосферы, проведение метеорологических и океанографических наблюдений, обеспечение работы спутникового телевидения и навигации морских кораблей и др.

Контроль движения ИСЗ осуществляется путём наблюдения за ними со специальных наземных станций. Для обеспечения электроэнергией спутники обычно оснащаются солнечными батареями.

Земля окружена воздушной оболочкой, или атмосферой. Атмосфера состоит из нескольких слоёв и достигает высоты 1600 км, переходя в безвоздушное космическое пространство. Из-за сопротивления атмосферы ИСЗ, движущиеся на низких орбитах (несколько сотен километров), постепенно снижаются, затем, попадая в сравнительно плотные слои атмосферы на высоте 120–130 км и ниже, разрушаются и сгорают, т.е. имеют ограниченный срок существования.

Для организации спутникового телевидения используются геостационарные орбиты, удалённые примерно на 36 тыс. км от поверхности Земли.

На рисунке схематично изображено движение спутника по эллиптической орбите.



14) Какое преобразование энергии осуществляется в солнечных батареях спутников?

Ответ: _____

15) В какой из точек (А или П) спутник имеет минимальную кинетическую энергию? Ответ поясните.

Ответ: _____

Прочитайте текст и выполните задания 16, 17 и 18.

Цвета предметов

Вопрос о причине различной окраски тел занимал ум человека уже давно. Важную роль в понимании этого вопроса сыграли работы Ньютона (начавшиеся около 1666 г.) по разложению белого света в спектр (см. рисунок).

Свет от фонаря освещает узкое прямоугольное отверстие S (щель). При помощи линзы L изображение щели получается на экране MN в виде узкого белого прямоугольника S' . Поместив на пути лучей призму P , обнаружим, что изображение щели сместится и превратится в окрашенную полоску, переходы цветов в которой от красного к фиолетовому подобны наблюдаемым в радуге. Это радужное изображение Ньютон назвал спектром.

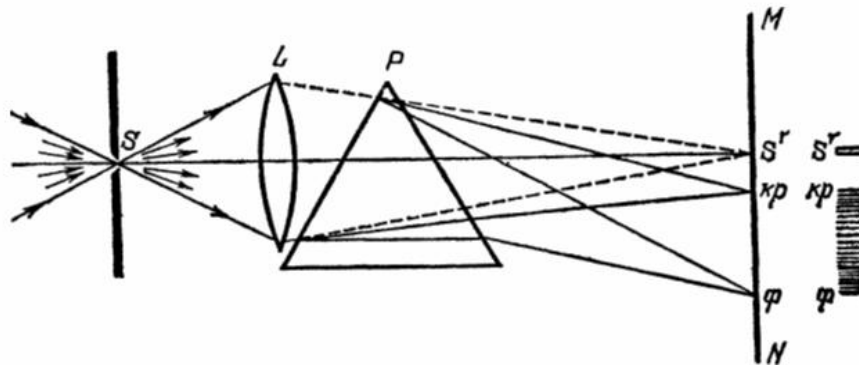


Рисунок. Наблюдение дисперсии света

В таблице приведены значения показателя преломления в зависимости от длины волны для двух сортов стекла и воды.

Таблица

Длина волны, нм (цвет)	Показатель преломления		
	Стекло, тяжёлый флинт	Стекло, лёгкий крон	Вода
656,3 (красный)	1,6444	1,5145	1,3311
589,3 (жёлтый)	1,6499	1,5170	1,3330
486,1 (голубой)	1,6657	1,5230	1,3371
404,7 (фиолетовый)	1,6852	1,5318	1,3428

Цвета окружающих нас предметов различаются благодаря тому, что световые волны разных длин в луче белого света отражаются, поглощаются и пропускаются предметами по-разному. Доля светового потока, участвующая в каждом из этих процессов, определяется с помощью соответствующих коэффициентов: отражения ρ , пропускания τ и поглощения α .

Если, например, у какого-либо тела для красного света коэффициент пропускания велик, коэффициент отражения мал, а для зелёного – наоборот, то это тело будет казаться красным в проходящем свете и зелёным в отражённом. Такими свойствами обладает, например, хлорофилл – вещество, содержащееся в листьях растений и обуславливающее их цвет. Раствор (вытяжка) хлорофилла в спирту оказывается на просвет красным, а на отражение – зелёным.

Для очень белого непрозрачного тела коэффициент отражения близок к единице для всех длин волн, а коэффициенты поглощения и пропускания очень малы. Прозрачное стекло имеет малые коэффициенты отражения и поглощения, а коэффициент пропускания для всех длин волн близкий к единице.

Различие в значениях коэффициентов α , τ и ρ и их зависимость от цвета (длины волны) падающего света обуславливают чрезвычайное разнообразие в цветах и оттенках различных тел.

16 Вставьте в предложение пропущенные слова, используя информацию из текста.

Явление _____ света объясняется различием в скорости распространения в среде световых лучей с различными длинами волн. Для видимого диапазона чем больше длина волны света, тем _____ показатель преломления.

17 Каков будет коэффициент поглощения для светового луча красного цвета, падающего на зелёное стекло?

Ответ: _____

18 Из двух сортов стекла – тяжёлый флинт и лёгкий крон – сделали одинаковые по размерам призмы, которые использовали в опыте по дисперсии света (см. рисунок в тексте). Как будут различаться спектры, полученные от двух разных призм? Ответ поясните.

Ответ: _____

