

ВСЕРОССИЙСКАЯ ПРОВЕРОЧНАЯ РАБОТА**ХИМИЯ
11 КЛАСС****Вариант 2****Инструкция по выполнению работы**

Проверочная работа включает в себя 15 заданий. На выполнение работы по химии отводится 1 час 30 минут (90 минут).

Оформляйте ответы в тексте работы согласно инструкциям к заданиям. В случае записи неверного ответа зачеркните его и запишите рядом новый.

При выполнении работы разрешается использовать следующие дополнительные материалы:

- Периодическая система химических элементов Д.И. Менделеева;
- таблица растворимости солей, кислот и оснований в воде;
- электрохимический ряд напряжений металлов;
- непрограммируемый калькулятор.

При выполнении заданий Вы можете использовать черновик. Записи в черновике проверяться и оцениваться не будут.

Советуем выполнять задания в том порядке, в котором они даны. Для экономии времени пропускайте задание, которое не удаётся выполнить сразу, и переходите к следующему. Если после выполнения всей работы у Вас останется время, Вы сможете вернуться к пропущенным заданиям.

Баллы, полученные Вами за выполненные задания, суммируются. Постарайтесь выполнить как можно больше заданий и набрать наибольшее количество баллов.

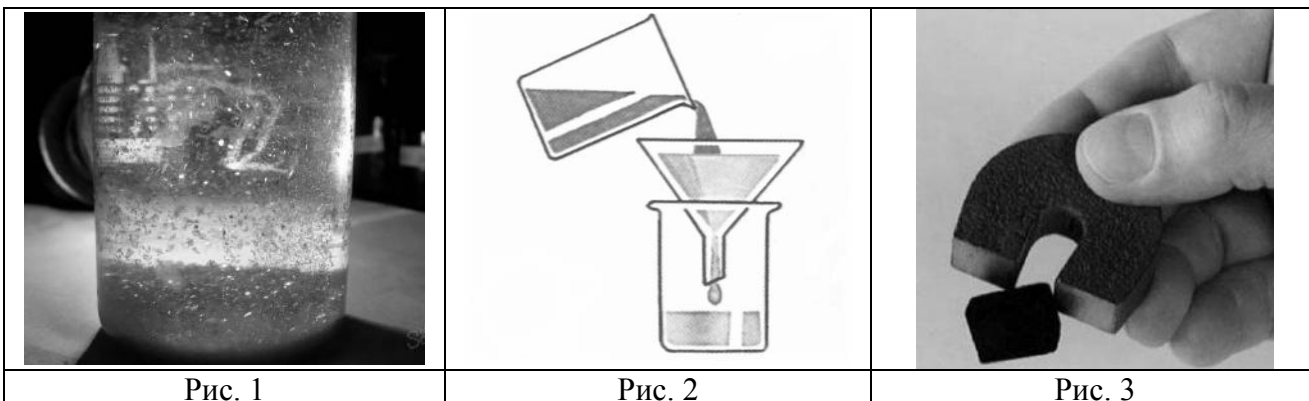
Желаем успеха!

Таблица для внесения баллов участника

Номер задания	1	2	3	4	5	6	7	8	9	10	11	12	13	14	15	Сумма баллов	Отметка за работу
Баллы																	

1

Из курса химии Вам известны следующие **способы** разделения смесей: *отстаивание, фильтрование, дистилляция (перегонка), действие магнитом, выпаривание, кристаллизация*. На рис. 1–3 изображены примеры использования некоторых из перечисленных способов.



Какие из изображённых способов можно применить для разделения смесей:

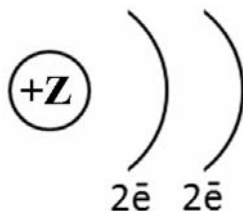
- 1) воды и находящихся в ней древесных стружек;
- 2) речного песка и железных стружек.

Запишите в таблицу номер рисунка и название соответствующего способа разделения смеси.

Смесь	Номер рисунка	Способ разделения смеси
Вода и древесные стружки		
Речной песок и железные стружки		

2

На рисунке изображена схема распределения электронов по энергетическим уровням атома некоторого химического элемента.



Рассмотрите предложенную схему и выполните следующие задания:

- 1) запишите в таблицу символ химического элемента, которому соответствует данная схема строения атома;
- 2) запишите номер периода и номер группы в Периодической системе химических элементов Д.И. Менделеева, в которых расположен этот элемент;
- 3) определите, к металлам или неметаллам относится простое вещество, которое образует этот элемент.

Ответ запишите в таблицу.

Ответ:

Символ химического элемента	№ периода	№ группы	Металл/ неметалл

3

2019 год объявлен Международным годом Периодической таблицы химических элементов Д.И. Менделеева. Мировое научное сообщество отметит 150-летие открытия Периодического закона химических элементов Д.И. Менделеевым в 1869 году.

Периодическая система химических элементов Д.И. Менделеева – богатое хранилище информации о химических элементах, их свойствах и свойствах их соединений. Так, например, известно, что с увеличением порядкового номера химического элемента кислотные свойства высших гидроксидов (кислот) в периодах усиливаются, а в группах ослабевают.

Учитывая эти закономерности, расположите в порядке усиления кислотных свойств их высших гидроксидов следующие элементы: углерод, бор, азот. В ответе запишите символы элементов в нужной последовательности.

Ответ: _____

4

В приведённой ниже таблице перечислены характерные свойства веществ с молекулярной и ионной кристаллическими решётками.

Характерные свойства веществ	
Молекулярная кристаллическая решётка	Ионная кристаллическая решётка
<ul style="list-style-type: none"> • При обычных условиях могут находиться в одном из трёх агрегатных состояний; • имеют низкие значения температур кипения и плавления; • не проводят электрический ток в расплавах и растворах; • имеют низкую теплопроводность 	<ul style="list-style-type: none"> • Твёрдые при обычных условиях; • хрупкие; • тугоплавкие; • нелетучие; • в расплавах и растворах проводят электрический ток

Используя данную информацию, определите, какую кристаллическую решётку имеют вещества: 1) оксид калия (K_2O); 2) сероводород (H_2S).

Ответ:

1) оксид калия _____

2) сероводород _____

Прочитайте следующий текст и выполните задания 5–7.

Содержание химического элемента азота в земной коре (включая гидросферу и атмосферу) составляет 0,04% по массе. При этом большая его часть находится в атмосфере в виде простого вещества (N_2). Азот является главной составной частью воздуха, его объёмная доля в воздухе составляет 78%.

Простое вещество азот химически довольно инертно. При обычных условиях азот реагирует только с литием, образуя нитрид (Li_3N), и лишь при нагревании образуются нитриды и других активных металлов. С кислородом азот реагирует при очень высокой температуре (выше $2000\text{ }^\circ\text{C}$), причём при этом образуется газ NO . В природных условиях протекание этой реакции возможно при разряде молнии во время грозы. С водородом азот вступает во взаимодействие при высокой температуре, повышенном давлении и в присутствии катализатора. Основное применение азота – в качестве исходного продукта для синтеза аммиака, азотной кислоты и некоторых других соединений. Кроме того, он применяется для заполнения электрических ламп, для создания инертной среды при промышленном проведении некоторых химических реакций, при перекачке горючих жидкостей.

Азотная кислота (HNO_3) является сильной кислотой. Она проявляет все общие свойства кислот: взаимодействует с основными и амфотерными оксидами, основаниями и амфотерными гидроксидами, солями слабых кислот. Продуктом реакции азотной кислоты с гидроксидом калия (KOH) является калийная селитра (KNO_3), широко используемая в качестве минерального удобрения. Также в качестве удобрений используются и другие соли азотной кислоты ($NaNO_3$, NH_4NO_3). Ещё одной областью применения азотной кислоты является производство взрывчатых веществ.

5

Сложные неорганические вещества условно можно распределить, то есть классифицировать, по четырём группам, как показано на схеме. В эту схему для каждой из четырёх групп *впишите* по одной химической формуле веществ из тех, о которых говорится в приведённом выше тексте.



6

1. Составьте молекулярное уравнение реакции азота с литием.

Ответ: _____

2. Укажите, к какому типу (соединения, разложения, замещения, обмена) относится эта реакция.

Ответ: _____

7

1. Составьте молекулярное уравнение упомянутой в тексте реакции между гидроксидом калия и азотной кислотой.

Ответ: _____

2. Укажите, где применяется продукт реакции гидроксида калия с азотной кислотой.

Ответ: _____

8

В составе воды озера Эльтон были обнаружены следующие ионы: Na^+ , Mg^{2+} , SO_4^{2-} . Для проведения качественного анализа к этой воде добавили раствор BaI_2 .

1. Укажите, какое изменение можно наблюдать в растворе при проведении данного опыта, учитывая, что концентрация веществ является достаточной для проведения анализа.

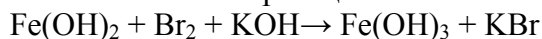
Ответ: _____

2. Запишите сокращённое ионное уравнение произошедшей химической реакции.

Ответ: _____

9

Дана схема окислительно-восстановительной реакции.



1. Составьте электронный баланс этой реакции.

Ответ: _____

2. Укажите окислитель и восстановитель.

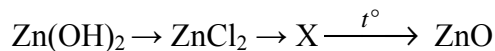
Ответ: _____

3. Расставьте коэффициенты в уравнении реакции.

Ответ: _____

10

Дана схема превращений:



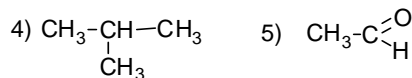
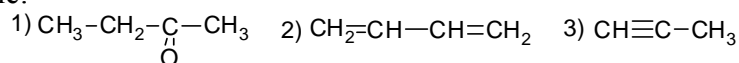
Напишите молекулярные уравнения реакций, с помощью которых можно осуществить указанные превращения.

1) _____

2) _____

3) _____

Для выполнения заданий 11–13 используйте вещества, структурные формулы которых приведены в перечне:



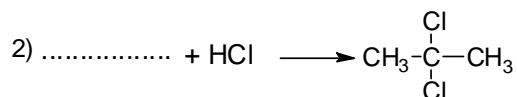
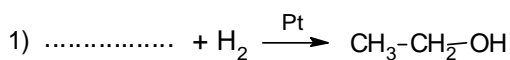
11

Из приведённого перечня выберите алкан и альдегид. Запишите в таблицу номера, под которыми указаны эти соединения.

Алкан	Альдегид

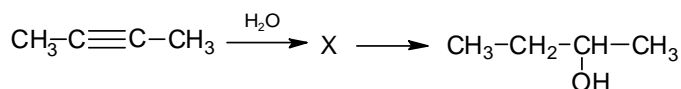
12

Составьте уравнения реакций: в предложенные схемы химических реакций впишите структурные формулы пропущенных веществ и расставьте коэффициенты.



13

Бутанол-2 используется как растворитель в лакокрасочной промышленности. Бутанол-2 можно получить в соответствии с приведённой схемой превращений:



Определите вещество X, выбрав его из предложенного выше перечня веществ. Запишите уравнения двух реакций, с помощью которых можно осуществить эти превращения. Запишите название вещества X.

При написании уравнений реакций используйте структурные формулы органических веществ.

- 1) _____
- 2) _____
- 3) _____

14

Одним из важных понятий в экологии и химии является «предельно допустимая концентрация» (ПДК). ПДК – это такая концентрация вредного вещества в окружающей среде, присутствуя в которой постоянно, данное вещество не оказывает прямого или косвенного неблагоприятного влияния на настоящее или будущее поколение в течение всей жизни, не снижает работоспособности человека, не ухудшает его самочувствия и условий жизни.

ПДК хлора в воздухе составляет $0,03 \text{ мг/м}^3$.

В помещении площадью 25 м^2 , с высотой потолка $2,8 \text{ м}$ при влажной уборке с использованием хлорсодержащих дезинфицирующих средств в воздух выделилось $2,2 \text{ мг}$ хлора. Определите и подтвердите расчётами, превышает ли концентрация хлора в воздухе данного помещения значение ПДК. Предложите способ, позволяющий снизить концентрацию хлора в помещении.

Ответ: _____

15

Для маринования опять используют маринад с массовой долей соли 7% . Рассчитайте массу соли и массу воды, необходимых для приготовления 800 г такого раствора. Запишите подробное решение задачи.

Ответ: _____
