

ВСЕРОССИЙСКАЯ ПРОВЕРОЧНАЯ РАБОТА**ХИМИЯ
11 КЛАСС****Вариант 2****Инструкция по выполнению работы**

Проверочная работа включает в себя 15 заданий. На выполнение работы по химии отводится 1 час 30 минут (90 минут).

Оформляйте ответы в тексте работы согласно инструкциям к заданиям. В случае записи неверного ответа зачеркните его и запишите рядом новый.

При выполнении работы разрешается использовать следующие дополнительные материалы:

- Периодическая система химических элементов Д.И. Менделеева;
- таблица растворимости солей, кислот и оснований в воде;
- электрохимический ряд напряжений металлов;
- непрограммируемый калькулятор.

При выполнении заданий Вы можете использовать черновик. Записи в черновике проверяться и оцениваться не будут.

Советуем выполнять задания в том порядке, в котором они даны. Для экономии времени пропускайте задание, которое не удаётся выполнить сразу, и переходите к следующему. Если после выполнения всей работы у Вас останется время, Вы сможете вернуться к пропущенным заданиям.

Баллы, полученные Вами за выполненные задания, суммируются. Постарайтесь выполнить как можно больше заданий и набрать наибольшее количество баллов.

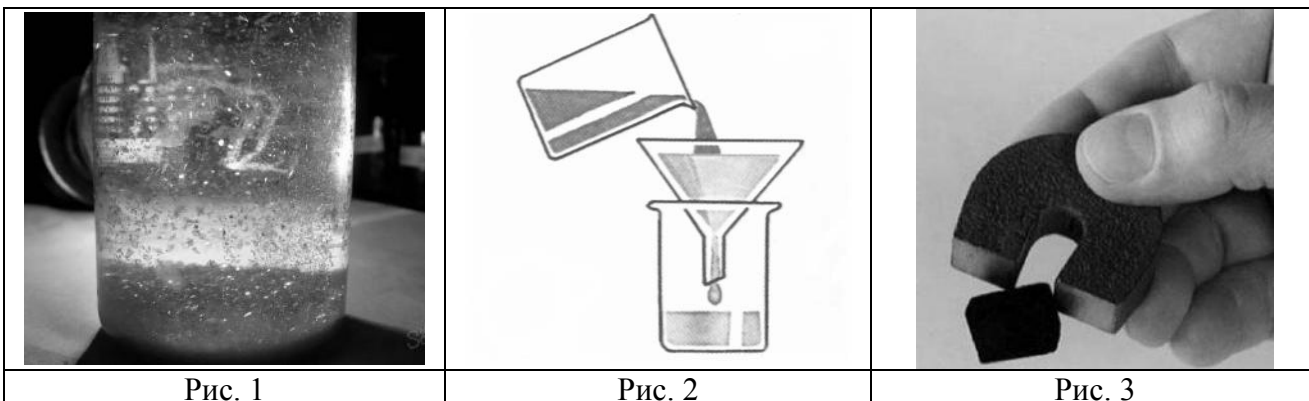
Желаем успеха!

Таблица для внесения баллов участника

Номер задания	1	2	3	4	5	6	7	8	9	10	11	12	13	14	15	Сумма баллов	Отметка за работу
Баллы																	

1

Из курса химии Вам известны следующие **способы** разделения смесей: *отстаивание, фильтрование, дистилляция (перегонка), действие магнитом, выпаривание, кристаллизация*. На рис. 1–3 изображены примеры использования некоторых из перечисленных способов.



Какие из изображённых способов можно применить для разделения смесей:

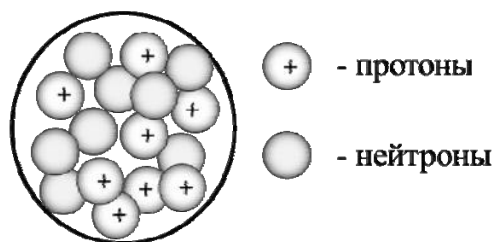
- 1) воды и находящихся в ней древесных стружек;
- 2) речного песка и железных стружек.

Запишите в таблицу номер рисунка и название соответствующего способа разделения смеси.

Смесь	Номер рисунка	Способ разделения смеси
Вода и древесные стружки		
Речной песок и железные стружки		

2

На рисунке изображена модель ядра атома некоторого химического элемента.



Ознакомьтесь с предложенной моделью и выполните следующие задания:

- 1) запишите символ химического элемента, которому соответствует данная модель атома;
- 2) укажите заряд ядра этого элемента и запишите номер группы в Периодической системе химических элементов Д.И. Менделеева, в которой расположен этот элемент;
- 3) определите, к металлам или неметаллам относится простое вещество, которое образует этот элемент.

Ответы запишите в таблицу.

Символ химического элемента	Заряд ядра	№ группы	Простое вещество

3

Периодическая система химических элементов Д.И. Менделеева – богатое хранилище информации о химических элементах, их свойствах и свойствах их соединений. Так, например, известно, что с увеличением порядкового номера химического элемента радиусы атомов в периодах уменьшаются, а в группах увеличиваются.

Учитывая эти закономерности, расположите в порядке уменьшения радиуса атомов следующие элементы: Si, O, N, P. Запишите символы элементов в нужной последовательности.

Ответ: _____

4

В приведённой ниже таблице перечислены характерные свойства веществ с металлической и ионной кристаллическими решётками.

Характерные свойства веществ	
С металлической кристаллической решёткой	С ионной кристаллической решёткой
<ul style="list-style-type: none"> • Твёрдые при обычных условиях; • высокая электропроводность; • пластичные; • высокая теплопроводность 	<ul style="list-style-type: none"> • Твёрдые при обычных условиях; • хрупкие; • тугоплавкие; • нелетучие; • в расплавах и растворах проводят электрический ток

Используя данную информацию, определите, какую кристаллическую решётку имеют вещества: 1) магний (Mg); 2) оксид кальция (CaO).

Ответ:

1) магний _____

2) оксид кальция _____

Прочитайте следующий текст и выполните задания 5–7.

Содержание химического элемента кремния в земной коре составляет по разным данным от 27,6 до 29,5 % по массе. Таким образом, по распространённости в земной коре он занимает второе место после кислорода. Чаще всего в природе кремний встречается в виде кремнезёма — соединений на основе диоксида кремния (SiO_2). Основные минералы и горные породы, образуемые оксидом кремния, — это речной и кварцевый песок, кварц и кварциты, кремень, полевые шпаты. Вторую по распространённости в природе группу соединений кремния составляют силикаты и алюмосиликаты.

Простое вещество кремний получают взаимодействием раскаленного оксида кремния с углём. Другим продуктом этой реакции является угарный газ (CO). При комнатной температуре кремний малоактивен и реагирует только со фтором с образованием фторида кремния(IV). При нагревании он реагирует с хлором, бромом, кислородом, различными металлами. При растворении кремния в концентрированных растворах щелочей (NaOH , KOH) образуются силикаты (Na_2SiO_3 , K_2SiO_3). Силикаты также можно получить при взаимодействии оксида кремния (SiO_2) со щелочами. При взаимодействии растворов силикатов с кислотами (HCl , H_2SO_4) в осадок выделяется кремниевая кислота, состав которой условно выражают формулой H_2SiO_3 .

5

Сложные неорганические вещества условно можно распределить, то есть классифицировать, по четырём группам, как показано на схеме. В эту схему для каждой из четырёх групп *впишите* по одной химической формуле веществ, из тех, о которых говорится в приведённом выше тексте.



6

1. Составьте уравнение упомянутой в тексте реакции оксида кремния с углеродом.

Ответ: _____

2. Укажите, к какому типу (соединения, разложения, замещения, обмена) относится эта реакция.

Ответ: _____

7

1. Составьте молекулярное уравнение реакции между оксидом кремния и гидроксидом калия.

Ответ: _____

2. Укажите, является ли эта реакция окислительно-восстановительной или протекает без изменения степеней окисления.

Ответ: _____

8

В составе воды озера Эльтон были обнаружены следующие ионы: Na^+ , Mg^{2+} , SO_4^{2-} . Для проведения качественного анализа к этой воде добавили раствор BaI_2 .

1. Укажите, какое изменение можно наблюдать в растворе при проведении данного опыта, учитывая, что концентрация веществ является достаточной для проведения анализа.

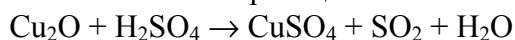
Ответ: _____

2. Запишите сокращённое ионное уравнение произошедшей химической реакции.

Ответ: _____

9

Дана схема окислительно-восстановительной реакции.



1. Составьте электронный баланс этой реакции.

Ответ: _____

2. Укажите окислитель и восстановитель.

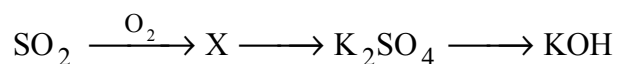
Ответ: _____

3. Расставьте коэффициенты в уравнении реакции.

Ответ: _____

10

Дана схема превращений:



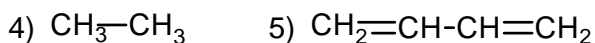
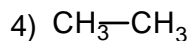
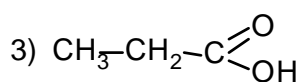
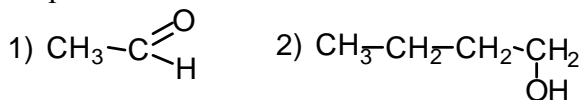
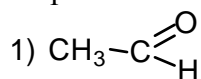
Напишите молекулярные уравнения реакций, с помощью которых можно осуществить указанные превращения.

1) _____

2) _____

3) _____

Для выполнения заданий 11–13 используйте вещества, структурные формулы которых приведены в перечне:



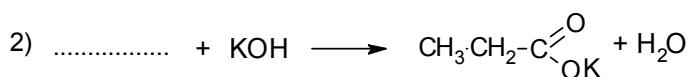
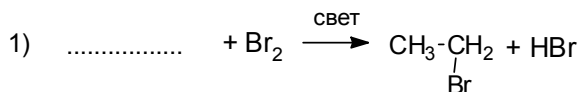
11

Из приведённого перечня выберите алкадиен и альдегид. Запишите в таблицу номера, под которыми указаны эти соединения.

Алкадиен	Альдегид

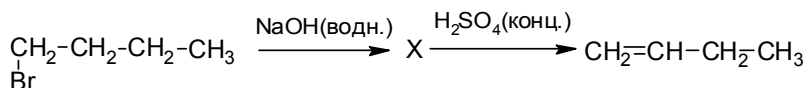
12

Составьте уравнения реакций: в предложенные схемы химических реакций впишите структурные формулы пропущенных веществ и расставьте коэффициенты.



13

Бутен-1 является ценным промышленным сырьём. Его используют для синтеза бутадиена, бутанола и изookтана. Бутен-1 можно получить в соответствии с приведённой схемой превращений:



Определите вещество X, выбрав его из предложенного выше перечня веществ. Запишите уравнения двух реакций, с помощью которых можно осуществить эти превращения. Запишите название вещества X.

При написании уравнений реакций используйте структурные формулы органических веществ.

1) _____

2) _____

3) _____

14

Одним из важных понятий в экологии и химии является «предельно допустимая концентрация» (ПДК). ПДК – это такая концентрация вредного вещества в окружающей среде, присутствуя в которой постоянно, данное вещество не оказывает прямого или косвенного неблагоприятного влияния на настоящее или будущее поколение в течение всей жизни, не снижает работоспособности человека, не ухудшает его самочувствия и условий жизни.

ПДК хлора в воде бассейнов составляет $0,5 \text{ мг/м}^3$.

Для хлорирования воды в бассейне аквапарка глубиной 1,5 м, шириной 10 м и длиной 30 м использовали 180 мг хлора. Определите и подтвердите расчётами, превышает ли концентрация хлора в воде данного бассейна значение ПДК. Предложите способ, позволяющий снизить концентрацию хлора в воде.

Ответ: _____

15

Для обработки ожоговых поверхностей кожи используют 2%-ный раствор перманганата калия. Рассчитайте, сколько грамм раствора нужной концентрации можно получить из 5 грамм этой соли, и массу воды, которая потребуется для приготовления этого раствора. Запишите подробное решение задачи.

Ответ: _____

