

**ВСЕРОССИЙСКАЯ ПРОВЕРОЧНАЯ РАБОТА****ХИМИЯ  
11 КЛАСС****Вариант 1****Инструкция по выполнению работы**

Проверочная работа включает в себя 15 заданий. На выполнение работы по химии отводится 1 час 30 минут (90 минут).

Оформляйте ответы в тексте работы согласно инструкциям к заданиям. В случае записи неверного ответа зачеркните его и запишите рядом новый.

При выполнении работы разрешается использовать следующие дополнительные материалы:

- Периодическая система химических элементов Д.И. Менделеева;
- таблица растворимости солей, кислот и оснований в воде;
- электрохимический ряд напряжений металлов;
- непрограммируемый калькулятор.

При выполнении заданий Вы можете использовать черновик. Записи в черновике проверяться и оцениваться не будут.

Советуем выполнять задания в том порядке, в котором они даны. Для экономии времени пропускайте задание, которое не удаётся выполнить сразу, и переходите к следующему. Если после выполнения всей работы у Вас останется время, Вы сможете вернуться к пропущенным заданиям.

Баллы, полученные Вами за выполненные задания, суммируются. Постарайтесь выполнить как можно больше заданий и набрать наибольшее количество баллов.

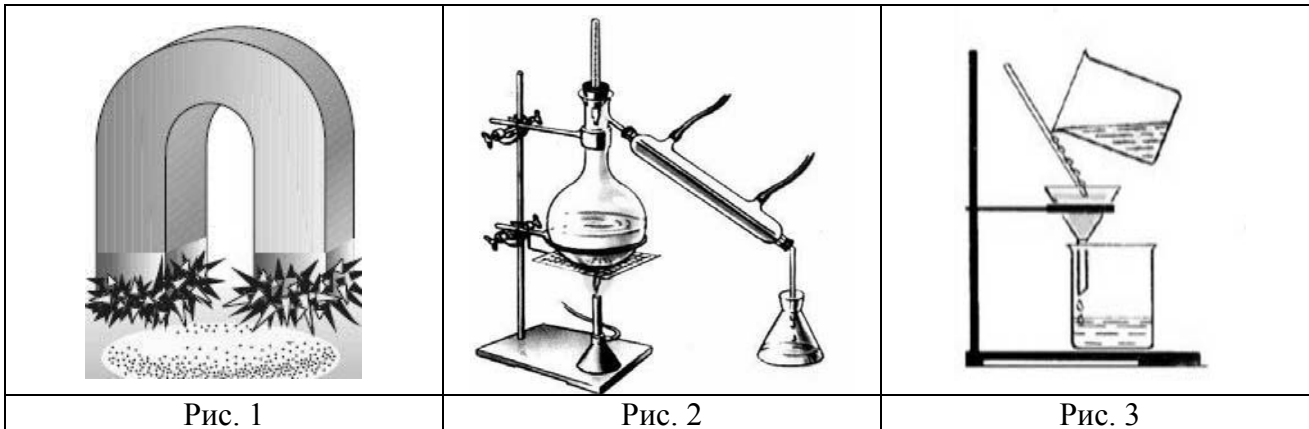
***Желаем успеха!***

*Таблица для внесения баллов участника*

Номер задания	1	2	3	4	5	6	7	8	9	10	11	12	13	14	15	Сумма баллов	Отметка за работу
Баллы																	

1

Из курса химии Вам известны следующие **способы** разделения смесей: *отстаивание, фильтрование, дистилляция (перегонка), действие магнитом, выпаривание, кристаллизация*. На рисунках 1–3 представлены примеры использования некоторых из перечисленных способов.



Какие из названных способов разделения смесей можно применить для отделения:

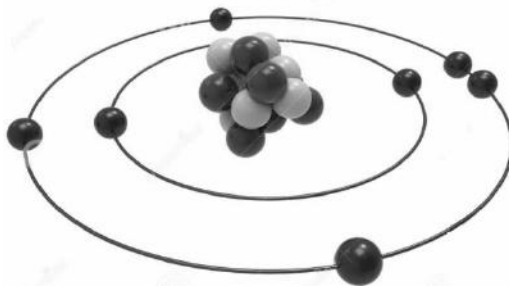
- 1) железных и пластиковых скрепок;
- 2) воды от заварки чая (листья чая)?

Запишите в таблицу номер рисунка и название соответствующего способа разделения смеси.

Смесь	Номер рисунка	Способ разделения смеси
железные и пластиковые скрепки		
вода и заварка чая (листья чая)		

2

На рисунке изображена модель электронного строения атома некоторого химического элемента.



Ознакомьтесь с предложенной моделью и выполните следующие задания:

- 1) определите заряд ядра атома химического элемента, атом которого имеет такое электронное строение;
- 2) укажите номер периода и номер группы в Периодической системе химических элементов Д.И. Менделеева, в которых расположен этот элемент;
- 3) определите, к какой группе оксидов (кислотным, основным или амфотерным) относится высший оксид этого химического элемента.

Ответы запишите в таблицу.

Заряд ядра	№ периода	№ группы	Оксид

3

2019 год объявлен Международным годом Периодической таблицы химических элементов Д.И. Менделеева. Мировое научное сообщество отметит 150-летие открытия Периодического закона химических элементов Д.И. Менделеевым в 1869 году.

Периодическая система химических элементов Д.И. Менделеева – богатое хранилище информации о химических элементах, их свойствах и свойствах их соединений. Так, например, известно, что с увеличением порядкового номера химического элемента способность атомов принимать электроны – окислительные свойства – в периодах усиливается, а в группах ослабевает.

Учитывая эти закономерности, расположите в порядке усиления их окислительных свойств следующие элементы: азот, фтор, углерод. В ответе запишите символы элементов в нужной последовательности.

Ответ: \_\_\_\_\_

4

В приведённой ниже таблице перечислены характерные свойства веществ молекулярного и ионного строения.

Характерные свойства веществ	
Молекулярного строения	Ионного строения
<ul style="list-style-type: none"> <li>• имеют низкие значения температур кипения и плавления;</li> <li>• не проводят электрический ток в расплавах и растворах;</li> <li>• имеют низкую теплопроводность</li> </ul>	<ul style="list-style-type: none"> <li>• твёрдые при обычных условиях;</li> <li>• хрупкие;</li> <li>• тугоплавкие;</li> <li>• нелетучие;</li> <li>• в расплавах и растворах проводят электрический ток</li> </ul>

Используя данную информацию, определите, какое строение имеют вещества:

1) хлор ( $\text{Cl}_2$ );

2) сода ( $\text{Na}_2\text{CO}_3$ ).

Запишите ответ в отведённом месте:

1) Хлор имеет \_\_\_\_\_

2) Сода имеет \_\_\_\_\_

**Прочитайте следующий текст и выполните задания 5–7.**

Сульфит натрия ( $\text{Na}_2\text{SO}_3$ ) – это синтетически созданный консервант, применяющийся в пищевой, фармацевтической и лёгкой промышленности. На этикетках пищевых продуктов сульфит натрия обозначается как E221. Ещё одно распространённое название этого вещества – Sodium Sulphite. E221 незаменим в производстве мармелада, зефира, варенья, пастилы, повидла, джема, соков и пюре из фруктов и ягод, ягодных полуфабрикатов, овощного пюре.

Получить сульфит натрия можно в результате реакции сернистого газа ( $\text{SO}_2$ ) с раствором карбоната натрия ( $\text{Na}_2\text{CO}_3$ ) или гидроксида натрия ( $\text{NaOH}$ ). При действии на сульфит натрия раствора хлороводорода ( $\text{HCl}$ ) выделяется сернистый газ, который относят к веществам третьего класса опасности.

5

Сложные неорганические вещества можно классифицировать по четырём группам, как показано на схеме. В эту схему для каждой из четырёх групп *впишите* по одной химической формуле веществ из числа тех, о которых говорится в приведённом тексте.



6

1. Составьте одно из молекулярных уравнений реакций получения сульфита натрия.

Ответ: \_\_\_\_\_

2. Укажите, к какому типу (соединения, разложения, замещения, обмена) относится эта реакция.

Ответ: \_\_\_\_\_

\_\_\_\_\_

7

1. Составьте молекулярное уравнение реакции сульфита натрия с соляной кислотой, о которой говорилось в тексте.

Ответ: \_\_\_\_\_

2. Укажите признак, который наблюдается при протекании этой реакции.

Ответ: \_\_\_\_\_

\_\_\_\_\_

8

В исследованной воде из местного ручья были обнаружены следующие анионы:  $\text{Cl}^-$ ,  $\text{Br}^-$ ,  $\text{F}^-$ . Для проведения качественного анализа к этой воде добавили раствор  $\text{Ca}(\text{NO}_3)_2$ .

1. Какие изменения в растворе можно наблюдать при проведении данного опыта (концентрация веществ достаточная для проведения анализа)?

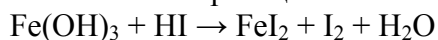
Ответ: \_\_\_\_\_

2. Запишите сокращённое ионное уравнение произошедшей химической реакции.

Ответ: \_\_\_\_\_

9

Дана схема окислительно-восстановительной реакции.



1. Составьте электронный баланс этой реакции.

Ответ: \_\_\_\_\_

\_\_\_\_\_

2. Укажите окислитель и восстановитель.

Ответ: \_\_\_\_\_

3. Расставьте коэффициенты в уравнении реакции.

Ответ: \_\_\_\_\_

10

Дана схема превращений:



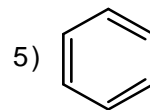
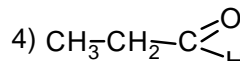
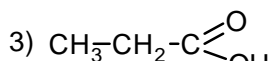
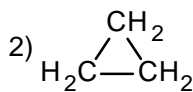
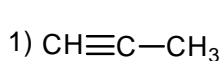
Напишите молекулярные уравнения реакций, с помощью которых можно осуществить указанные превращения.

1) \_\_\_\_\_

2) \_\_\_\_\_

3) \_\_\_\_\_

Для выполнения заданий 11–13 используйте вещества, структурные формулы которых приведены в перечне:



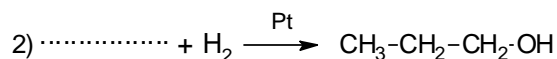
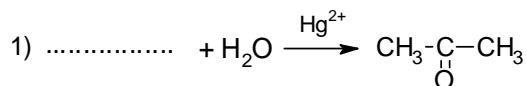
11

Из приведённого перечня выберите ароматический углеводород и карбоновую кислоту. Запишите в таблицу номера выбранных веществ.

Ароматический углеводород	Карбоновая кислота

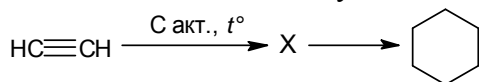
12

Составьте уравнения реакций: в предложенные схемы химических реакций впишите структурные формулы пропущенных веществ и расставьте коэффициенты.



13

Циклогексан – бесцветная жидкость с характерным запахом. Он является простейшим представителем ароматических углеводородов, обладает целым рядом важных свойств и широко используется в промышленности и лабораторной практике. В лаборатории циклогексан можно получить в соответствии с приведённой схемой превращений:



Определите вещество X, выбрав его из предложенного выше перечня веществ. Запишите уравнения двух реакций, с помощью которых можно осуществить эти превращения. Запишите название вещества X.

При написании уравнений реакций используйте структурные формулы органических веществ.

1) \_\_\_\_\_

2) \_\_\_\_\_

3) \_\_\_\_\_

14

Одним из важных понятий в экологии и химии является «предельно допустимая концентрация» (ПДК). ПДК — это такая концентрация вещества в окружающей среде, которая при повседневном воздействии в течение длительного времени не оказывает прямого или косвенного неблагоприятного влияния на настоящее или будущее поколение, не снижает работоспособности человека, не ухудшает его самочувствия и условий жизни.

ПДК хлора в воздухе составляет  $0,03 \text{ мг/м}^3$ .

В раздевалке бассейна, помещении площадью  $18 \text{ м}^2$  и высотой потолка  $2 \text{ м } 80 \text{ см}$ , при влажной уборке с использованием хлорсодержащих дезинфицирующих средств в воздух выделилось  $1,8 \text{ мг}$  хлора. Определите и подтвердите расчётами, превышает ли концентрация хлора в воздухе данного помещения значение ПДК. Предложите способ, позволяющий снизить концентрацию хлора в помещении.

Ответ: \_\_\_\_\_

\_\_\_\_\_

\_\_\_\_\_

15

Раствор пищевой соды уменьшит зуд от укусов комаров. Для приготовления такого раствора взяли 1 столовую ложку ( $12 \text{ г}$ ) соды и примерно треть стакана воды. При этом был получен раствор с массовой долей соды  $12,5\%$ . Рассчитайте массу полученного раствора и массу воды, взятой для его приготовления. Запишите подробное решение задачи.

Ответ: \_\_\_\_\_

\_\_\_\_\_

\_\_\_\_\_