

**Проверочная работа  
по МАТЕМАТИКЕ**

**4 КЛАСС**

**Вариант 1**

**Инструкция по выполнению работы**

На выполнение работы по математике даётся 45 минут. Работа содержит 12 заданий.

В заданиях, после которых есть поле со словом «Ответ», запиши ответ в указанном месте.

В заданиях 5 (пункт 2) и 11 нужно сделать чертёж или рисунок. В задании 10 нужно записать ответ, заполнив приведённую форму.

В заданиях, после которых есть поле со словами «Решение» и «Ответ», запиши решение и ответ в указанном месте.

Если ты хочешь изменить ответ, то зачеркни его и запиши рядом новый.

При выполнении работы нельзя пользоваться учебниками, рабочими тетрадями, справочниками, калькулятором.

При необходимости можно пользоваться черновиком. Записи в черновике проверяться и оцениваться не будут.

Советуем выполнять задания в том порядке, в котором они даны. Для экономии времени пропускай задание, которое не удаётся выполнить сразу, и переходи к следующему. Постарайся выполнить как можно больше заданий.

***Желаем успеха!***

*Таблица для внесения баллов участника*

Номер задания	1	2	3	4	5(1)	5(2)	6(1)	6(2)	7	8	9(1)	9(2)	10	11	12	Сумма баллов	Отметка за работу
Баллы																	

1

Вычисли:  $72 : 12$ .

□

Ответ:																			
--------	--	--	--	--	--	--	--	--	--	--	--	--	--	--	--	--	--	--	--

2










Вычисли:  $7 + 95 : 5 + 14$ .

□

Ответ:																			
--------	--	--	--	--	--	--	--	--	--	--	--	--	--	--	--	--	--	--	--

3

В магазине продаются овощи. На рисунке указана цена 1 кг.

 Морковь 9 руб.	 Картофель 22 руб.	 Капуста 26 руб.
 Репчатый лук 32 руб.	 Кабачки 97 руб.	 Свёкла 14 руб.
 Редис 58 руб.	 Перец 73 руб.	 Чеснок 180 руб.

Покупатель взял шесть килограммов картофеля. Сколько рублей сдачи получит покупатель с 1000 рублей?

Запиши решение и ответ.

□

Решение.																			
Ответ:																			



6

Среди школьников провели опрос «Твой любимый вид спорта». Результаты опроса показаны в таблице. Ответь на вопросы.

Класс	Бег на коньках	Гимнастика	Велогонки	Футбол
6-й класс	3	5	7	8
7-й класс	8	6	3	2
8-й класс	5	9	4	5

1) В каком классе больше всего школьники любят бег на коньках?

Ответ:																																				

2) Сколько всего школьников этих классов назвали своим любимым видом спорта велогонки?

Ответ:																																					

7

Найди значение выражения  $130 \cdot 6 - 680 : 4$ .

Ответ:																																						

8

Пять килограммов варенья разложили по маленьким и большим банкам. В каждую большую банку помещается 500 г варенья, а в маленькую — 300 г. Получилось 7 больших банок варенья. Сколько понадобилось маленьких банок?

Запиши решение и ответ.

Решение.	
Ответ:	

9

Номер телефона Ани состоит из семи цифр, причём каждая следующая цифра (при чтении слева направо) меньше предыдущей. В записной книжке её подруги Иры Анин номер телефона размылся, поэтому теперь там видно только то, что последняя цифра её номера — «2», а четвёртая — «5».

1) Какая цифра в Анином номере телефона идёт пятой?

Ответ:	

2) Перечисли все цифры, которые могут стоять на первом месте в Анином номере телефона.

Ответ:	

10

Ира написала сочинение «Наш дачный посёлок».

*У нас на даче есть водопровод. Это потому что есть водонапорная башня, которую на плане рисуют как чёрный шестиугольник, хотя на самом деле она круглая. Мы живем рядом с этой башней, и у нас на участке растёт большая сосна, а больше сосен ни у кого нет. Если встать спиной к водонапорной башне, а лицом к нашему участку, то слева будет спортивная площадка, а за ней дача моей подруги Кати. А справа будет строящийся дом и рядом дача другой моей подруги, Лены. У меня много друзей, но на даче только две. Потому что больше у нас девочек в посёлке нет.*

*Есть ещё соседи, конечно. Около ворот у нас живёт Марина Сергеевна. У неё участок ни с кем не граничит — отдельно стоит. А у Катинной дачи общий забор с дачей Алексея Ивановича. Между участками Алексея Ивановича и Марины Сергеевны ещё одна дача. Там живёт семья Свиридовых, но детей у них нет. Иногда, когда мы играем в бадминтон на спортплощадке, воланчик залетает к ним на участок. Тогда мы берём новый воланчик, а в субботу Свиридовы приезжают и отдают нам сразу все воланчики со своего участка. Но не ругаются. К Кате тоже иногда воланчик падает, но Катя его сразу достаёт.*

Рассмотри план посёлка и, пользуясь описанием, которое дала Ира, обозначь цифрами на плане шесть участков.

1. Участок, где живёт автор сочинения Ира.
2. Участок, где живёт подруга Иры Катя.
3. Участок, где живёт подруга Иры Лена.
4. Участок Марины Сергеевны.
5. Участок Алексея Ивановича.
6. Участок семьи Свиридовых.

