

**Проверочная работа
по МАТЕМАТИКЕ**

4 КЛАСС

Вариант 1

Инструкция по выполнению работы

На выполнение работы по математике даётся 45 минут. Работа содержит 12 заданий.

В заданиях, после которых есть поле со словом «Ответ», запиши ответ в указанном месте.

В заданиях 5 (пункт 2) и 11 нужно сделать чертёж или рисунок. В задании 10 нужно записать ответ, заполнив приведённую форму.

В заданиях, после которых есть поле со словами «Решение» и «Ответ», запиши решение и ответ в указанном месте.

Если ты хочешь изменить ответ, то зачеркни его и запиши рядом новый.

При выполнении работы нельзя пользоваться учебниками, рабочими тетрадями, справочниками, калькулятором.

При необходимости можно пользоваться черновиком. Записи в черновике проверяться и оцениваться не будут.

Советуем выполнять задания в том порядке, в котором они даны. Для экономии времени пропускай задание, которое не удаётся выполнить сразу, и переходи к следующему. Постарайся выполнить как можно больше заданий.

Желаем успеха!

Таблица для внесения баллов участника

Номер задания	1	2	3	4	5(1)	5(2)	6(1)	6(2)	7	8	9(1)	9(2)	10	11	12	Сумма баллов	Отметка за работу
Баллы																	

4 Диана с сестрой собираются пойти в кино. Сеанс начинается в 16 ч 00 мин. На сколько минут опоздают девочки, если дорога занимает 1 ч 10 мин., а из дома они вышли в 15 ч 10 мин.?


□	Ответ:	
---	--------	--

5 Ниже на клетчатом поле со стороной клетки 1 см изображена фигура.

1) Найди периметр этой фигуры.

□	Ответ:	
---	--------	--

2) На клетчатом поле рядом с фигурой нарисуй прямоугольник, площадь которого равна площади данной фигуры.



□

8

В больших пачках по 500 листов бумаги, а в малых — по 250 листов. В понедельник в типографии было 30 больших пачек и 17 малых пачек бумаги, а к концу недели осталось ровно 18 больших пачек и ровно 8 малых пачек бумаги. Сколько листов бумаги израсходовано за неделю?

Запиши решение и ответ.

Решение.

 Ответ:

9

Ксюша собирала пазлы. Первый пазл, который она собрала, состоял из 400 деталей, а в каждом следующем пазле было на 100 деталей больше, чем в предыдущем. Всего Ксюша собрала шесть пазлов.

1) Сколько деталей было в пятом пазле, собранном Ксюшей?

 Ответ:

2) Сколько всего деталей установила Ксюша, правильно собрав все шесть пазлов?

 Ответ:

10

Юля написала сочинение «Поездка в соседний город» и начертила план этого города.

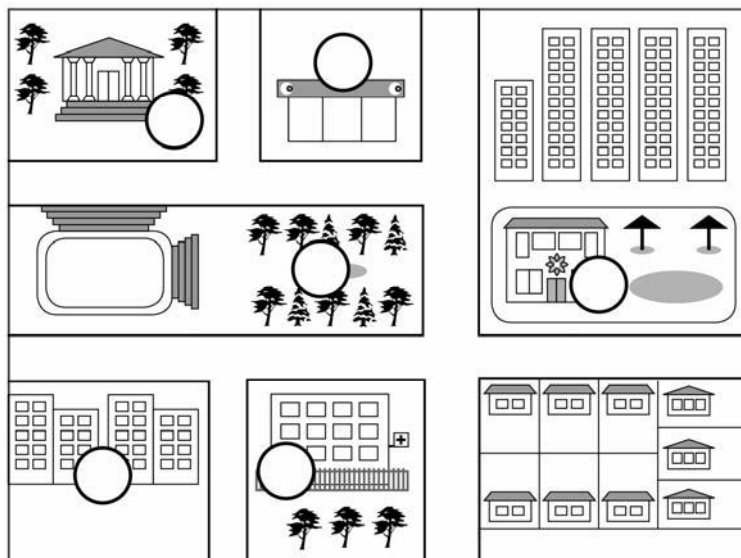
На каникулах мы с моими родителями поехали на машине в соседний город в гости к папиному брату дяде Славе. Я очень люблю смотреть в окно, всю дорогу смотрела.

Когда мы въехали в город, справа показалось большое здание с колоннами, окружённое деревьями. Папа сказал, что это городской театр. Я прочитала на афише, что сегодня будет спектакль «Алиса в Зазеркалье». Слева тоже было большое здание, но не театр, а магазин. Дальше дороги прямо не было. Только налево или направо. Мы свернули налево. Справа потянулся большой парк, в котором я увидела маленькое озеро и гуляющих по тропинкам людей. Когда мы доехали до конца парка, то повернули направо. Слева я увидела большую красивую школу.

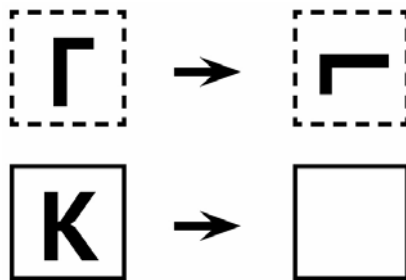
На следующем перекрёстке мы снова повернули направо, и слева я увидела светлое здание городской больницы, перед ним за невысоким заборчиком росли деревья. После этого снова показался перекрёсток: от главной улицы налево уходила неширокая улочка, на которую мы свернули. Оказалось, что она ведёт к жилому кварталу. Нам нужно именно туда. В одном из этих домов живёт дядя Слава с семьёй. Они все вышли встречать нас. Я увидела их из машины и замахала рукой.

Рассмотри план города. Пользуясь описанием, которое дала Юля, отметь на плане цифрами шесть объектов.

1. Театр.
2. Больница.
3. Жилой квартал, в котором находится дом дяди Славы.
4. Парк.
5. Магазин.
6. Школа.



11 Преобразуй букву по образцу:



12 В коробке лежат синие, красные и зелёные карандаши. Всего их 22 штуки. Синих карандашей в 7 раз больше, чем зелёных, а красных меньше, чем синих. Сколько в коробке красных карандашей?

Запиши решение и ответ.

Решение.	
Ответ:	