

**Проверочная работа
по БИОЛОГИИ**

5 КЛАСС

Вариант 2

Инструкция по выполнению работы

На выполнение работы по биологии даётся 45 минут. Работа включает в себя 10 заданий.

Ответы на задания запишите в поля ответов в тексте работы. В случае записи неверного ответа зачеркните его и запишите рядом новый.

При выполнении работы не разрешается пользоваться учебником, рабочими тетрадями и другим справочным материалом.

При необходимости можно пользоваться черновиком. Записи в черновике проверяться и оцениваться не будут.

Советуем выполнять задания в том порядке, в котором они даны. В целях экономии времени пропускайте задание, которое не удаётся выполнить сразу, и переходите к следующему. Если после выполнения всей работы у Вас останется время, то Вы сможете вернуться к пропущенным заданиям.

Желаем успеха!

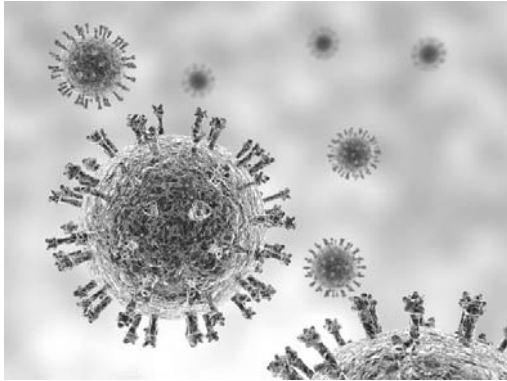
Таблица для внесения баллов участника

Номер задания	1.1	1.2	1.3	2.1	2.2	3.1	3.2	4.1	4.2	4.3	5	6.1	6.2	7.1	7.2	8	9	10 К1	10 К2	10 К3	Сумма баллов	Отметка за работу
Баллы																						

1

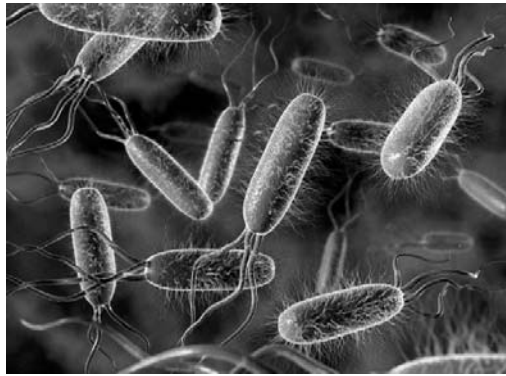
Рассмотрите фотографии с изображением представителей различных объектов природы.

1.1. Подпишите их названия, используя слова из предложенного списка: *бактерии, вирусы, растения.*



А. _____

Б. _____



В. _____

1.2. Два из изображённых на фотографиях объекта объединены общим признаком. Выпишите название объекта, «выпадающего» из общего ряда. Объясните свой выбор.

Ответ. _____

1.3. В приведённом ниже списке даны характеристики объектов живой природы. Все они, за исключением одной, относятся к характеристикам объекта, изображённого в задании 1.1 над буквой Б. Выпишите эту характеристику, которая «выпадает» из общего ряда. Объясните свой выбор.

Неограниченный рост, активный образ жизни, клеточное строение, половое размножение.

Ответ. _____

2

2.1. Комнатное растение декабрист за три месяца увеличился в размере в два раза. Найдите в приведённом ниже списке и запишите название этого процесса.

Рост, развитие, движение, размножение.

Ответ. _____

2.2. В чём заключается значение этого процесса для растения?

Ответ. _____

3

3.1. Выберите из приведённого ниже списка два примера оборудования, которые следует использовать для исследования движения лесного слизня в лаборатории.

Список приборов:

- 1) пинцет
- 2) ручная лупа
- 3) мерный цилиндр
- 4) покровное стекло
- 5) бинокль

Запишите в таблицу номера выбранных примеров оборудования.

Ответ.

--	--

3.2. Знаниями в области какой биологической науки Вы воспользуетесь, проводя такое исследование?

Ответ. _____

4 4.1. Антон на уроке изучал устройство микроскопа и делал соответствующие подписи к рисунку. Какую деталь микроскопа на рисунке он обозначил буквой А?



Ответ. _____

4.2. Какую функцию выполняет эта часть микроскопа при работе с ним?

Ответ. _____

4.3. Антон рассмотрел клетки корня фасоли под микроскопом, на котором было указано:

- увеличение объектива – 10;
- увеличение окуляра – 10.

Какое увеличение даёт данный микроскоп?

Ответ. _____

5 Алина и Николай собрали и подготовили для гербария образцы растений. Для каждого растения им необходимо составить «паспорт», соответствующий положению этого растения в общей классификации организмов. Помогите ребятам записать в таблицу **слова (словосочетание)** из предложенного списка (или их цифровые обозначения) в такой последовательности, чтобы получился «паспорт» растения, изображённого на фотографии.



Одуванчик лекарственный

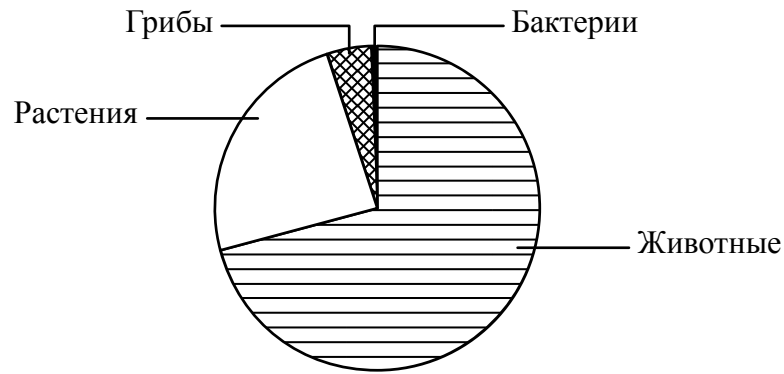
Список слов (словосочетание):

- 1) Покрытосеменные (Цветковые)
- 2) Одуванчик
- 3) Растения
- 4) Одуванчик лекарственный

Царство	Отдел	Род	Вид

6

На диаграмме показано примерное соотношение количества видов разных царств живой природы.



6.1. Определите царство, в котором насчитывается максимальное количество видов по сравнению с другими.

Ответ. _____

6.2. Как можно объяснить низкое разнообразие видов представителей царства Бактерии?

Ответ. _____

7

Прочитайте текст и выполните задания.

(1)Томат, или помидор, – однолетнее или многолетнее травянистое светолюбивое и теплолюбивое растение, возделываемое человеком в качестве овощной культуры. (2)Стебель у томата прямостоячий или полегающий, ветвящийся, высотой от 30 см до 2 м. (3)Цветки мелкие, жёлтые, невзрачные, собраны в кисть. (4)Родина помидоров – Южная Америка, где до сих пор встречаются дикие и полукультурные формы томата. (5)Томат культивируется в умеренной климатической зоне по всему земному шару, плоды томата используются в пищевом рационе населения стран Северного полушария. (6)Плоды многих сортов помидоров в России не успевают созревать без дополнительных агротехнических приёмов.

7.1. В каких предложениях текста описывается внешнее строение томата? Запишите номера выбранных предложений.

Ответ: _____

7.2. Сделайте описание фитофторы по следующему плану.

А) Какую среду обитания освоила фитофтора?

Ответ: _____

Б) Какой признак внешнего строения фитофторы указывает на её приспособленность к жизни в условиях этой среды? Ответ поясните.

Ответ: _____

В) Какие отношения складываются между фитофторой и томатом в искусственных экосистемах?

Ответ: _____



8

Заполните пустые ячейки на схеме, выбрав необходимые слова и/или словосочетания из приведённого списка.

Верблюд, тайга, саксаул, полярный заяц, ель, тундра, камнеломка жестколистная, глухарь, степь.



9

Как Вы думаете, какое правило устанавливается изображённым на рисунке знаком?

Напишите в ответе это правило и укажите место, где можно встретить такой знак.



Ответ. _____



10

На фотографии изображён представитель одной из профессий, связанных с биологией. Определите эту профессию.



Ответ. _____

Напишите, какую работу выполняют люди этой профессии. Чем эта работа полезна обществу?

Ответ. _____
