

**Проверочная работа
по БИОЛОГИИ**

6 КЛАСС

Вариант 1

Инструкция по выполнению работы

На выполнение работы по биологии отводится 45 минут. Работа включает в себя 10 заданий.

Ответы на задания запишите в поля ответов в тексте работы. В случае записи неверного ответа зачеркните его и запишите рядом новый.

При выполнении работы не разрешается пользоваться учебником, рабочими тетрадями и другим справочным материалом. Разрешается использовать линейку.

При необходимости можно пользоваться черновиком. Записи в черновике проверяться и оцениваться не будут.

Советуем выполнять задания в том порядке, в котором они даны. В целях экономии времени пропускайте задание, которое не удаётся выполнить сразу, и переходите к следующему. Если после выполнения всей работы у Вас останется время, то Вы сможете вернуться к пропущенным заданиям.

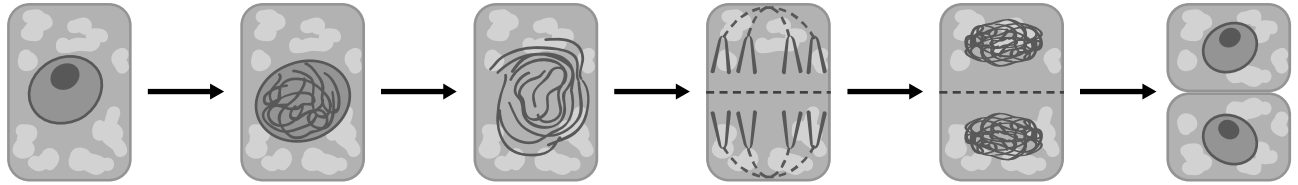
Желаем успеха!

Таблица для внесения баллов участника

Номер задания	1.1	1.2	1.3	2.1	2.2	3.1	3.2	3.3	3.4	4	5.1	5.2	5.3	6	7	8.1	8.2	8.3	
Баллы																			
Номер задания	9	10.1	10.2	Сумма баллов	Отметка за работу														
Баллы																			

1

На представленном ниже рисунке ученик зафиксировал в виде схемы один из процессов жизнедеятельности растений. Рассмотрите схему и ответьте на вопросы.



1.1. Как называют данный процесс?

Ответ. _____

1.2. Знание в области какой ботанической науки позволит ученику изучить данный процесс?

Ответ. _____

1.3. Для клеток какой ткани характерен этот процесс?

Ответ. _____

2

В приведённой ниже таблице между позициями первого и второго столбцов имеется взаимосвязь.

Целое	Часть
Механическая ткань	...
Покровная ткань	Кожица

2.1. Какое понятие следует вписать на место пропуска в этой таблице?

- 1) камбий
- 2) сосуды
- 3) устьица
- 4) древесинные волокна

Ответ.

2.2. Какую функцию выполняют ситовидные трубки, расположенные в жилках листьев у растений?

Ответ. _____

3

3.1. Рассмотрите рисунок растительной клетки (рис. 1). Какая структура клетки обозначена на рисунке буквой А?

Ответ. _____

3.2. Каково значение этой структуры в жизнедеятельности клетки?

Ответ. _____

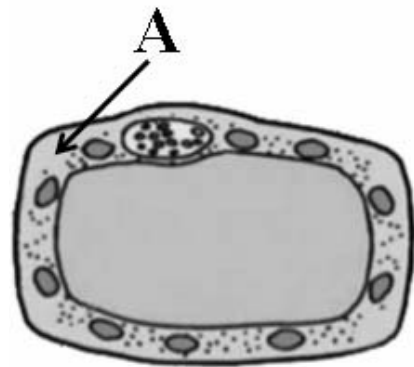


Рис. 1

3.3. Сергей рассматривал под микроскопом участок корня и сделал рисунок (рис. 2). Какую зону корня он обозначил на рисунке цифрой 2?

Ответ. _____

3.4. К какому типу ткани относятся клетки зоны, обозначенной цифрой 2?

Ответ. _____

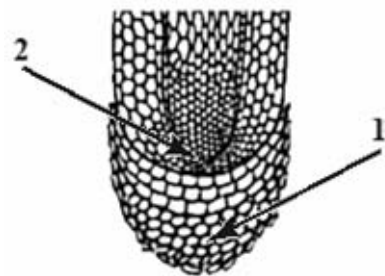


Рис. 2

4

Выберите из предложенного списка и вставьте в текст пропущенные слова, используя для этого их цифровые обозначения. Впишите номера выбранных слов на места пропусков в тексте.

ЦВЕТОК

Самая заметная часть цветка – это венчик, состоящий часто из отдельных _____ (А). Обычно венчик окружён _____ (Б), состоящей из чашелистиков. В центре цветка расположены его главные части – _____ (В) и пестик. Они являются органами размножения.

Список слов:

- 1) околоцветник
- 2) прицветник
- 3) чашечка
- 4) соцветие
- 5) тычинка
- 6) лепесток

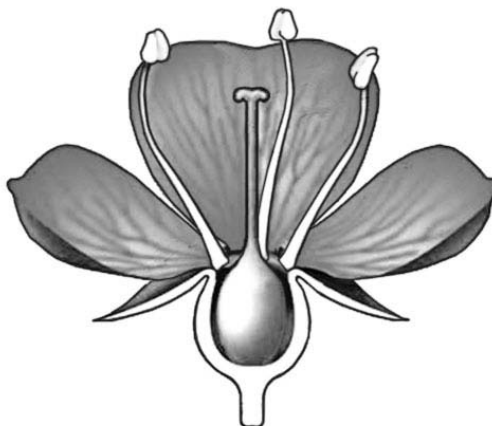
Запишите в таблицу выбранные цифры под соответствующими буквами.

Ответ.

А	Б	В

5

Рассмотрите изображение цветка и выполните задания.



5.1. Покажите стрелками и подпишите на рисунке *тычиночную нить*, *цветоножку*, *завязь*.

5.2. Какую функцию в цветке выполняет *цветоножка*?

Ответ. _____

5.3. Что, кроме эндосперма и семенной кожуры, содержит семя?

Ответ. _____

6

У растения имеется один ствол и крона. Какая у него жизненная форма?

- 1) дерево
- 2) кустарник
- 3) кустарничек
- 4) трава

Ответ.

7

Используя приведённую ниже таблицу, ответьте на вопросы.

Сроки хранения и схожести семян, глубина их заделки в почву

Растение	Срок хранения, годы	Максимальный срок всхожести, дни	Глубина заделки семян, см
Бобы	5–6	10	5–6
Лук	3–4	12	1–2
Перец	3–4	15	1–2
Редис	4–5	7	2–4

Семена какого растения из перечисленных в таблице сохраняют жизнеспособность более 5 лет и прорастают на 10-й день после посева?

Ответ. _____

Семена какого растения из перечисленных в таблице можно заделывать на глубину 3 см?

Ответ. _____

Семена какого растения из перечисленных в таблице имеют максимальный срок всхожести?

Ответ. _____

8

Известно, что для прорастания семян необходимы определённые условия. Иван решил выяснить роль одного из таких условий, проведя следующий опыт осенью. Он взял три прозрачные стеклянные банки, на дне которых были кусочки увлажнённой ваты, и положил в каждую из них по 15 семян фасоли. Первую банку он оставил в комнате, вторую поместил на застеклённую лоджию, а третью поместил в холодильник. Через некоторое время Иван проверил результаты опыта и обнаружил следующие результаты.



8.1. Какую цель ставил Иван, помещая семена фасоли в разные условия?

Ответ. _____

8.2. Сформулируйте вывод о влиянии этого условия на прорастание семян.

Ответ. _____

8.3. Какое практическое значение имеет это знание для агронома? Обоснуйте свой ответ.





Ответ. _____

9

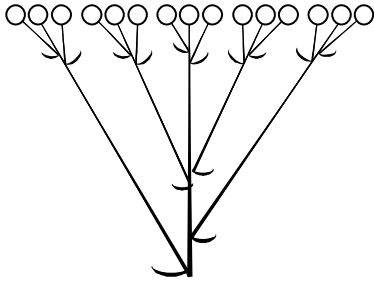
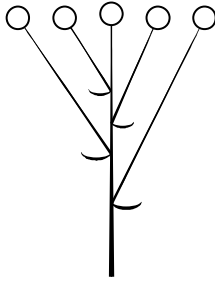
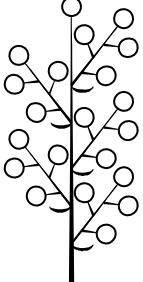


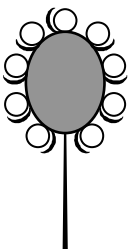
Рассмотрите изображение подорожника и опишите его по следующему плану: жизненная форма, тип соцветия, листорасположение.




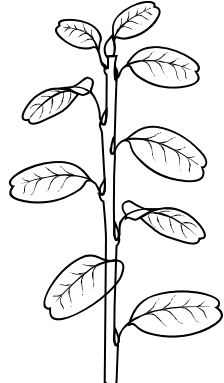


А. Жизненная форма

<p>1) дерево</p> 	<p>2) кустарник</p> 
<p>3) травянистое растение</p> 	<p>4) кустарничек</p> 

Б. Тип соцветия

1) сложный щиток 	2) щиток 	3) метёлка 
4) серёжка 	5) колос 	6) головка 

В. Листорасположение

1) прикорневая розетка 	2) очерёдное 	3) супротивное 	4) мутовчатое 
---	---	--	--

Впишите в таблицу **номера** выбранных ответов под соответствующими буквами.



Ответ.













А	Б	В

10

Растения по-разному относятся к свету, теплу и влаге, и это учитывается цветоводами при разведении различных растений.





10.1. Опишите особенности растений плюща и замиокулькаса, которые необходимо учитывать при их разведении в домашних условиях, используя для этого таблицу условных обозначений.

Условные обозначения:

1) Выносливость	 выносливое	 капризное	3) Требуемый режим полива	 сухая земля	 увлажнённая земля	 постоянно влажная земля	 вода в поддоне
2) Требуемая влажность воздуха	 не требует опрыскивания	 регулярное опрыскивание	4) Отношение к свету	 прямые лучи	 рассеянный свет	 полутень	 тень

Характеристики:



1)	2)	3)	4)
			

Плющ:





1) _____

 2) _____

 3) _____

 4) _____



1)	2)	3)	4)
			

Замиокулькас:

1) _____

 2) _____

 3) _____

 4) _____

10.2. По каким позициям из приведённых в описании эти растения имеют одинаковые характеристики?

Ответ. _____
