

**Проверочная работа  
по БИОЛОГИИ**

**6 КЛАСС**

**Вариант 1**

**Инструкция по выполнению работы**

На выполнение работы по биологии отводится 45 минут. Работа включает в себя 10 заданий.

Ответы на задания запишите в поля ответов в тексте работы. В случае записи неверного ответа зачеркните его и запишите рядом новый.

При выполнении работы не разрешается пользоваться учебником, рабочими тетрадями и другим справочным материалом. Разрешается использовать линейку.

При необходимости можно пользоваться черновиком. Записи в черновике проверяться и оцениваться не будут.

Советуем выполнять задания в том порядке, в котором они даны. В целях экономии времени пропускайте задание, которое не удаётся выполнить сразу, и переходите к следующему. Если после выполнения всей работы у Вас останется время, то Вы сможете вернуться к пропущенным заданиям.

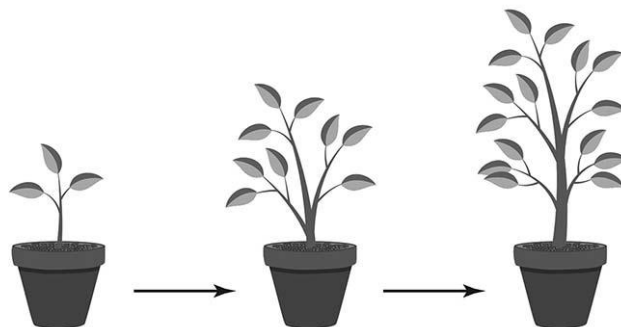
***Желаем успеха!***

*Таблица для внесения баллов участника*

Номер задания	1.1	1.2	1.3	2.1	2.2	3.1	3.2	3.3	3.4	4	5.1	5.2	5.3	6	7	8.1	8.2	8.3	
Баллы																			
Номер задания	9	10.1	10.2	Сумма баллов	Отметка за работу														
Баллы																			

1

На представленном ниже рисунке ученик зафиксировал в виде схемы один из процессов жизнедеятельности растения. Рассмотрите схему и ответьте на вопросы.



1.1. Как называют данный процесс?

Ответ. \_\_\_\_\_

1.2. Знание в области какой ботанической науки позволит ученику изучить данный процесс?

Ответ. \_\_\_\_\_

1.3. В чём особенность данного процесса у растений?

Ответ. \_\_\_\_\_

2

В приведённой ниже таблице между позициями первого и второго столбцов имеется взаимосвязь.

Целое	Часть
Механическая ткань	...
Покровная ткань	Кожица

2.1. Какое понятие следует вписать на место пропуска в этой таблице?

- 1) камбий
- 2) сосуды
- 3) устьица
- 4) древесинные волокна

Ответ.

2.2. Какую функцию выполняют устьица у растений?

Ответ. \_\_\_\_\_

3

3.1. Рассмотрите рисунок растительной клетки (рис. 1). Какая структура клетки обозначена на рисунке буквой А?

Ответ. \_\_\_\_\_

3.2. Каково значение этой структуры в жизнедеятельности клетки?

Ответ. \_\_\_\_\_

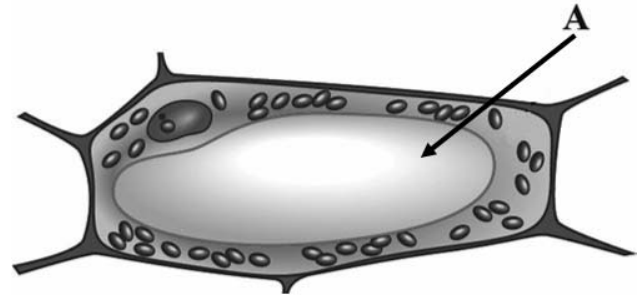


Рис. 1

3.3. Ольга рассмотрела кожицу листа герани под микроскопом и сделала микрофотографию (рис. 2). Что она обозначила на фотографии цифрой 1?

Ответ. \_\_\_\_\_

3.4. К какому типу ткани относятся запечатлённые на фотографии клетки?

Ответ. \_\_\_\_\_

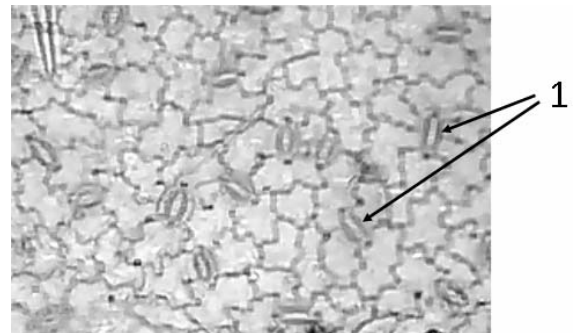


Рис. 2

4

Выберите из предложенного списка и вставьте в текст пропущенные слова (словосочетание), используя для этого их цифровые обозначения. Впишите номера выбранных слов на места пропусков в тексте.

**ОБРАЗОВАНИЕ ВЕЩЕСТВ В ЛИСТЕ**

Органические вещества образуются в листе в процессе \_\_\_\_\_ (А). Этот процесс протекает только на свету. Такой вид питания растений получил название \_\_\_\_\_ (Б), поскольку исходным веществом для него служит \_\_\_\_\_ (В), добываемый растением из атмосферы.

Список слов (словосочетание):

- 1) дыхание
- 2) воздушное
- 3) почвенное
- 4) фотосинтез
- 5) углекислый газ
- 6) кислород

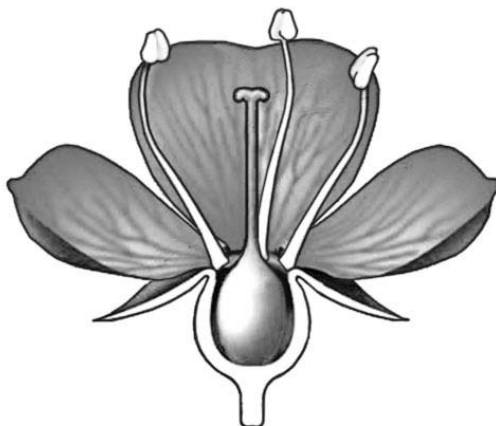
Запишите в таблицу выбранные цифры под соответствующими буквами.

Ответ.

А	Б	В

5

Рассмотрите изображение цветка и выполните задания.



5.1. Покажите стрелками и подпишите на рисунке *чашелистик*, *тычиночную нить*, *рыльце*.

5.2. Какую функцию в цветке выполняет *тычиночная нить*?

Ответ. \_\_\_\_\_  
\_\_\_\_\_

5.3. Как называется явление, при котором пыльца из тычинки попадает на рыльце того же самого цветка?

Ответ. \_\_\_\_\_

6

Что из перечисленного формируется при прорастании семени из зародышевой почечки?

- 1) побег
- 2) корень
- 3) стебель
- 4) всё растение

Ответ.

7

Используя приведённую ниже таблицу, ответьте на вопросы.

**Содержание минеральных веществ в растениях, мг/100 г**

<b>Растение</b>	<b>Калий</b>	<b>Кальций</b>	<b>Магний</b>	<b>Фосфор</b>	<b>Железо</b>
Баклажан	238	15	9	34	0,4
Фасоль	240	50	44	59	0,47
Капуста брокколи	316	47	21	66	0,73
Сельдерей	430	72	50	77	1,3

Какое растение из перечисленных в таблице превосходит по содержанию минеральных веществ три других растения?

Ответ. \_\_\_\_\_

Какое растение из перечисленных в таблице содержит 47 мг кальция на 100 г?


Ответ. \_\_\_\_\_

По содержанию каких двух минеральных веществ из перечисленных в таблице сходны баклажан и фасоль?

Ответ. \_\_\_\_\_

8

Известно, что поглощение воды корнями растений зависит от ряда условий. Николай решил убедиться в этом, проведя следующий опыт. Он у двух одинаковых комнатных растений бальзамина срезал стебли на высоте 3 см. На образовавшиеся пенки Николай надел короткие резиновые трубки, соединив их со стеклянными трубками, концы которых опустил в одинаковые по объёму прозрачные стаканы. Каждое из растений он стал поливать водой одинакового объёма. Причем первое растение Николай поливал водой комнатной температуры, а второе – холодной водой. Через некоторое время он обратил внимание на разные объёмы жидкости в стакане.



8.1. Какую задачу ставил Николай, проводя данный опыт?

Ответ. \_\_\_\_\_

8.2. Почему Николай удалил часть стебля с листьями у бальзамина?

Ответ. \_\_\_\_\_

8.3. Какую рекомендацию по результату опыта можно сделать цветоводам? Обоснуйте свой ответ.

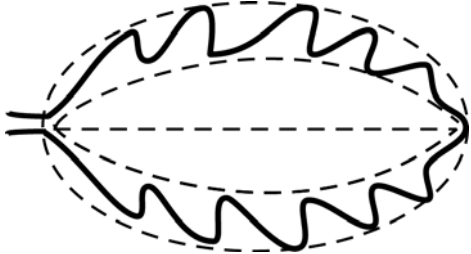


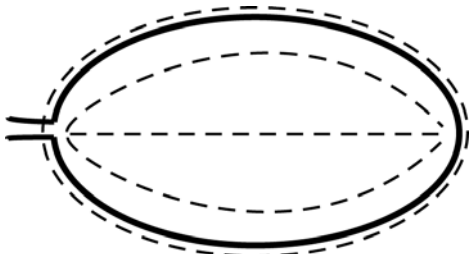
Ответ. \_\_\_\_\_

9


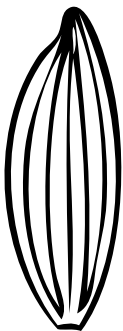


Рассмотрите изображение листа древесного растения и опишите его по следующему плану: форма листа, жилкование листа, тип листа по соотношению длины и ширины листовой пластинки (без черешка) и по расположению наиболее широкой части. Используйте при выполнении задания линейку и карандаш.



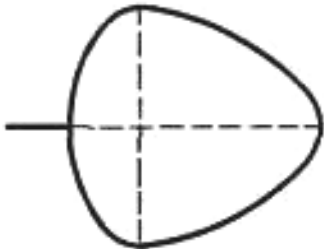
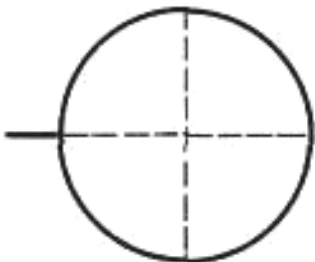
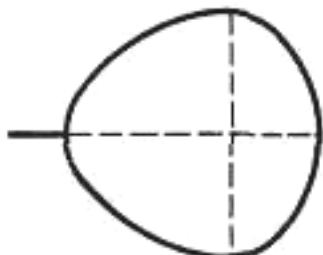
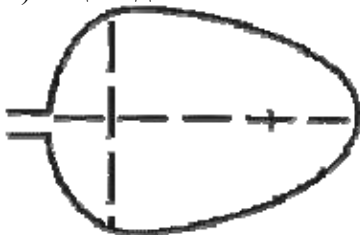
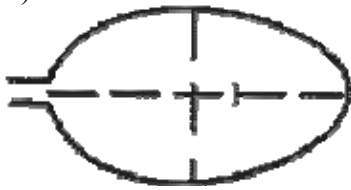

### А. Форма листа

<p>1) перисто-лопастная</p> 	<p>2) перисто-раздельная</p> 
<p>3) перисто-рассечённая</p> 	<p>4) цельная</p> 

**Б. Жилкование листа**

			
1) параллельное	2) дуговидное	3) пальчатое	4) перисто-сетчатое

**В. Тип листа** по соотношению длины и ширины листовой пластинки (без черешка) и по расположению наиболее широкой части

Длина равна ширине или немного её превышает.		
1) широкояйцевидный 	2) округлый 	3) обратно-широкояйцевидный 
Длина превышает ширину в 1,5–2 раза.		
4) яйцевидный 	5) овальный 	6) обратно-яйцевидный 

Впишите в таблицу **номера** выбранных ответов под соответствующими буквами.

Ответ.

А	Б	В













10

Растения по-разному относятся к свету, теплу и влаге, и это учитывается цветоводами при разведении различных растений.





10.1. Опишите особенности растений пеперомии и сциндапсуса, которые необходимо учитывать при их разведении в домашних условиях, используя для этого таблицу условных обозначений.

**Условные обозначения:**

1) Выносливость			3) Требуемый режим полива				
	выносливое	капризное		сухая земля	увлажнённая земля	постоянно влажная земля	вода в поддоне
2) Требуемая влажность воздуха			4) Отношение к свету				
	не требует опрыскивания	регулярное опрыскивание		прямые лучи	рассеянный свет	полутень	тень

**Характеристики:**



1)	2)	3)	4)
			

Пеперомия:





1) \_\_\_\_\_  
 \_\_\_\_\_

2) \_\_\_\_\_  
 \_\_\_\_\_

3) \_\_\_\_\_  
 \_\_\_\_\_

4) \_\_\_\_\_  
 \_\_\_\_\_



1)	2)	3)	4)
			

Сциндапсус:

1) \_\_\_\_\_  
 \_\_\_\_\_

2) \_\_\_\_\_  
 \_\_\_\_\_

3) \_\_\_\_\_  
 \_\_\_\_\_

4) \_\_\_\_\_  
 \_\_\_\_\_

10.2. По каким позициям из приведённых в описании эти растения имеют одинаковые характеристики?

Ответ. \_\_\_\_\_  
 \_\_\_\_\_