

**Проверочная работа  
по БИОЛОГИИ**

**6 КЛАСС**

**Вариант 1**

**Инструкция по выполнению работы**

На выполнение работы по биологии отводится 45 минут. Работа включает в себя 10 заданий.

Ответы на задания запишите в поля ответов в тексте работы. В случае записи неверного ответа зачеркните его и запишите рядом новый.

При выполнении работы не разрешается пользоваться учебником, рабочими тетрадями и другим справочным материалом. Разрешается использовать линейку.

При необходимости можно пользоваться черновиком. Записи в черновике проверяться и оцениваться не будут.

Советуем выполнять задания в том порядке, в котором они даны. В целях экономии времени пропускайте задание, которое не удаётся выполнить сразу, и переходите к следующему. Если после выполнения всей работы у Вас останется время, то Вы сможете вернуться к пропущенным заданиям.

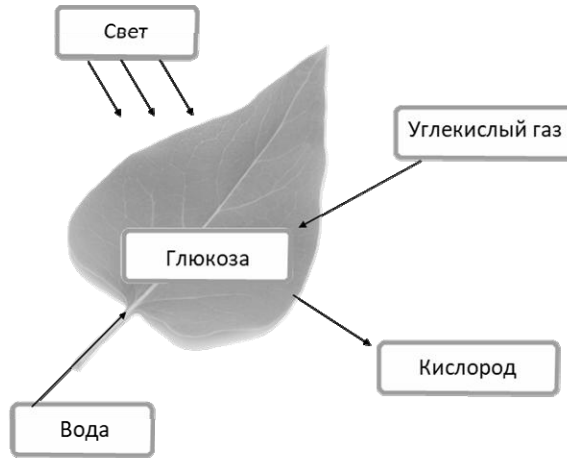
***Желаем успеха!***

*Таблица для внесения баллов участника*

Номер задания	1.1	1.2	1.3	2.1	2.2	3.1	3.2	3.3	3.4	4	5.1	5.2	5.3	6	7	8.1	8.2	8.3	
Баллы																			
Номер задания	9	10.1	10.2	Сумма баллов	Отметка за работу														
Баллы																			

1

На представленном ниже рисунке ученик зафиксировал в виде схемы один из процессов жизнедеятельности растений. Рассмотрите схему и ответьте на вопросы.



1.1. Как называют данный процесс?

Ответ. \_\_\_\_\_

1.2. Знание в области какой ботанической науки позволит ученику изучить данный процесс?

Ответ. \_\_\_\_\_

1.3. Какой клеточный пигмент обеспечивает данный процесс?

Ответ. \_\_\_\_\_

2

В приведённой ниже таблице между позициями первого и второго столбцов имеется взаимосвязь.

Целое	Часть
Проводящая ткань	...
Покровная ткань	Кожица

2.1. Какое понятие следует вписать на место пропуска в этой таблице?

- 1) камбий
- 2) ситовидные трубки
- 3) устьица
- 4) древесинные волокна

Ответ.

2.2. Какую функцию выполняет покровная ткань стебля у растений?

Ответ. \_\_\_\_\_

3

3.1. Рассмотрите рисунок растительной клетки (рис. 1). Какая структура клетки обозначена на рисунке буквой А?

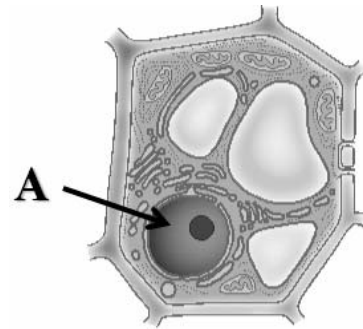


Рис. 1

Ответ. \_\_\_\_\_

3.2. Каково значение этой структуры в жизнедеятельности клетки?

Ответ. \_\_\_\_\_

3.3. Наталья рассмотрела строение молодого корня фасоли под микроскопом и сделала рисунок (рис. 2). Что она изобразила на рисунке под цифрой 1?

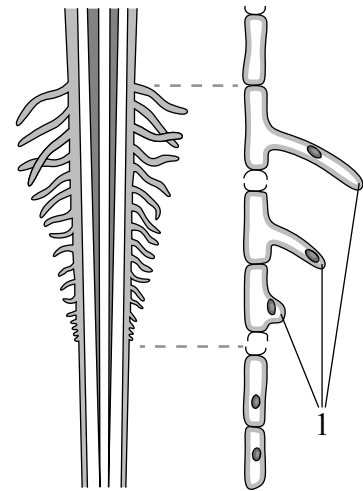


Рис. 2

Ответ. \_\_\_\_\_

3.4. К какому типу ткани относятся изображённые на рис. 2 клетки, обозначенные цифрой 1?

Ответ. \_\_\_\_\_

4

Выберите из предложенного списка и вставьте в текст пропущенные слова, используя для этого их цифровые обозначения. Впишите номера выбранных слов на места пропусков в тексте.

**ОБРАЗОВАНИЕ ПЛОДОВ**

В результате двойного оплодотворения образуется семя, которое состоит из зародыша, \_\_\_\_\_(А) и семенной кожуры. Из стенки \_\_\_\_\_(Б) образуется стенка плода, называемая околоплодником, который может быть как сочным, так и сухим. Количество семян зависит от количества \_\_\_\_\_(В) внутри завязи.

Список слов:

- 1) завязь
- 2) прицветник
- 3) зигота
- 4) семязачаток
- 5) эндосперм
- 6) семядоля


Запишите в таблицу выбранные цифры под соответствующими буквами.

Ответ.

А	Б	В

5

Рассмотрите изображение листа шиповника и выполните задания.



5.1. Покажите стрелками и подпишите на рисунке *черешок*, *прилистники*, *листовую пластинку*.

5.2. Чем сложный лист отличается от простого?

Ответ. \_\_\_\_\_  
\_\_\_\_\_

5.3. Как называется часть листа, которая соединяет его со стеблем?

Ответ. \_\_\_\_\_

6

Что из перечисленного относят к генеративным органам?

- 1) цветок
- 2) стебель
- 3) лист
- 4) корень

Ответ.

7

Используя приведённую ниже таблицу, ответьте на вопросы.

**Сроки хранения и схожести семян, глубина их заделки в почву**

<b>Растение</b>	<b>Срок хранения, годы</b>	<b>Максимальный срок всхожести, дни</b>	<b>Глубина заделки семян, см</b>
Бобы	5–6	10	5–6
Лук	3–4	12	1–2
Перец	3–4	15	1–2
Редис	4–5	7	2–4

Семена какого растения из перечисленных в таблице сохраняют жизнеспособность дольше всего?

Ответ. \_\_\_\_\_

Семена каких двух растений из перечисленных в таблице можно заделывать на глубину 1–2 см?

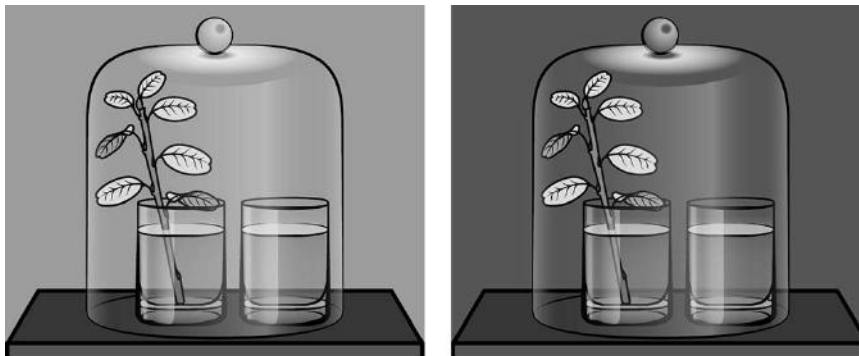
Ответ. \_\_\_\_\_

Семена какого растения из перечисленных в таблице хранятся 4–5 лет и прорастают быстрее остальных после посева?

Ответ. \_\_\_\_\_

8

Известно, что растения дышат. Николай решил убедиться в этом, проведя следующий опыт. Он осенний побег растения с жёлтыми листьями поставил в стакан с водой. Рядом поставил другой стакан с прозрачной известковой водой. Затем закрыл растение и стакан с известковой водой стеклянным колпаком и поместил в тёмный шкаф на сутки. На следующий день Николай обратил внимание, на то что в стакане известковая вода осталась прозрачной.



8.1. Какую цель преследовал Николай, помещая осенний побег и стакан с известковой водой под стеклянный колпак?

Ответ. \_\_\_\_\_

8.2. Для чего Николай использовал в опыте стеклянный колпак?

Ответ. \_\_\_\_\_

8.3. Какой вывод можно сделать по результату опыта? Обоснуйте свой ответ.

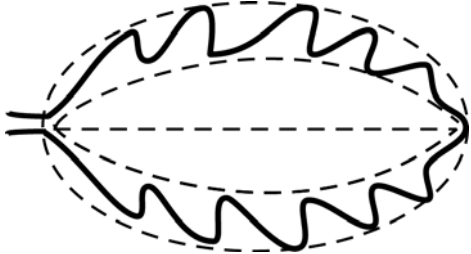


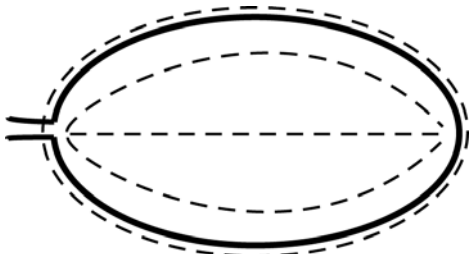
Ответ. \_\_\_\_\_

9


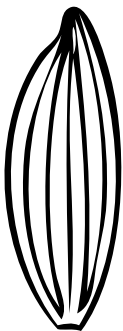


Рассмотрите изображение листа древесного растения и опишите его по следующему плану: форма листа, жилкование листа, тип листа по соотношению длины и ширины листовой пластинки (без черешка) и по расположению наиболее широкой части. Используйте при выполнении задания линейку и карандаш.



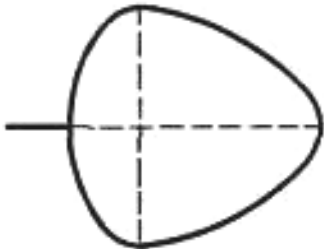
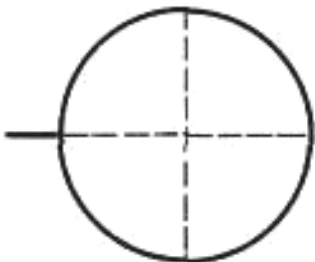
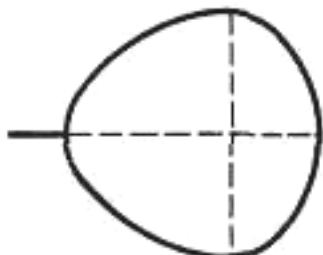
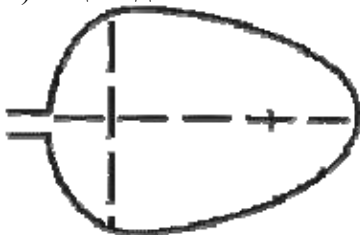
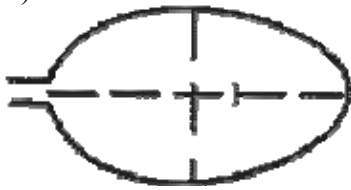

### А. Форма листа

<p>1) перисто-лопастная</p> 	<p>2) перисто-раздельная</p> 
<p>3) перисто-рассечённая</p> 	<p>4) цельная</p> 

**Б. Жилкование листа**

			
1) параллельное	2) дуговидное	3) пальчатое	4) перисто-сетчатое

**В. Тип листа** по соотношению длины и ширины листовой пластинки (без черешка) и по расположению наиболее широкой части

Длина равна ширине или немного её превышает.		
1) широкояйцевидный 	2) округлый 	3) обратно-широкояйцевидный 
Длина превышает ширину в 1,5–2 раза.		
4) яйцевидный 	5) овальный 	6) обратно-яйцевидный 

Впишите в таблицу **номера** выбранных ответов под соответствующими буквами.

Ответ.

А	Б	В













10

Растения по-разному относятся к свету, теплу и влаге, и это учитывается цветоводами при разведении различных растений.





10.1. Опишите особенности растений плюща и молочая, которые необходимо учитывать при их разведении в домашних условиях, используя для этого таблицу условных обозначений.

**Условные обозначения:**





1) Выносливость			3) Требуемый режим полива				
	выносливое	капризное		сухая земля	увлажнённая земля	постоянно влажная земля	вода в поддоне
2) Требуемая влажность воздуха			4) Отношение к свету				
	не требует опрыскивания	регулярное опрыскивание		прямые лучи	рассеянный свет	полутень	тень

**Характеристики:**



1)	2)	3)	4)
			



1)	2)	3)	4)
			

Плющ:

1) \_\_\_\_\_  
 \_\_\_\_\_  
 2) \_\_\_\_\_  
 \_\_\_\_\_  
 3) \_\_\_\_\_  
 \_\_\_\_\_  
 4) \_\_\_\_\_  
 \_\_\_\_\_

Молочай:

1) \_\_\_\_\_  
 \_\_\_\_\_  
 2) \_\_\_\_\_  
 \_\_\_\_\_  
 3) \_\_\_\_\_  
 \_\_\_\_\_  
 4) \_\_\_\_\_  
 \_\_\_\_\_

10.2. По каким позициям из приведённых в описании эти растения имеют одинаковые характеристики?

Ответ. \_\_\_\_\_  
 \_\_\_\_\_