

**Проверочная работа
по БИОЛОГИИ**

6 КЛАСС

Вариант 2

Инструкция по выполнению работы

На выполнение работы по биологии отводится 45 минут. Работа включает в себя 10 заданий.

Ответы на задания запишите в поля ответов в тексте работы. В случае записи неверного ответа зачеркните его и запишите рядом новый.

При выполнении работы не разрешается пользоваться учебником, рабочими тетрадями и другим справочным материалом. Разрешается использовать линейку.

При необходимости можно пользоваться черновиком. Записи в черновике проверяться и оцениваться не будут.

Советуем выполнять задания в том порядке, в котором они даны. В целях экономии времени пропускайте задание, которое не удаётся выполнить сразу, и переходите к следующему. Если после выполнения всей работы у Вас останется время, то Вы сможете вернуться к пропущенным заданиям.

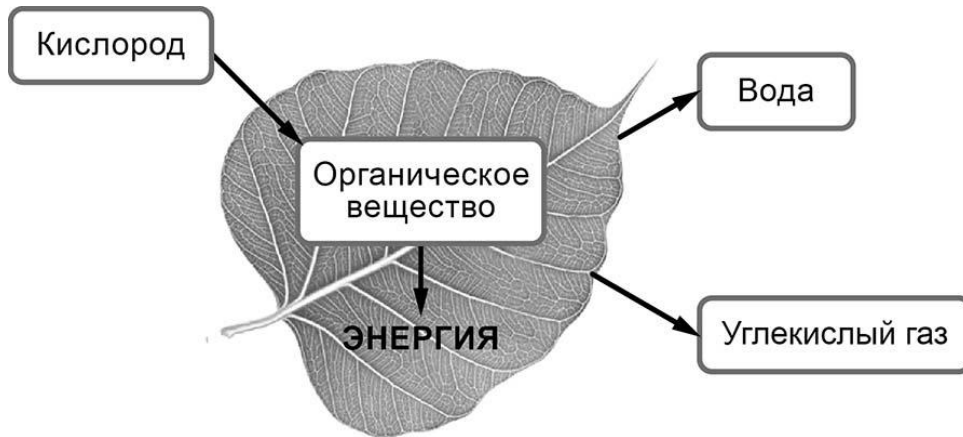
Желаем успеха!

Таблица для внесения баллов участника

Номер задания	1.1	1.2	1.3	2.1	2.2	3.1	3.2	3.3	3.4	4	5.1	5.2	5.3	6	7	8.1	8.2	8.3	
Баллы																			
Номер задания	9	10.1	10.2	Сумма баллов	Отметка за работу														
Баллы																			

1

На представленном ниже рисунке ученик зафиксировал в виде схемы один из процессов жизнедеятельности растений. Рассмотрите схему и ответьте на вопросы.



1.1. Как называют данный процесс?

Ответ. _____

1.2. Знание в области какой ботанической науки позволит ученику изучить данный процесс?

Ответ. _____

1.3. Какой газ выделяется в ходе данного процесса?

Ответ. _____

2

В приведённой ниже таблице между позициями первого и второго столбцов имеется взаимосвязь.

Целое	Часть
Образовательная ткань	Камбий
...	Сердцевина многолетнего стебля

2.1. Какое понятие следует вписать на место пропуска в этой таблице?

- 1) механическая ткань
- 2) проводящая ткань
- 3) покровная ткань
- 4) запасаящая ткань

Ответ.

2.2. Какую функцию выполняют ситовидные трубки у растений?

Ответ. _____

3

3.1. Рассмотрите рисунок растительной клетки (рис. 1). Какая структура клетки обозначена на рисунке буквой А?

Ответ. _____

3.2. Каково значение этой структуры в жизнедеятельности клетки?

Ответ. _____

3.3. Олеся рассмотрела срез молодого древесного стебля под микроскопом и сделала микрофотографию (рис. 2). Что она обозначила на фотографии цифрой 1?

Ответ. _____

3.4. К какому типу ткани относятся обозначенные цифрой 1 клетки?

Ответ. _____

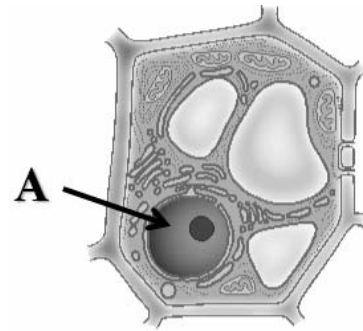


Рис. 1

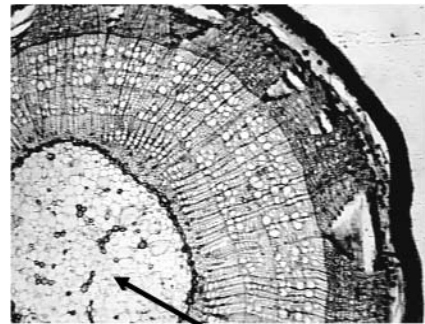


Рис. 2

4

Выберите из предложенного списка и вставьте в текст пропущенные слова, используя для этого их цифровые обозначения. Впишите номера выбранных слов на места пропусков в тексте.

СТРОЕНИЕ ЦВЕТКА

В центре цветка расположены его главные части – _____ (А) и пестик. Части цветка, расположенные вокруг этих образований, называют _____ (Б). Самая заметная часть цветка – это венчик, состоящий часто из отдельных _____ (В). Яркий венчик служит для привлечения опылителей.

Список слов:

- 1) околоцветник
- 2) прицветник
- 3) чашечка
- 4) соцветие
- 5) тычинка
- 6) лепесток

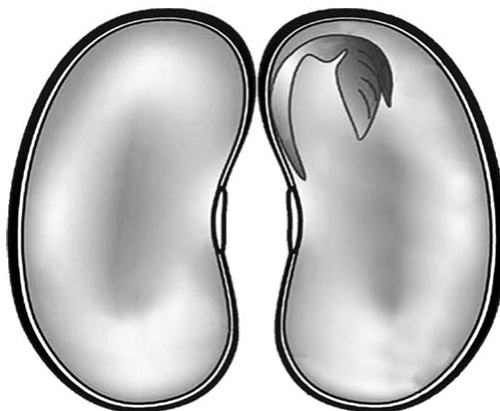
Запишите в таблицу выбранные цифры под соответствующими буквами.

Ответ.

А	Б	В

5

Рассмотрите изображение семени фасоли в разрезе и выполните задания.



5.1. Покажите стрелками и подпишите на рисунке *семенную кожуру, зародышевый корешок, зародышевую почечку.*

5.2. Какую функцию выполняют семядоли?

Ответ. _____

5.3. Из какого органического вещества семени образована клейковина?

Ответ. _____

6

В каком из перечисленных случаев указано супротивное листорасположение?

- 1) от каждого узла отходит один лист
- 2) на каждом узле сидят друг против друга два листа
- 3) каждый узел несёт три и более листа
- 4) на побеге чередуются простые и сложные листья

Ответ.

7

Используя приведённую ниже таблицу, ответьте на вопросы.

Основные сведения по агротехнике выращивания рассады для открытого грунта

Культура	Сроки появления всходов, в днях	Возраст рассады, в днях	Примерные сроки высадки рассады (для средней полосы России)
Томат	5–8	50–60	5 июня
Капуста брокколи	3–4	35–50	15 мая
Капуста белокочанная ранняя	3–4	45–55	1 мая
Огурец	2–4	20–25	5 июня

Семена какого растения из перечисленных в таблице прорастают быстрее остальных?

Ответ. _____

На выращивание рассады какого растения из перечисленных в таблице потребуется больше всего времени?


Ответ. _____

Рассаду какого растения из перечисленных в таблице высаживают в открытый грунт в начале мая?

Ответ. _____

8

Известно, что при прорастании семян в них происходят внутренние и внешние изменения. Павел решил исследовать одно из них, проведя опыт. Он взял два больших стеклянных стакана и в каждый насыпал по 500 г одинаковых семян гороха. При этом в один стакан он добавил воды. Сверху на семена, находящиеся в стаканах, Павел положил гирию массой 1 кг и стал наблюдать. Через несколько дней в стакане, в который была добавлена вода, гирия оказалась выше, чем в стакане с сухими семенами.



8.1. Какое биологическое явление наблюдал Павел?

Ответ. _____

8.2. Используя рисунки, сформулируйте вывод, который должен был сделать Павел по результатам своего опыта.

Ответ. _____

8.3. Можно ли утверждать, что все семена в стакане с водой впоследствии образуют новые растения? Обоснуйте свой ответ.

Ответ. _____

9


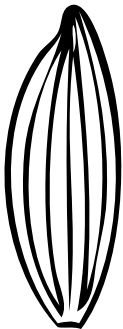


Рассмотрите изображение листа кустарника и опишите его по следующему плану: форма листа, жилкование листа, тип листа по соотношению длины и ширины листовой пластинки (без черешка) и по расположению наиболее широкой части. Используйте при выполнении задания линейку и карандаш.



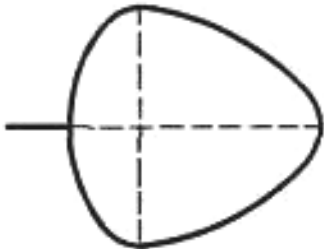
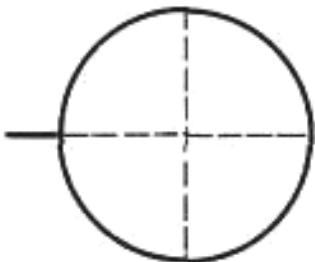
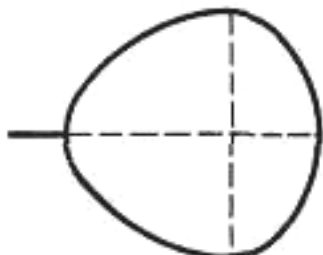
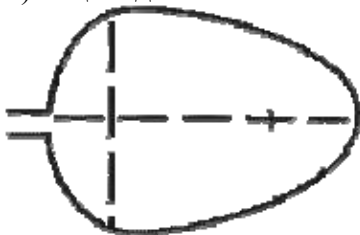
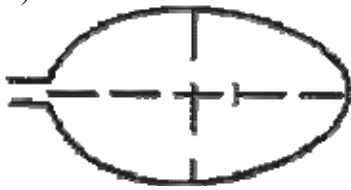

А. Форма листа

<p>1) перисто-лопастная</p>	<p>2) перисто-раздельная</p>
<p>3) перисто-рассечённая</p>	<p>4) цельная</p>

Б. Жилкование листа

			
1) параллельное	2) дуговидное	3) пальчатое	4) перисто-сетчатое

В. Тип листа по соотношению длины и ширины листовой пластинки (без черешка) и по расположению наиболее широкой части

Длина равна ширине или немного её превышает.		
1) широкояйцевидный 	2) округлый 	3) обратно-широкояйцевидный 
Длина превышает ширину в 1,5–2 раза.		
4) яйцевидный 	5) овальный 	6) обратно-яйцевидный 

Впишите в таблицу **номера** выбранных ответов под соответствующими буквами.

Ответ.













А	Б	В

10

Растения по-разному относятся к свету, теплу и влаге, и это учитывается цветоводами при разведении различных растений.





10.1. Опишите особенности растений каланхоэ и аспарагуса, которые необходимо учитывать при их разведении в домашних условиях, используя для этого таблицу условных обозначений.

Условные обозначения:

1) Выносливость	 выносливое	 капризное	3) Требуемый режим полива	 сухая земля	 увлажнённая земля	 постоянно влажная земля	 вода в поддоне
2) Требуемая влажность воздуха	 не требует опрыскивания	 регулярное опрыскивание	4) Отношение к свету	 прямые лучи	 рассеянный свет	 полутень	 тень

Характеристики:



1)	2)	3)	4)
			

Каланхоэ:





1) _____

2) _____

3) _____

4) _____



1)	2)	3)	4)
			

Аспарагус:

1) _____

2) _____

3) _____

4) _____

10.2. По каким позициям из приведённых в описании эти растения имеют одинаковые характеристики?

Ответ. _____
