

**Проверочная работа
по ИСТОРИИ**

6 класс

Вариант 2

Инструкция по выполнению работы

На выполнение работы по истории даётся 60 минут. Работа включает в себя 10 заданий. Часть 1 работы посвящена истории России и истории зарубежных стран (история Средних веков), в части 2 предложены задания по истории Вашего родного края.

Ответы на задания запишите в поля ответов в тексте работы. В случае записи неверного ответа зачеркните его и запишите рядом новый.

При необходимости можно пользоваться черновиком. Записи в черновике проверяться и оцениваться не будут.

Советуем выполнять задания в том порядке, в котором они даны. В целях экономии времени пропускайте задание, которое не удаётся выполнить сразу, и переходите к следующему. Если после выполнения всей работы у Вас останется время, то Вы сможете вернуться к пропущенным заданиям.

Желаем успеха!

Таблица для внесения баллов участника

Номер задания	1	2	3	4	5	6(1)	6(2)	7	8	9	10(1)	10(2)	Сумма баллов	Отметка за работу
Баллы														

Часть 1



В этой части работы даны задания по истории России и истории зарубежных стран (история Средних веков).

Прочтите перечень из четырёх событий (процессов) и выполните задания, относящиеся к этому перечню.

Перечень событий (процессов)

- А) борьба чешского народа с господством католической церкви
- Б) формирование Древнерусского государства
- В) распространение христианской веры в государстве Русь в XI в.
- Г) нашествие монголов на Русь в 1237–1240 гг.

1) событий (процессов). Установите соответствие между событиями (процессами) и иллюстрациями: к каждому событию (процессу) подберите по одной иллюстрации.



Запишите в таблицу выбранные цифры под соответствующими буквами.

Ответ:

А	Б	В	Г

Перечень событий (процессов)

- | | |
|--|--|
| А) борьба чешского народа с господством католической церкви | Б) формирование Древнерусского государства |
| В) распространение христианской веры в государстве Русь в XI в. | Г) нашествие монголов на Русь в 1237–1240 гг. |

2

Прочтите отрывок из исторического источника и определите, к какому из данных событий (процессов) он относится. В ответе напишите букву, которой обозначено это событие (процесс).

«Заложил князь город великий, у того же града Золотые ворота; заложил и церковь святой Софии, митрополию, и затем церковь на Золотых воротах – святой Богородицы Благовещения, затем монастырь святого Георгия и святой Ирины. И стала при нём вера христианская плодиться и расширяться, и черноризцы стали умножаться, и монастыри появляться. И любил князь церковные уставы, попов любил немало, особенно же черноризцев, и книги любил, читая их часто и ночью и днём. И собрал писцов многих, и переводили они с греческого на славянский язык. И написали они книг множество, ими же поучаются верующие люди и наслаждаются учением божественным. Как если один землю вспашет, другой же засеет, а иные жнут и едят пищу неоскудевающую, – так и этот. Отец ведь его Владимир землю вспахал и размягчил, то есть крещением просветил. Этот же засеял книжными словами сердца верующих людей, а мы пожинаем, учение принимая книжное».

Ответ:

3

С каким из данных событий (процессов) связано слово «гуситы»? Запишите букву, которой обозначено данное событие (процесс).

Ответ:

Объясните смысл слова «гуситы».

Ответ:

4

Укажите две исторические личности, которые были непосредственно связаны с взаимоотношениями русских княжеств и земель с кочевниками в XII в.

Укажите одно любое действие каждой из этих личностей, в значительной степени повлиявшее на взаимоотношения русских княжеств и земель с кочевниками в XII в.

Ответ:

Личности	Действия
1.	
2.	

5

Заштрихуйте на контурной карте один четырёхугольник, образованный градусной сеткой, в котором находилась столица государства, захваченная крестоносцами во время Четвёртого крестового похода в 1204 г.



6

Запишите название любого географического объекта (города, населённого пункта, реки или др.), который непосредственно связан с проведением языческой реформы князем Владимиром Святославичем.

Объясните, как указанный Вами географический объект (город, населённый пункт, река или др.) связан с проведением языческой реформы князем Владимиром Святославичем.

Ответ (название объекта): _____


Объяснение: _____

7

Используя знание исторических фактов, объясните, почему проведение языческой реформы князем Владимиром Святославичем имело важные последствия для внутренней политики Владимира Святославича.

Ответ: _____

Рассмотрите изображения



8) На каких двух изображениях представлены памятники культуры России, а на каких – памятники культуры зарубежных стран? Запишите в таблицу порядковые номера соответствующих изображений.

□ Ответ:

Памятники культуры России		Памятники культуры зарубежных стран	

9) Заполните пропуск в предложении: «Стены соборов украшали _____ – изображениями, которые наносили красками прямо на стену по сырой штукатурке».

□ Ответ: _____

Часть 2

Вспомните важнейшие события истории Вашего региона или населённого пункта и выполните задание.

10

Назовите одного исторического деятеля, чья жизнь связана с Вашим регионом или населённым пунктом, достижениями которого по праву могут гордиться граждане нашей страны.

Ответ: _____

Приведите факт из жизни и деятельности этого исторического деятеля, объясняющий причину его известности.

Ответ: _____

