

**Проверочная работа  
по МАТЕМАТИКЕ**

**6 класс**

**Вариант 2**

**Инструкция по выполнению работы**

На выполнение работы по математике даётся 60 минут. Работа содержит 13 заданий.  
В заданиях, после которых есть поле со словом «Ответ», запишите ответ в указанном месте.

В задании 12 нужно сделать чертёж или рисунок.

В заданиях, после которых есть поле со словами «Решение» и «Ответ», запишите решение и ответ в указанном месте.

Если Вы хотите изменить ответ, зачеркните его и запишите рядом новый.

При выполнении работы нельзя пользоваться учебниками, рабочими тетрадями, справочниками, калькулятором.

При необходимости можно пользоваться черновиком. Записи в черновике проверяться и оцениваться не будут.

Советуем выполнять задания в том порядке, в котором они даны. Для экономии времени пропускайте задание, которое не удаётся выполнить сразу, и переходите к следующему. Постарайтесь выполнить как можно больше заданий.

***Желаем успеха!***

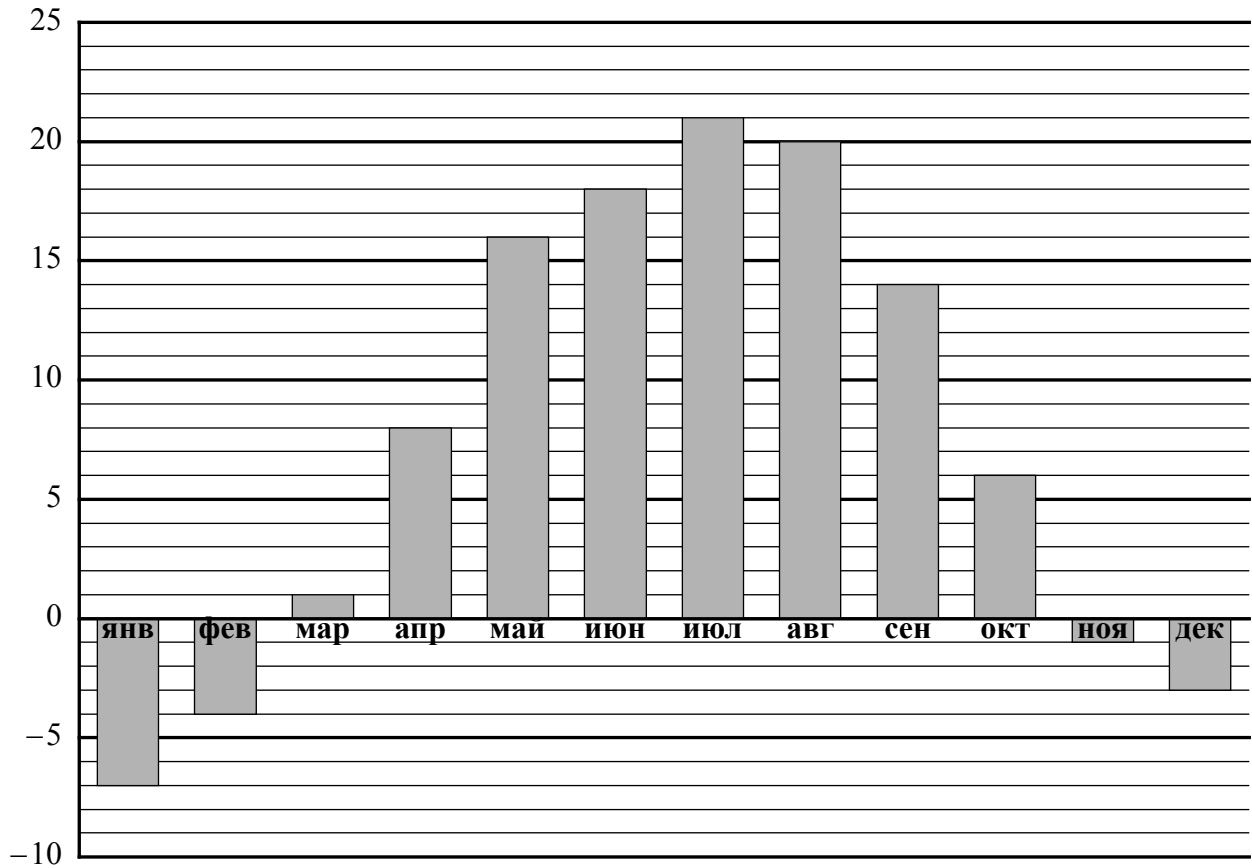
Таблица для внесения баллов участника

Номер задания	1	2	3	4	5	6	7	8	9	10	11	12	13	Сумма баллов	Отметка за работу
Баллы															



6

На диаграмме показана средняя температура воздуха в Воронеже в каждом месяце. По вертикали указана температура воздуха в градусах Цельсия, по горизонтали — месяцы. В каком месяце первого полугодия средняя температура воздуха была самой высокой?



Ответ:

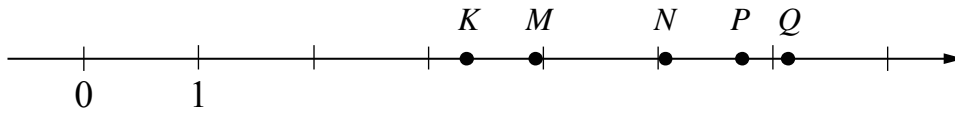
7

Найдите значение выражения  $5x - 6 \cdot |x - 13|$  при  $x = 4$ .

Ответ:

8

На координатной прямой точками  $K$ ,  $M$ ,  $N$ ,  $P$  и  $Q$  отмечены числа. Известно, что среди отмеченных есть числа 5,14; 3,4 и 5,74.



Установите соответствие между тремя числами и точками.

	ЧИСЛА	ТОЧКИ
A) 5,14		1) $K$
Б) 3,4		2) $M$
В) 5,74		3) $N$
		4) $P$
		5) $Q$

В таблице для каждого числа укажите номер соответствующей точки.

Ответ:

А	Б	В

9

Вычислите:  $13 - \left(3 - 1\frac{20}{21}\right) : \frac{4}{49} + \frac{3}{10}$ .

Запишите решение и ответ.

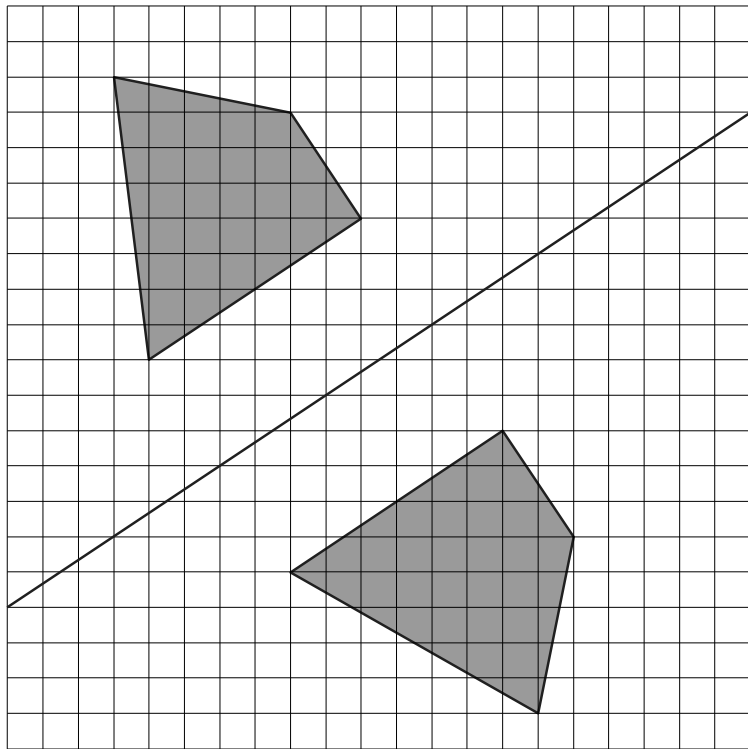
Решение.

Ответ:



12

Рома нарисовал фигуру на квадратном листке и сложил его (линия сгиба обозначена на рисунке). Получился отпечаток. На рисунке показана фигура и полученный отпечаток.



Затем на таком же листке Рома нарисовал другую фигуру и сложил листок так же, как и первый листок (линия сгиба обозначена на рисунке). Нарисуйте получившийся отпечаток.

