

**Проверочная работа
по БИОЛОГИИ**

7 КЛАСС

Вариант 1

Инструкция по выполнению работы

На выполнение работы по биологии отводится 60 минут. Работа включает в себя 13 заданий.

Ответы на задания запишите в поля ответов в тексте работы. В случае записи неверного ответа зачеркните его и запишите рядом новый.

При выполнении работы не разрешается пользоваться учебником, рабочими тетрадями и другим справочным материалом.

При необходимости можно пользоваться черновиком. Записи в черновике проверяться и оцениваться не будут.

Советуем выполнять задания в том порядке, в котором они даны. В целях экономии времени пропускайте задание, которое не удаётся выполнить сразу, и переходите к следующему. Если после выполнения всей работы у Вас останется время, то Вы сможете вернуться к пропущенным заданиям.

Желаем успеха!

Таблица для внесения баллов участника

Номер задания	1.1	1.2	2	3	4	5	6	7	8	9	10	11	12	13.1	13.2	13.3	Сумма баллов	Отметка за работу
Баллы																		


1

Рассмотрите изображения различных объектов живой природы.

1.1. Подпишите их названия, используя слова из предложенного списка: *листочковые мхи*, *плауновые*, *бурые водоросли*, *базидиомицеты*.



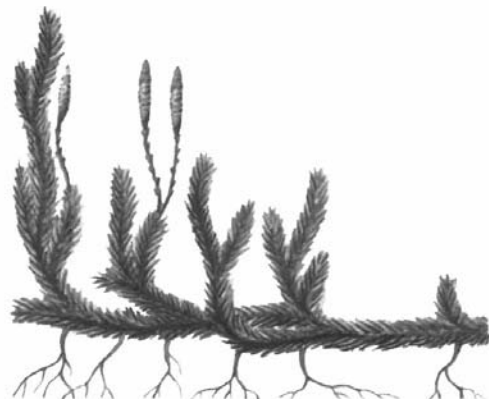
А. _____



Б. _____



В. _____



Г. _____

1.2. Три из изображённых объектов объединены общим признаком. Выпишите название объекта, «выпадающего» из общего ряда. Объясните свой выбор.

Ответ. _____

2

Каково значение плаунов в жизни человека? Назовите одно из них.

Ответ. _____

3

Мария и Егор собрали и подготовили для гербария образцы растений. Для каждого растения им необходимо составить «паспорт», соответствующий положению этого растения в общей классификации организмов. Помогите ребятам записать в таблицу **слова** из предложенного списка в такой последовательности, чтобы получился «паспорт» растения.

Список слов:

- 1) Растения
- 2) Покрытосеменные
- 3) Лилия золотистая
- 4) Однодольные
- 5) Лилия

Царство	Отдел	Класс	Род	Вид

4

Известно, что **рябина обыкновенная** – небольшое дерево с сочными плодами. Используя эти сведения, выберите из приведённого ниже списка два утверждения, относящиеся к описанию **данных** признаков этого растения.

Запишите в ответе **цифры**, соответствующие выбранным ответам.

- 1) Рябина растёт по берегам рек, озёр, вдоль дорог, по лесным опушкам, на полях, в парках, садах.
- 2) Рябина является символом счастья и мира в семье, её часто сажают возле дома.
- 3) Растение имеет пищевое, медоносное, медицинское, декоративное и другие значения.
- 4) У рябины единственный одревесневший стебель длиной до 12 м.
- 5) Мякотью плодов рябины питаются зимующие птицы.

Ответ.

--	--

5

Выберите из предложенного списка и вставьте в текст пропущенные слова, используя для этого их цифровые обозначения. Впишите номера выбранных слов на места пропусков в тексте.

Шляпочные грибы

Тело грибов состоит из многочисленных ветвящихся нитей, образующих _____(А). Шляпочные грибы в период размножения формируют _____(Б), состоящее из ножки и шляпки. Нижняя сторона шляпки покрыта спороносным слоем, который может быть пластинчатым, как у сыроежки, или _____(В), как у подосиновика.

Список слов:

- 1) слоевище
- 2) плодовое тело
- 3) грибница
- 4) трубчатый
- 5) пористый
- 6) спорангий

Запишите в таблицу выбранные цифры под соответствующими буквами.

□

Ответ.

А	Б	В

6

Приведите по три примера растений, относящихся к указанным семействам. Запишите их названия в таблицу.

□

Капустные (Крестоцветные)	Злаки

7

Установите соответствие между характеристиками и семействами растений: к каждой позиции, данной в первом столбце, подберите соответствующую позицию из второго столбца.

ХАРАКТЕРИСТИКИ

- А) стебель представлен соломиной
- Б) опыляются ветром
- В) плоды сухие многосемянные
- Г) способствуют обогащению почвы азотом
- Д) плод – зерновка
- Е) опыляются насекомыми

СЕМЕЙСТВА

- 1) Злаки
- 2) Мотыльковые

Запишите в таблицу выбранные цифры под соответствующими буквами.

Ответ.

А	Б	В	Г	Д	Е

8

Установите последовательность процессов, происходящих при прорастании семени фасоли. В ответе запишите соответствующую последовательность цифр.

- 1) рост зародышевого стебелька
- 2) проникновение воды внутрь семени
- 3) появление главного корня из зародышевого корешка
- 4) набухание семени
- 5) вынос семядолей над поверхностью почвы

Ответ.

--	--	--	--	--

9 К какому классу относят растение, корневая система которого показана на рисунке 1?

- 1) Сфагновые мхи
- 2) Двудольные
- 3) Бурые водоросли
- 4) Папоротниковые



Рисунок 1

Ответ.

10 Какое число лепестков, вероятнее всего, будет у растения, корневая система которого изображена на рисунке (см. задание 9)? Почему?

Ответ. _____

11 Верны ли следующие суждения об особенностях мхов?

- А. Имеют примитивный корень, обеспечивающий питание в наземной среде.
Б. Распространение сфагновых болот приводит к образованию месторождений нефти.

- 1) верно только А
- 2) верно только Б
- 3) оба суждения верны
- 4) оба суждения неверны

Ответ.

12

Рассмотрите изображения шести представителей мира растений. Предложите основание, согласно которому эти растения можно разделить на две группы по три представителя в каждой.



Огурец



Лапчатка



Абрикос



Баклажан



Редька дикая



Чина луговая

Заполните таблицу: запишите в неё основание, по которому были разделены растения, общее название для каждой группы растений и перечислите растения, которые вы отнесли к этой группе.


Номер группы	Какое основание позволило разделить растения?	Как называется данная группа растений?	Какие растения относятся к данной группе?
Группа 1			
Группа 2			



13

13.1. Рассмотрите изображения растений: *улотрикс*, *туя*, *ламинария*. Подпишите их названия под соответствующими изображениями.

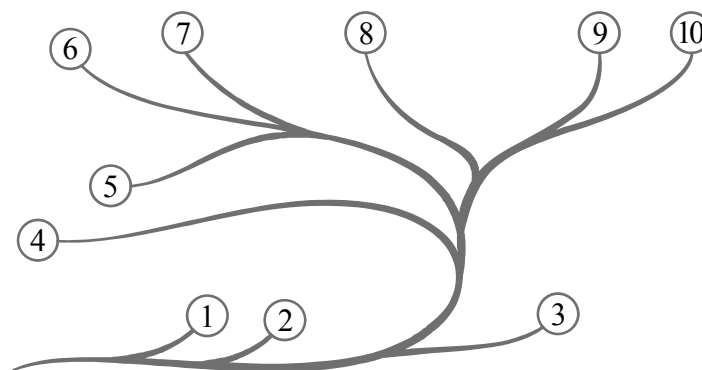
Под каждым названием растения укажите среду его обитания: *наземно-воздушная*, *водная*.



Название			
Среда обитания			

13.2. Рассмотрите схему, отражающую развитие растительного мира Земли.

- 1 – Зелёные водоросли
- 2 – Красные водоросли
- 3 – Бурые водоросли
- 4 – Мхи
- 5 – Плауны
- 6 – Папоротники
- 7 – Хвои
- 8 – Голосеменные
- 9 – Однодольные
- 10 – Двудольные



Какими цифрами на схеме обозначены группы организмов, к которым относят изображённые на рисунках растения? Запишите в таблицу номера соответствующих групп.

Ламинария	Туя	Улотрикс

13.3. Какое из этих организмов относят к высшим семенным растениям?

Ответ. _____