

**Проверочная работа
по ГЕОГРАФИИ**

7 КЛАСС

Вариант 1

Инструкция по выполнению работы


На выполнение работы по географии даётся 90 минут. Работа включает в себя 8 заданий.

Ответы на задания запишите в поля ответов в тексте работы. В случае записи неверного ответа зачеркните его и запишите рядом новый.

При выполнении работы не разрешается пользоваться учебником, рабочими тетрадями, атласом и другим справочным материалом. Для выполнения задания 2 Вам потребуются калькулятор и карандаш.

При необходимости можно пользоваться черновиком. Записи в черновике проверяться и оцениваться не будут.

Советуем выполнять задания в том порядке, в котором они даны. В целях экономии времени пропускайте задание, которое не удаётся выполнить сразу, и переходите к следующему. Если после выполнения всей работы у Вас останется время, то Вы сможете вернуться к пропущенным заданиям.

Значком  отмечены задания, ответы на которые записываются на картах, приведённых на страницах 2, 11.

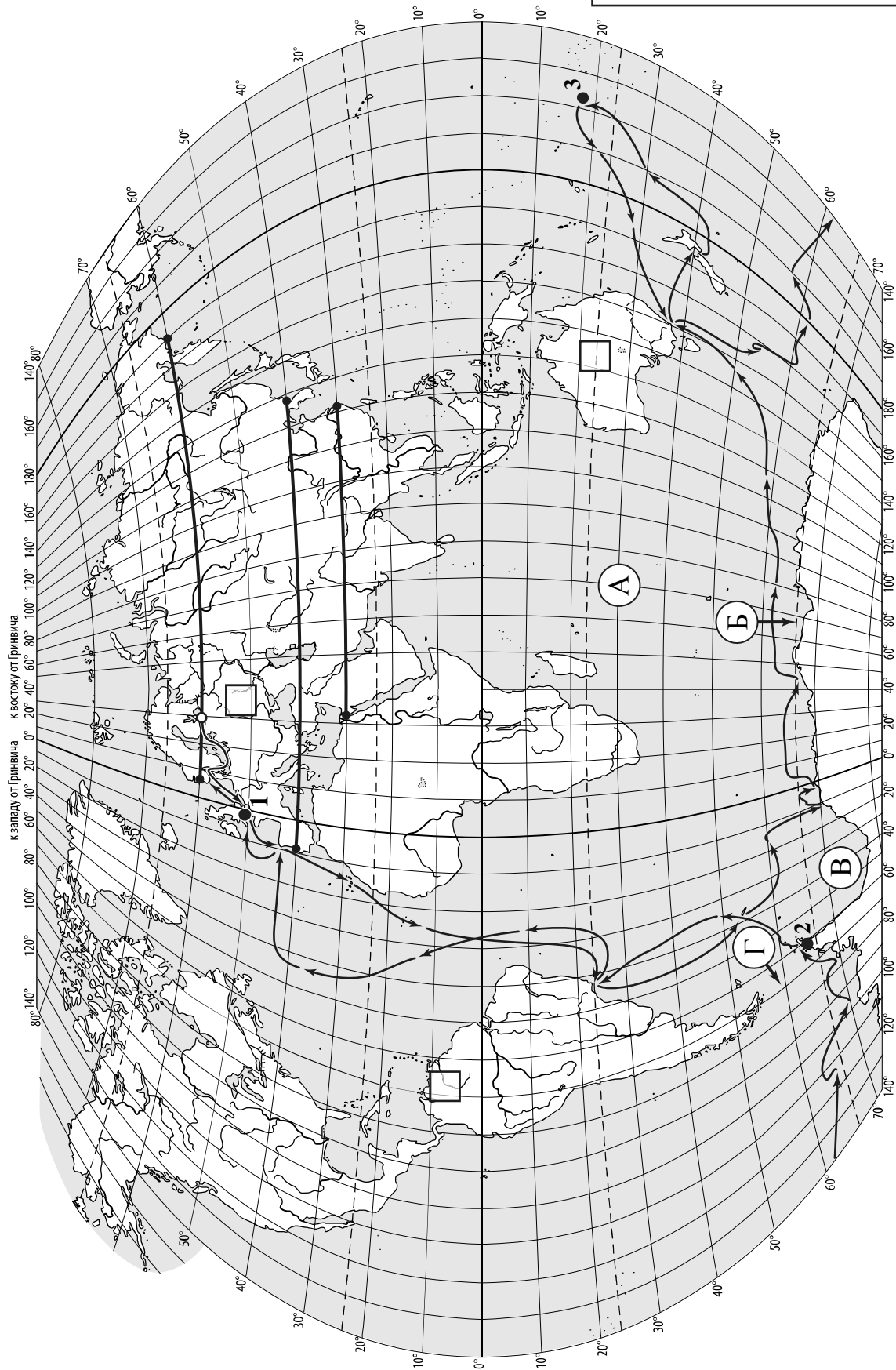
Желаем успеха!

Таблица для внесения баллов участника

Номер задания	1.1	1.2	1.3	1.4	2.1	2.2	2.3	3.1	3.2	3.3	3.4	4.1	4.2	4.3	5.1	5.2
Баллы																
Номер задания	6.1	6.2	6.3	7.1	7.2	8.1	8.2	8.3	Сумма баллов		Отметка за работу					
Баллы																



Карта для выполнения заданий 1.1, 3.2




к западу от Гринвича к востоку от Гринвича

Задания 1–3 выполняются с использованием карты мира, приведённой на странице 2.

1

На карте мира, приведённой на странице 2, изображён маршрут экспедиции одного из путешественников, портреты которых представлены ниже. Рассмотрите карту и портреты путешественников и выполните задания.

1.1. Маршрут экспедиции кого из путешественников изображён на карте?



Марко Поло



Н.М. Пржевальский



Ф.Ф. Беллинсгаузен

Ответ. _____



Подпишите на карте название материка, который был открыт в результате этой экспедиции.



1.2. На карте буквами обозначены объекты, определяющие географическое положение указанного Вами материка. Запишите в таблицу названия этих объектов.

А	Б	В	Г



1.3. По линии маршрута экспедиции отмечены точки, расположенные на территории крупных географических объектов. Определите и запишите в ответе географические координаты **точки 2**.



Ответ. _____

1.4. Прочитайте текст, составленный по запискам путешественников, исследователей и туристов, посещавших объект, на территории которого расположена **точка 2**.

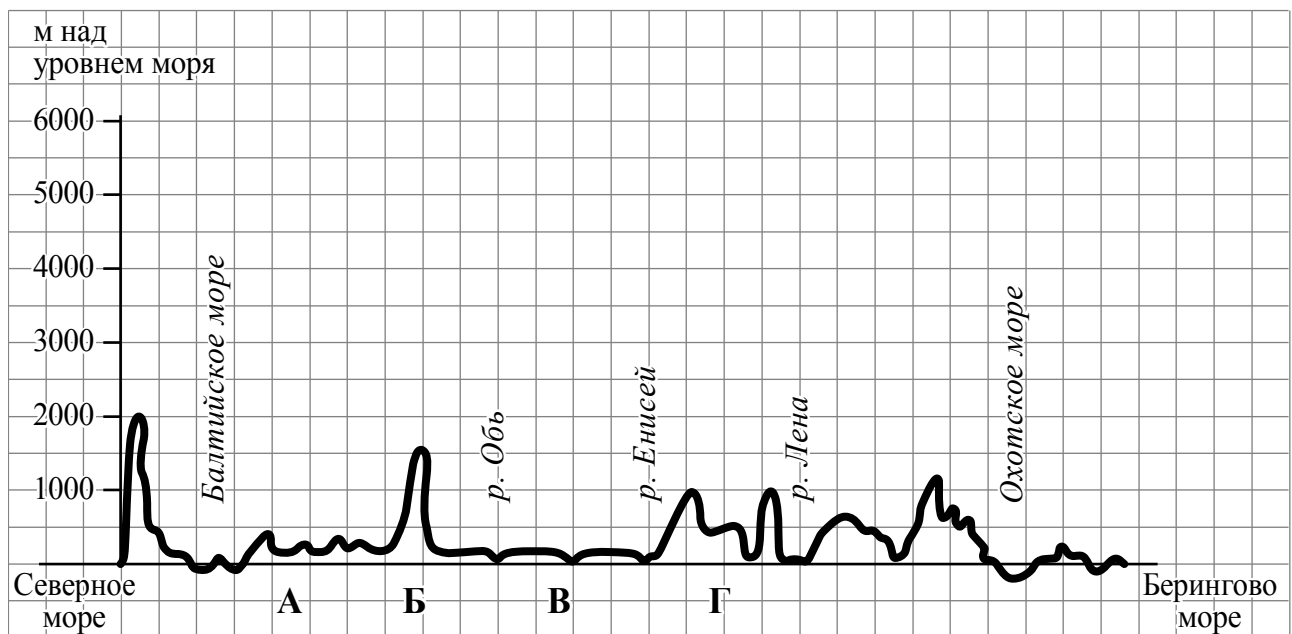
До 1961 года этот крупнейший полуостров на картах разных стран мира фигурировал под различными названиями: полуостров Палмера, Земля Грейама, Земля Сан-Мартина. Полуостров имеет гористый рельеф, который покрыт ледником, высота ледникового плато в центральной части полуострова местами достигает 2000 м. Вдоль побережья полуострова расположены шельфовые ледники. Самый холодный месяц на полуострове – июнь, со средними температурами $-15...-20$ °С; самый тёплый – январь, с температурой, близкой к 0 °С. В районе полуострова расположен ряд красивых бухт, небольших проливов и островов.

Запишите в ответе название этого географического объекта.

Ответ. _____

2

На уроке географии Виктор построил профиль рельефа Евразии, представленный на рисунке 1. Используя рисунок 1 и карту мира, приведённую на странице 2, выполните задания.



2.1. По какому из отрезков, проведённых на карте вдоль трёх параллелей, пересекающих материк Евразия, построен профиль рельефа, представленный на рисунке 1? Укажите в ответе значение параллели.

Ответ. _____

Определите по карте протяжённость материка Евразия **в градусах** по указанной Вами параллели.

Ответ. _____

Рассчитайте протяжённость материка Евразия по указанной Вами параллели **в километрах** с помощью приведённой ниже таблицы. (Для расчёта воспользуйтесь калькулятором.)

Широта	0°	10°	20°	30°	40°	50°	60°	70°	80°	90°
Длина дуги параллели в 1°, км	111,3	109,6	104,6	96,5	85,4	71,7	55,8	38,2	19,4	0

Ответ. _____

2.2. Укажите географическое название крупной формы рельефа, которой соответствует участок профиля, обозначенный на рисунке 1 буквой А.

Ответ. _____

Какие абсолютные высоты преобладают на территории, через которую проходит профиль на этом участке?

Ответ. _____

2.3. На рисунке 2 представлены значки, которыми обозначаются месторождения полезных ископаемых на географических картах.

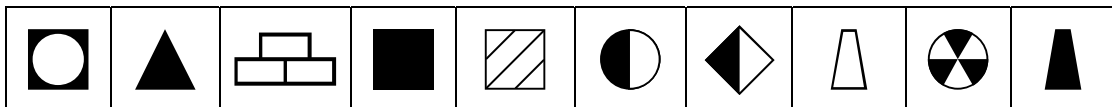


Рисунок 2

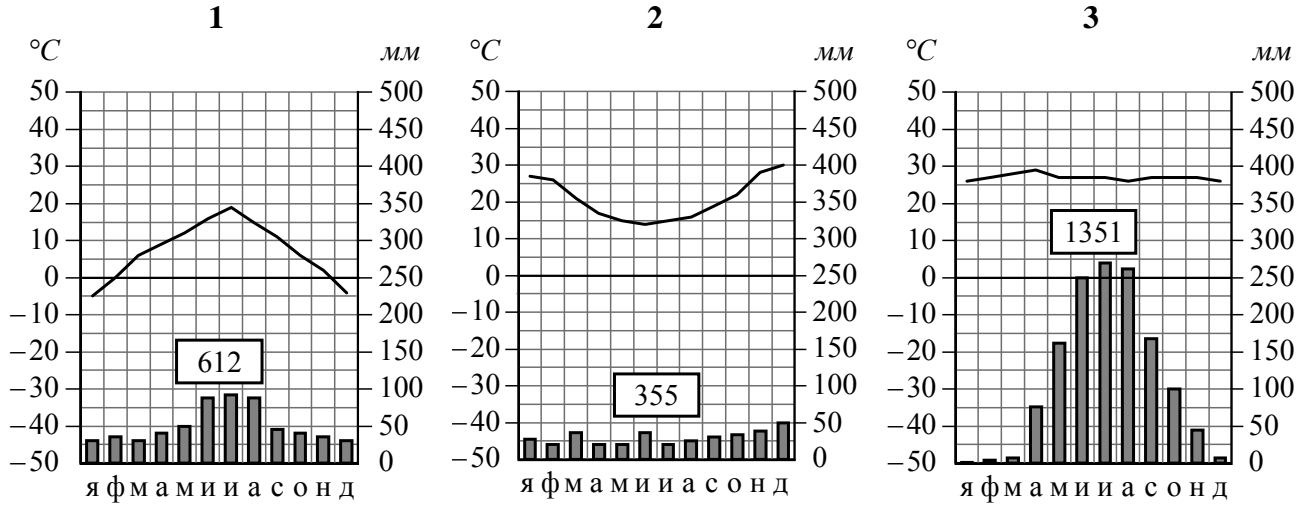
Внесите в таблицу значки, обозначающие месторождения полезных ископаемых, которые добывают на территории, обозначенной на профиле буквой А.

Нефть	Бурая уголь	Торф	Алюминиевые руды / Бокситы

3

Рассмотрите рисунки с изображением климатограмм, построенных по данным метеонаблюдений в разных частях Земли, и выполните задания.

3.1. Определите, какому климатическому поясу соответствует каждая климатограмма. Подпишите название климатического пояса под соответствующей климатограммой.





3.2. На карте мира, приведённой на странице 2, территории, для которых построены изображённые на рисунках климатограммы, обозначены пустыми квадратами. Впишите в каждый квадрат на карте номер соответствующей климатограммы.

3.3. Какой природной зоне мира соответствуют приведённые ниже характеристики? Укажите в ответе название этой природной зоны.

- 1) Занимает территории с засушливым климатом.
- 2) Распространены эоловые формы рельефа: дюны, барханы.
- 3) Преобладают каменистые или песчаные почвы.
- 4) Растительность не образует сплошного покрова, а на части территории почти отсутствует, видовой состав отличается на разных материках.
- 5) Много грызунов, членистоногих, пресмыкающихся.

Ответ. _____

Выберите климатограмму, соответствующую климатическим особенностям указанной Вами природной зоны. Укажите в ответе её номер.

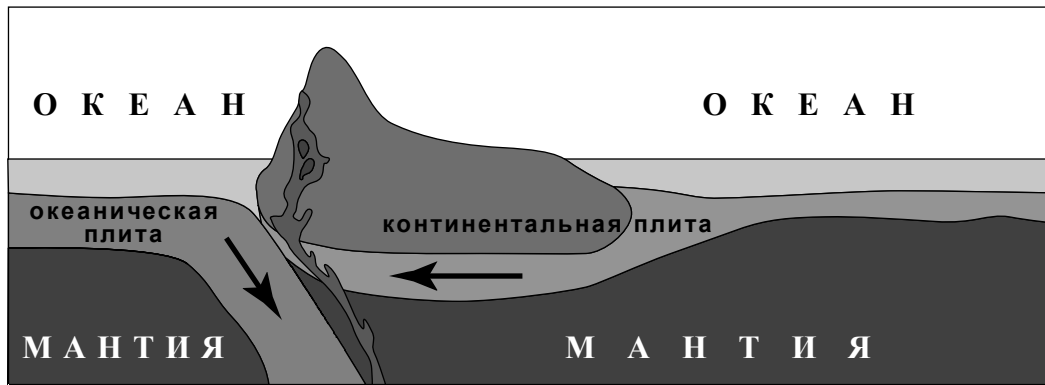
Ответ.

3.4. По выбранной Вами климатограмме заполните таблицу климатических показателей для указанной природной зоны.

Средняя температура воздуха, °С		Годовая амплитуда температур, °С	Годовое количество осадков, мм	Месяц, на который приходится наибольшее количество осадков
в январе	в июле			
<input type="text"/>	<input type="text"/>	<input type="text"/>	<input type="text"/>	<input type="text"/>

4

Рассмотрите схему природного процесса и выполните задания.



4.1. Какой природный процесс отображён на схеме?

Ответ. _____

4.2. Установите последовательность этапов указанного Вами природного процесса. Запишите в ответе **порядковые номера** этапов.

ЭТАПЫ:

- 1) При столкновении более тонкая океаническая литосферная плита «подныривает» под более мощную континентальную плиту.
- 2) Вдоль линии соприкосновения плит на окраине материка образуются высокие горные хребты, а в океане – глубоководный жёлоб.
- 3) На окраине материка происходит поднятие континентальной плиты и смятие горных пород в складки.
- 4) Литосферные плиты перемещаются по верхней части мантии навстречу друг другу.
- 5) Происходят землетрясения и извержения вулканов.

Ответ.

--	--	--	--	--

4.3. Укажите географические названия форм рельефа суши и дна океана, образовавшихся на границе материка Южная Америка и Тихого океана в результате процесса, отображённого на схеме.

Ответ. _____

5

5.1. Установите соответствие между географическими особенностями и материками, для которых они характерны: для этого к каждой позиции первого столбца подберите соответствующую позицию из второго столбца.

ГЕОГРАФИЧЕСКИЕ ОСОБЕННОСТИ

- А) Около половины площади материка занимают влажные экваториальные леса – сельва.
- Б) На материке находится самая высокая вершина Земли.
- В) На юго-западе материка глубоко в сушу вдаются моря, соединённые с океаном узким проливом.
- Г) Большую часть материка занимают низменности и плоскогорья, а на западе протягивается самая длинная горная цепь Земли.
- Д) Территория материка расположена во всех климатических поясах Земли.
- Е) На материке находится самое высокогорное озеро мира.

МАТЕРИКИ

- 1) Южная Америка
- 2) Евразия

Запишите в таблицу выбранные цифры под соответствующими буквами.

□

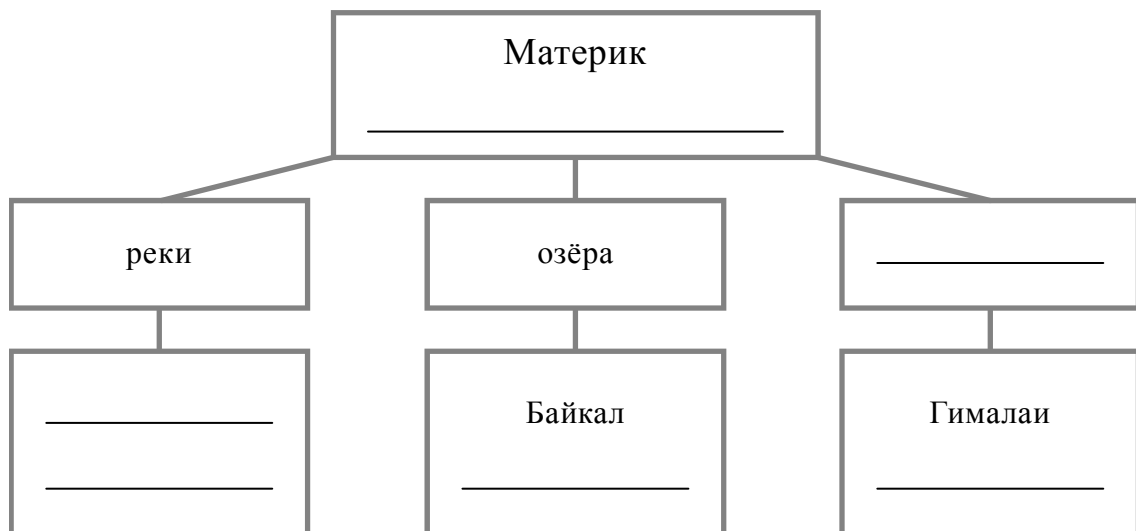
Ответ.

А	Б	В	Г	Д	Е

5.2. В приведённом ниже списке перечислены крупные географические объекты. Выберите из списка названия географических объектов, расположенных на территории одного из указанных в задании 5.1 материков, и заполните схему. Впишите в схему название материка, типы и названия выбранных Вами географических объектов.

Альпы, Верхнее, Анды, Дарлинг, Калахари, Замбези, Янцзы, Виктория, Карибское, Обь, Аппалачи, Ладожское.

□



Задания 6 и 7 выполняются с использованием политической карты мира, приведённой на странице 11.

6


Карлос и Глеб познакомились на отдыхе. Карлос живёт в столице Мексики, а Глеб – в столице Белоруссии. Подростки общаются через Интернет, и при общении им приходится учитывать разницу во времени между их городами.




6.1. На политической карте мира, приведённой на странице 11, выделите штриховкой страны, в которых живут подростки.




6.2. Часы на рисунках отображают время в городах, где живут подростки. Подпишите названия городов под соответствующими часами.



Время по Гринвичу
24:00 / 00:00 (полночь)



7 марта
18:00



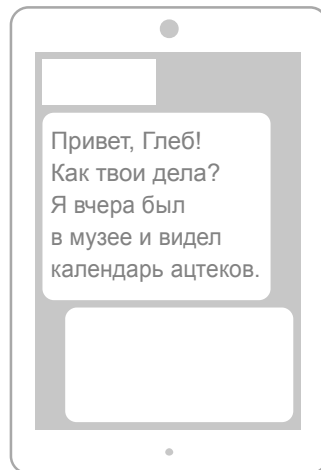
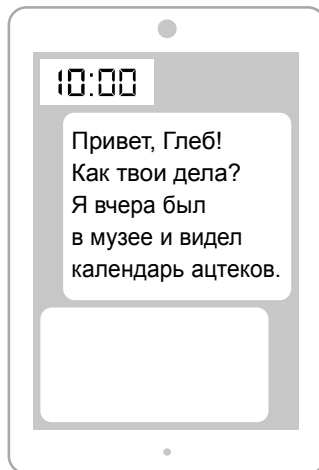
8 марта
03:00



6.3. Карлос отправил Глебу электронное сообщение в 10:00 по местному времени.

Карлос

Глеб



Какое время будет отображаться в соответствующем окне на экране смартфона Глеба, когда он получит сообщение от Карлоса?



Ответ. _____

7

Используя представленную ниже таблицу и политическую карту мира, приведённую на странице 11, выполните задания.

Численность и состав населения, 2017 г.

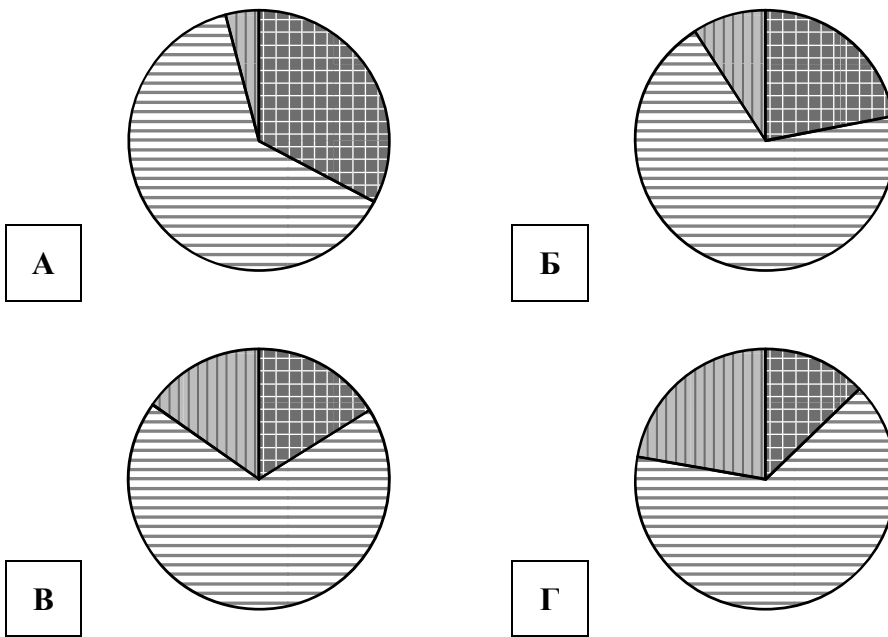
№	Страна	Численность населения, млн человек	Возрастной состав, %		
			доля населения в возрасте до 15 лет	доля населения в возрасте от 15 до 65 лет	доля населения в возрасте старше 65 лет
1	Бразилия	211	22	69	9
2	Куба	11	16	68	15
3	Египет	95	33	63	4
4	Германия	81	13	65	22






7.1. Подпишите на политической карте мира название страны, занимающей второе место в таблице по численности населения.



7.2. Определите, возрастной состав населения какой страны отражает каждая диаграмма. Запишите в ответе порядковые номера стран под соответствующими буквами.




 доля населения в возрасте до 15 лет
  доля населения в возрасте от 15 до 65 лет
  доля населения в возрасте старше 65 лет

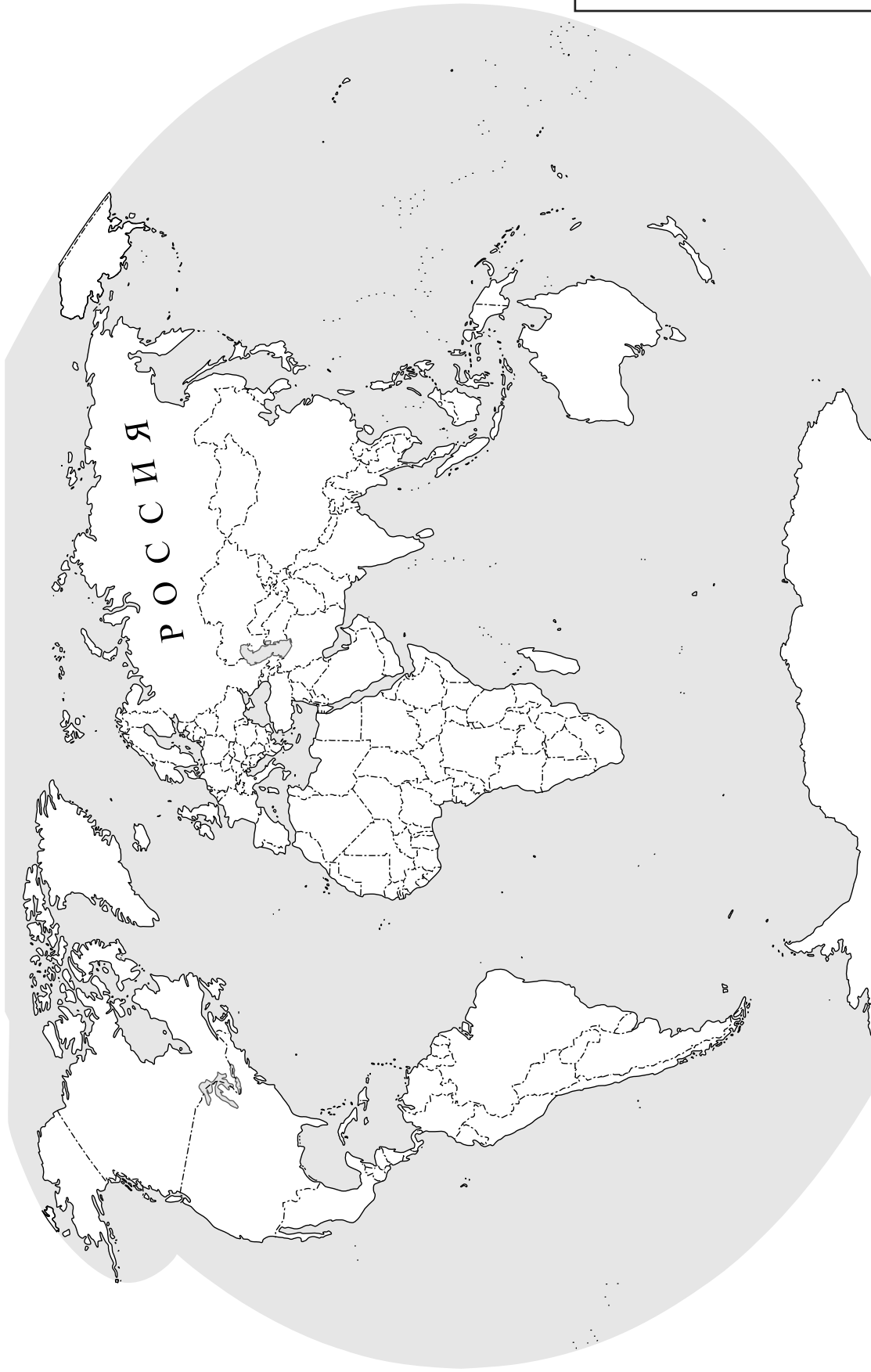


Ответ.

А	Б	В	Г

КОД

 Карта для выполнения заданий 6.1, 7.1



8

Представьте, что Вам было поручено взять интервью у зарубежного сверстника, чтобы он познакомил Вас со своей страной. Для иллюстрации этого интервью Вы попросили его прислать несколько фотографий, сделанных в стране, в которой он живёт.

8.1. Рассмотрите фотографии и ответьте на вопросы.



В какой стране живёт Ваш сверстник?

Ответ. _____

8.2. Рассмотрите представленные ниже рисунки. Выберите рисунок с контуром страны, в которой живёт Ваш сверстник. Запишите в ответе букву, которой обозначен этот рисунок.



А



Б



В

Ответ.

8.3. Предположите, какие ответы на вопросы о своей стране даст Ваш сверстник в ходе интервью. Запишите их в таблицу.

Вопрос	Ответ
1. На каком материке находится твоя страна?	
2. Какие океаны омывают берега твоей страны?	
3. Какие полезные ископаемые добывают в твоей стране?	
4. Какие природные зоны занимают бóльшую часть твоей страны?	
5. К какой расе относится коренное население твоей страны?	
6. Какие сельскохозяйственные культуры выращиваются в твоей стране?	
7. Какие достопримечательности можно посмотреть в твоей стране?	

