

**Проверочная работа
по ГЕОГРАФИИ**

7 КЛАСС

Вариант 1

Инструкция по выполнению работы


На выполнение работы по географии даётся 90 минут. Работа включает в себя 8 заданий.

Ответы на задания запишите в поля ответов в тексте работы. В случае записи неверного ответа зачеркните его и запишите рядом новый.

При выполнении работы не разрешается пользоваться учебником, рабочими тетрадями, атласом и другим справочным материалом. Для выполнения задания 2 Вам потребуются калькулятор и карандаш.

При необходимости можно пользоваться черновиком. Записи в черновике проверяться и оцениваться не будут.


Советуем выполнять задания в том порядке, в котором они даны. В целях экономии времени пропускайте задание, которое не удаётся выполнить сразу, и переходите к следующему. Если после выполнения всей работы у Вас останется время, то Вы сможете вернуться к пропущенным заданиям.

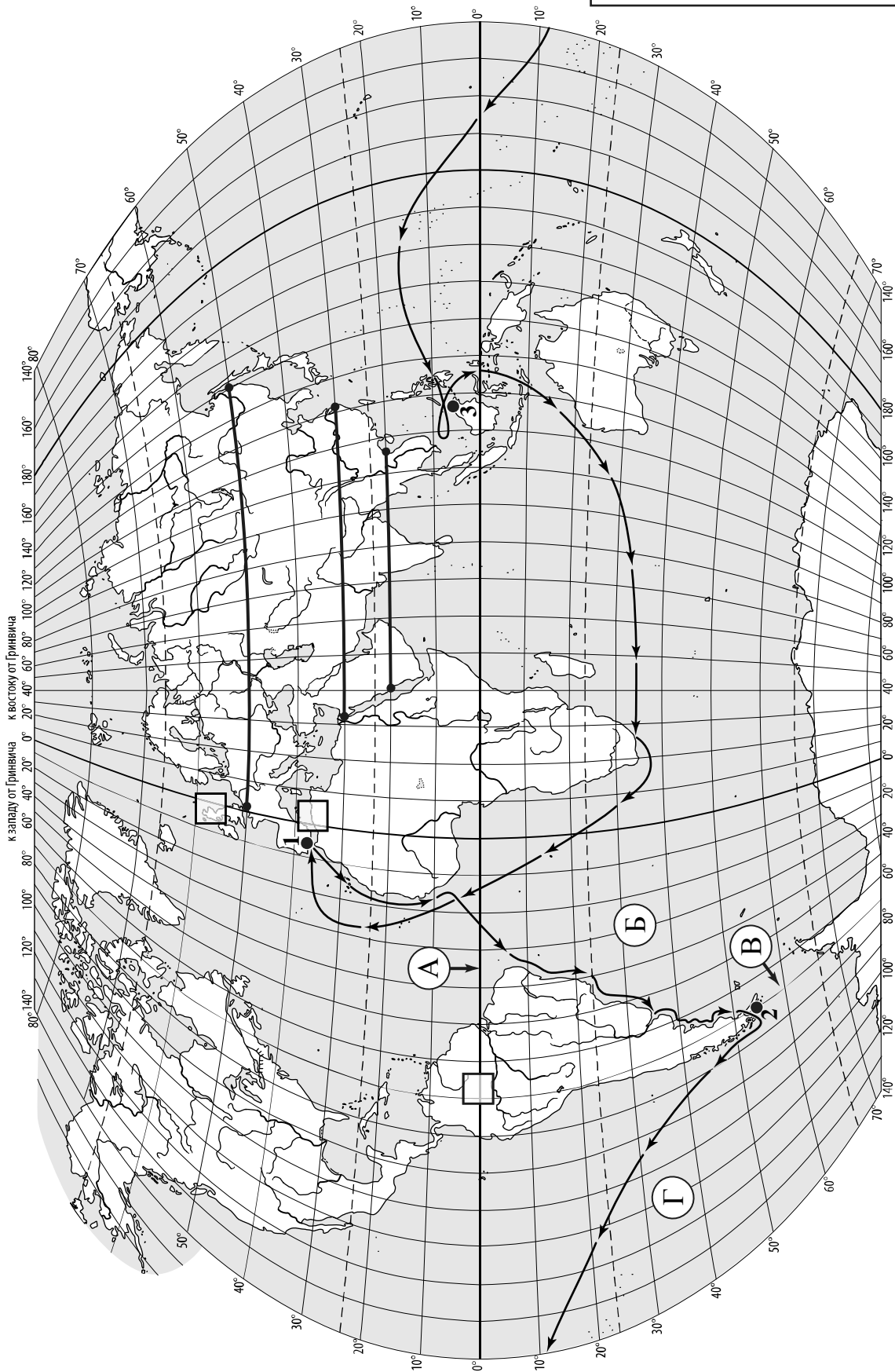
Значком  отмечены задания, ответы на которые записываются на картах, приведённых на страницах 2, 11.

Желаем успеха!

Таблица для внесения баллов участника

Номер задания	1.1	1.2	1.3	1.4	2.1	2.2	2.3	3.1	3.2	3.3	3.4	4.1	4.2	4.3	5.1	5.2
Баллы																
Номер задания	6.1	6.2	6.3	7.1	7.2	8.1	8.2	8.3	Сумма баллов		Отметка за работу					
Баллы																

 Карта для выполнения заданий 1.1, 3.2



Задания 1–3 выполняются с использованием карты мира, приведённой на странице 2.

1

На карте мира, приведённой на странице 2, изображён маршрут экспедиции одного из путешественников, портреты которых представлены ниже. Рассмотрите карту и портреты путешественников и выполните задания.

1.1. Маршрут экспедиции кого из путешественников изображён на карте?



Абель Тасман



Фернан Магеллан



Христофор Колумб

Ответ. _____



Подпишите на карте название материка, который эта экспедиция обогнула с юга, пройдя через узкий пролив.



1.2. На карте буквами обозначены объекты, определяющие географическое положение указанного Вами материка. Запишите в таблицу названия этих объектов.



А	Б	В	Г

1.3. По линии маршрута экспедиции отмечены точки, расположенные на территории крупных географических объектов. Определите и запишите в ответе географические координаты **точки 2**.



Ответ. _____

1.4. Прочитайте текст, составленный по запискам путешественников, исследователей и туристов, посещавших объект, на территории которого расположена **точка 2**.

Этот архипелаг включает в себя около 40 тысяч островов, из которых на один, самый крупный остров приходится более половины всей площади. Эти острова иногда называют «краем Земли». Горные вершины покрыты снегом и ледниками, а деревья словно прижимаются к земле от постоянных сильных ветров. Леса, расположенные здесь, являются самым южным лесным массивом на Земле. На островах обитают ламы и красные лисы, огромное число тюленей и морских львов, шумные птичьи базары занимают берега островов. Большая часть островов заселена, но население малочисленно. Учёные-археологи считают, что древнейшие человеческие поселения возникли на самом большом острове архипелага более 10 тысяч лет назад. Здесь расположен и самый южный город мира, принадлежащий Чили.

Запишите в ответе название этого географического объекта.

Ответ. _____

2

На уроке географии Лариса построила профиль рельефа Евразии, представленный на рисунке 1. Используя рисунок 1 и карту мира, приведённую на странице 2, выполните задания.

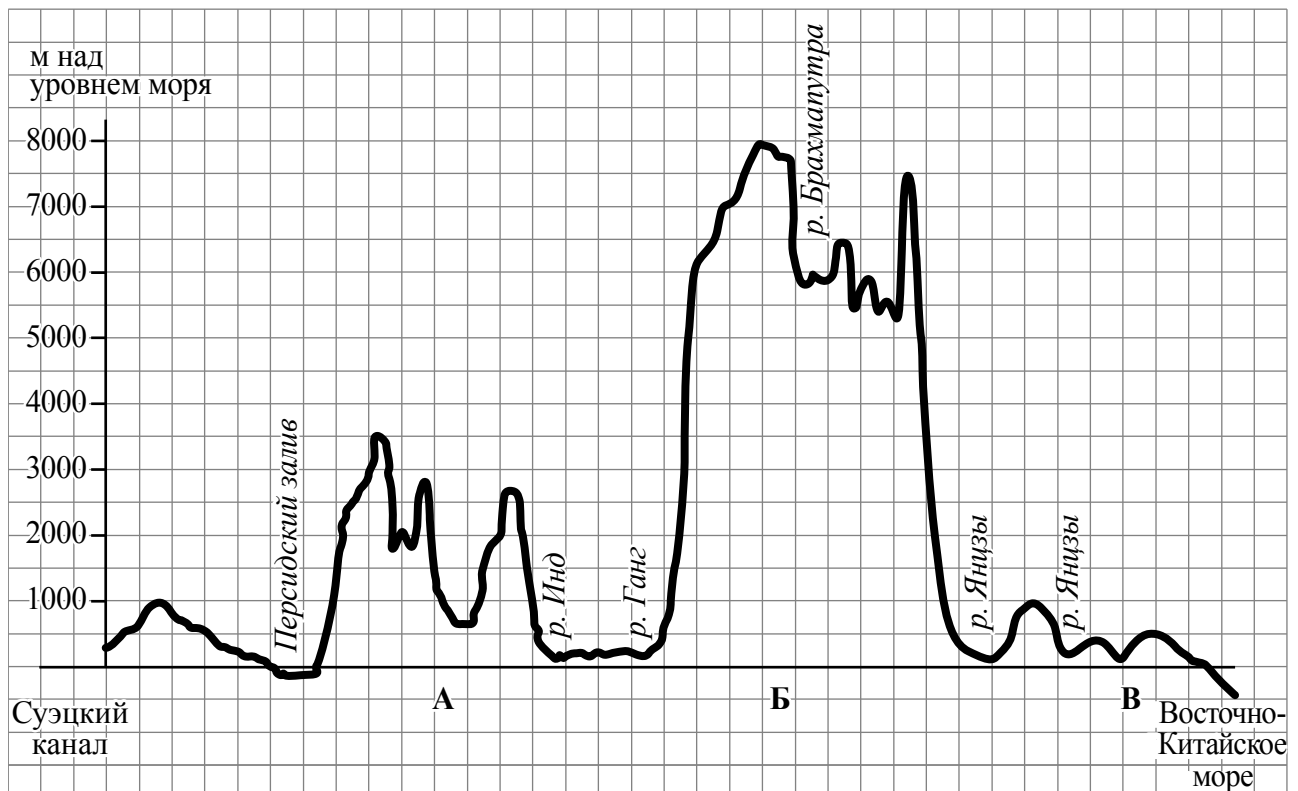


Рисунок 1

2.1. По какому из отрезков, проведённых на карте вдоль трёх параллелей, пересекающих материк Евразия, построен профиль рельефа, представленный на рисунке 1? Укажите в ответе значение параллели.

Ответ. _____

Определите по карте протяжённость материка Евразия **в градусах** по указанной Вами параллели.

Ответ. _____

Рассчитайте протяжённость материка Евразия по указанной Вами параллели **в километрах** с помощью приведённой ниже таблицы. (Для расчёта воспользуйтесь калькулятором.)

Широта	0°	10°	20°	30°	40°	50°	60°	70°	80°	90°
Длина дуги параллели в 1°, км	111,3	109,6	104,6	96,5	85,4	71,7	55,8	38,2	19,4	0

Ответ. _____

2.2. Укажите географическое название крупной формы рельефа, которой соответствует участок профиля, обозначенный на рисунке 1 буквой Б.

Ответ. _____

Определите наибольшую абсолютную высоту территории, через которую проходит профиль на этом участке.

Ответ. _____

2.3. На рисунке 2 представлены значки, которыми обозначаются месторождения полезных ископаемых на географических картах.

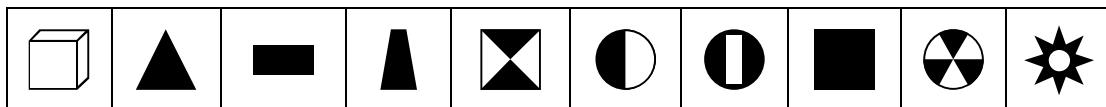


Рисунок 2

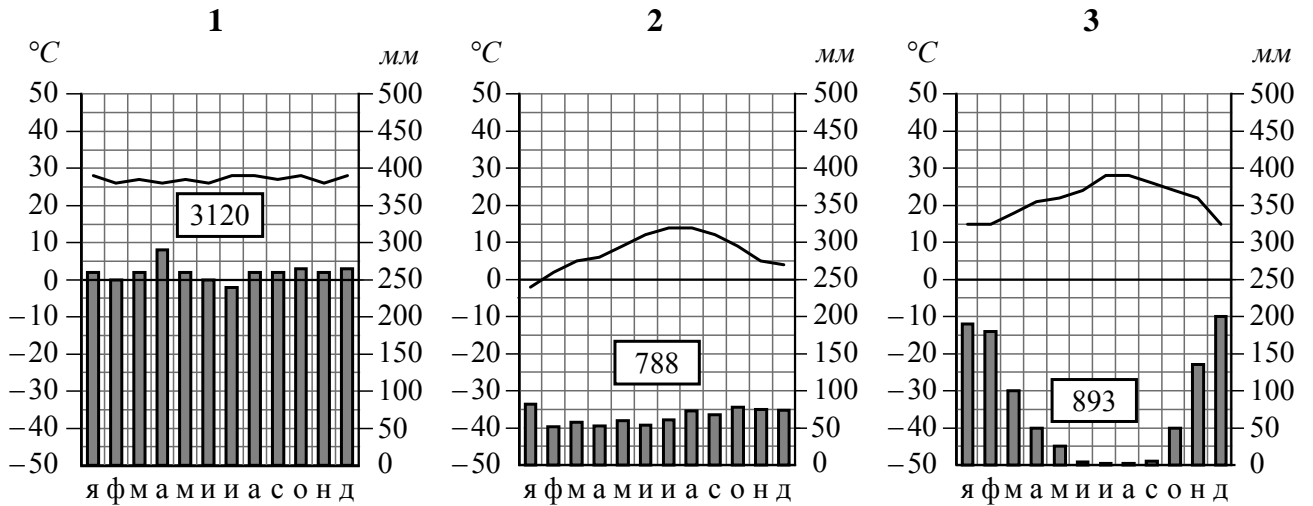
Внесите в таблицу значки, обозначающие месторождения полезных ископаемых, которые добывают на территории, обозначенной на профиле буквой Б.

Медные руды	Золото	Хромовые руды	Каменная соль

3

Рассмотрите рисунки с изображением климатограмм, построенных по данным метеонаблюдений в разных частях Земли, и выполните задания.

3.1. Определите, какому климатическому поясу соответствует каждая климатограмма. Подпишите название климатического пояса под соответствующей климатограммой.



3.2. На карте мира, приведённой на странице 2, территории, для которых построены изображённые на рисунках климатограммы, обозначены пустыми квадратами. Впишите в каждый квадрат на карте номер соответствующей климатограммы.

3.3. Какой природной зоне мира соответствуют приведённые ниже характеристики? Укажите в ответе название этой природной зоны.

- 1) Занимает прибрежные территории вдоль морей и океанов на всех материках, кроме Антарктиды.
- 2) Наиболее типичны пробковый и каменный дуб, кипарис, туя, лавр.
- 3) На плодородных коричневых почвах выращивают субтропические культуры: оливы, цитрусовые, виноград.
- 4) Среди представителей животного мира много пресмыкающихся, насекомых и птиц.
- 5) Из-за высокой хозяйственной освоенности естественная растительность и дикие животные сохранились только в предгорьях и на охраняемых территориях.

Ответ. _____

Выберите климатограмму, соответствующую климатическим особенностям указанной Вами природной зоны. Укажите в ответе её номер.



Ответ.

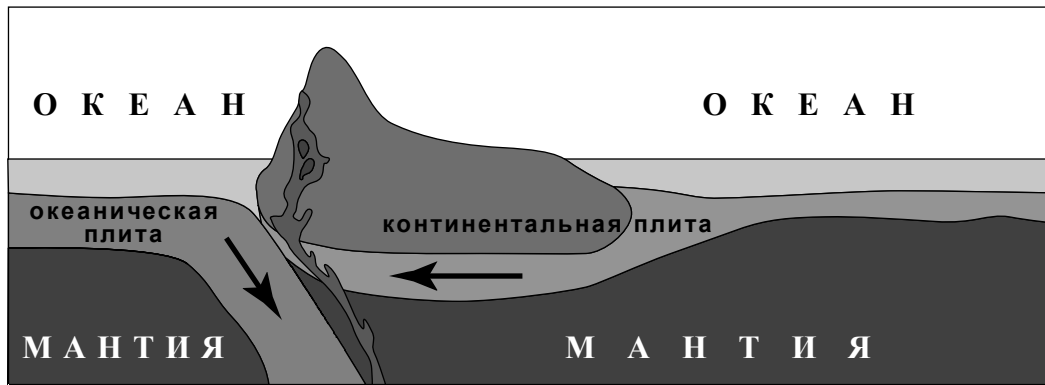
3.4. По выбранной Вами климатограмме заполните таблицу климатических показателей для указанной природной зоны.

Средняя температура воздуха, °C		Годовая амплитуда температур, °C	Годовое количество осадков, мм	Месяц, на который приходится наибольшее количество осадков
в январе	в июле			



4

Рассмотрите схему природного процесса и выполните задания.



4.1. Какой природный процесс отображён на схеме?

Ответ. _____

4.2. Установите последовательность этапов указанного Вами природного процесса. Запишите в ответе **порядковые номера** этапов.

ЭТАПЫ:

- 1) При столкновении более тонкая океаническая литосферная плита «подныривает» под более мощную континентальную плиту.
- 2) Вдоль линии соприкосновения плит на окраине материка образуются высокие горные хребты, а в океане – глубоководный жёлоб.
- 3) На окраине материка происходит поднятие континентальной плиты и смятие горных пород в складки.
- 4) Литосферные плиты перемещаются по верхней части мантии навстречу друг другу.
- 5) Происходят землетрясения и извержения вулканов.

Ответ.

--	--	--	--	--

4.3. Укажите географические названия форм рельефа суши и дна океана, образовавшихся на границе материка Южная Америка и Тихого океана в результате процесса, отображённого на схеме.

Ответ. _____

5

5.1. Установите соответствие между географическими особенностями и материками, для которых они характерны: для этого к каждой позиции первого столбца подберите соответствующую позицию из второго столбца.

ГЕОГРАФИЧЕСКИЕ ОСОБЕННОСТИ

МАТЕРИКИ

- А) Берега материка омываются водами южных частей трёх океанов.
- Б) Материк почти посередине пересекается Южным тропиком.
- В) На территории материка находятся научные станции 28 государств мира.
- Г) Большая часть растений и животных, обитающих на материке, являются эндемиками.
- Д) Горы занимают относительно небольшую площадь и протягиваются узкой цепью вдоль всего восточного побережья материка.
- Е) На материке наблюдаются самые сильные ветры на Земле.

- 1) Австралия
- 2) Антарктида

Запишите в таблицу выбранные цифры под соответствующими буквами.

□

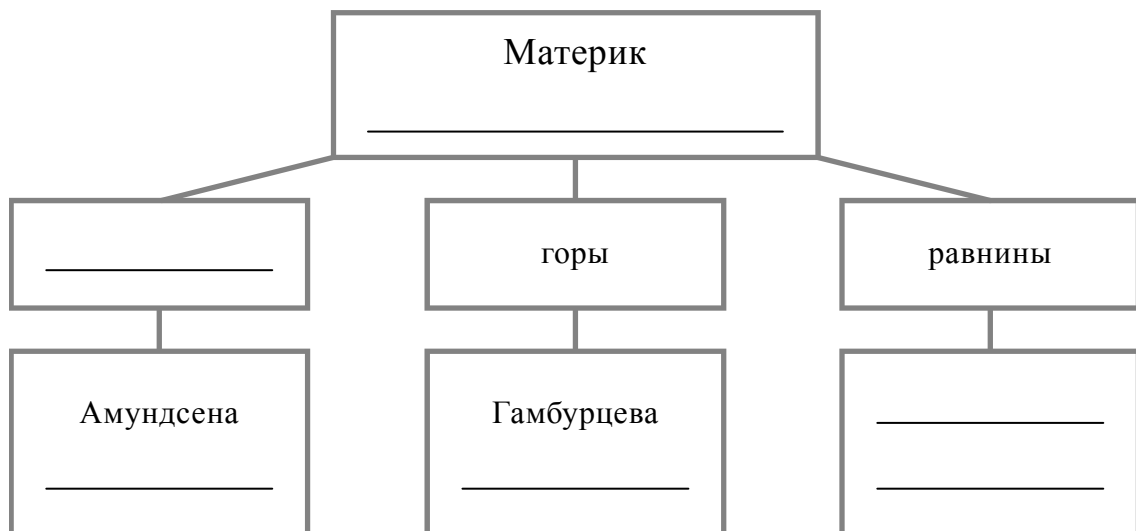
Ответ.

А	Б	В	Г	Д	Е

5.2. В приведённом ниже списке перечислены крупные географические объекты. Выберите из списка названия географических объектов, расположенных на территории одного из указанных в задании 5.1 материков, и заполните схему. Впишите в схему название материка, типы и названия выбранных Вами географических объектов.

Гималаи, Уэдделла, Охотское, Берингово, Вернадского, Красное, Восточная, Аппалачи, Центральные, Шмидта, Вернадского, Атлас.

□



Задания 6 и 7 выполняются с использованием политической карты мира, приведённой на странице 11.

6


Ганс и Джохар познакомились в международном детском центре «Артек» в России. Ганс живёт в столице Германии, а Джохар – в столице Индии. Подростки общаются через Интернет, и при общении им приходится учитывать разницу во времени между их городами.



6.1. На политической карте мира, приведённой на странице 11, выделите штриховкой страны, в которых живут подростки.




6.2. Часы на рисунках отображают время в городах, где живут подростки. Подпишите названия городов под соответствующими часами.

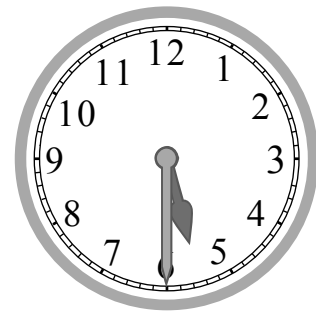


Время по Гринвичу

12:00 (полдень)



25 марта
13:00

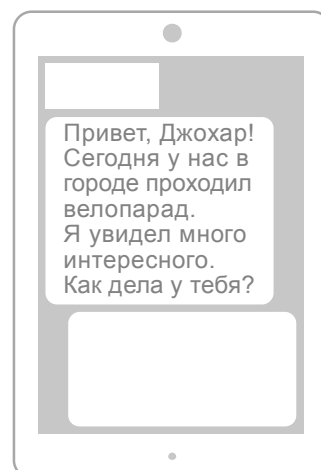
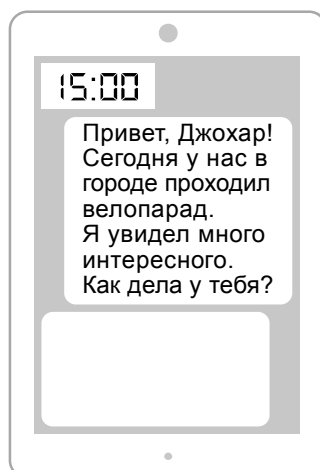


25 марта
17:30

6.3. Ганс отправил Джохару электронное сообщение в 15:00 по местному времени.

Ганс

Джохар



Какое время будет отображаться в соответствующем окне на экране смартфона Джохара, когда он получит сообщение от Ганса?



Ответ. _____

7

Используя представленную ниже таблицу и политическую карту мира, приведённую на странице 11, выполните задания.

Численность и религиозный состав населения, 2018 г.

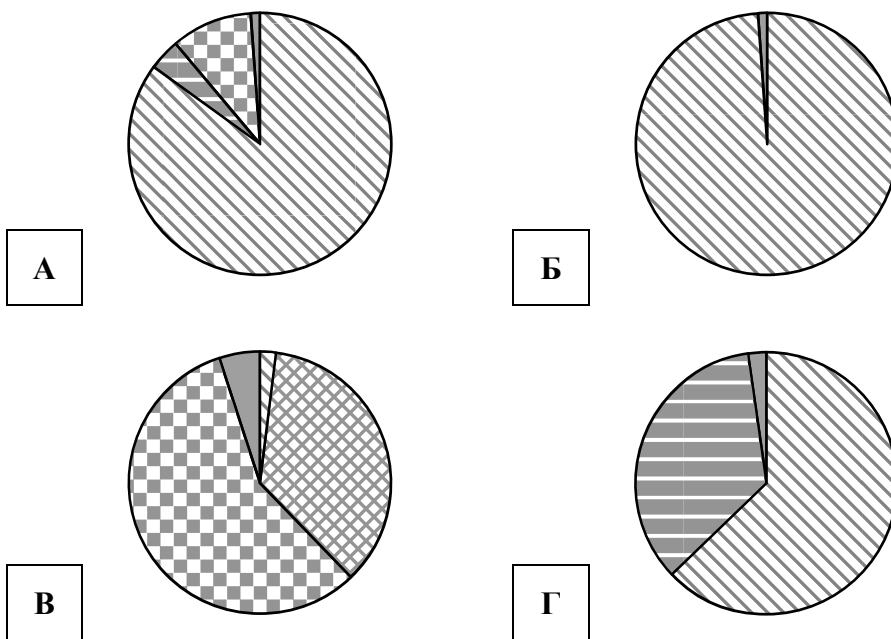
№	Страна	Численность населения, млн человек	Доля населения, %				
			Христиане	Мусульмане	Буддисты	Атеисты	Другие
1	Япония	126	2	–	36	57	5
2	Эфиопия	108	63	35	–	–	2
3	Норвегия	5	85	4	–	10	1
4	Армения	3	99	–	–	–	1



7.1. Подпишите на политической карте мира название страны с самой большой численностью населения.



7.2. Определите, религиозный состав населения какой страны отражает каждая диаграмма. Запишите в ответе порядковые номера стран под соответствующими буквами.




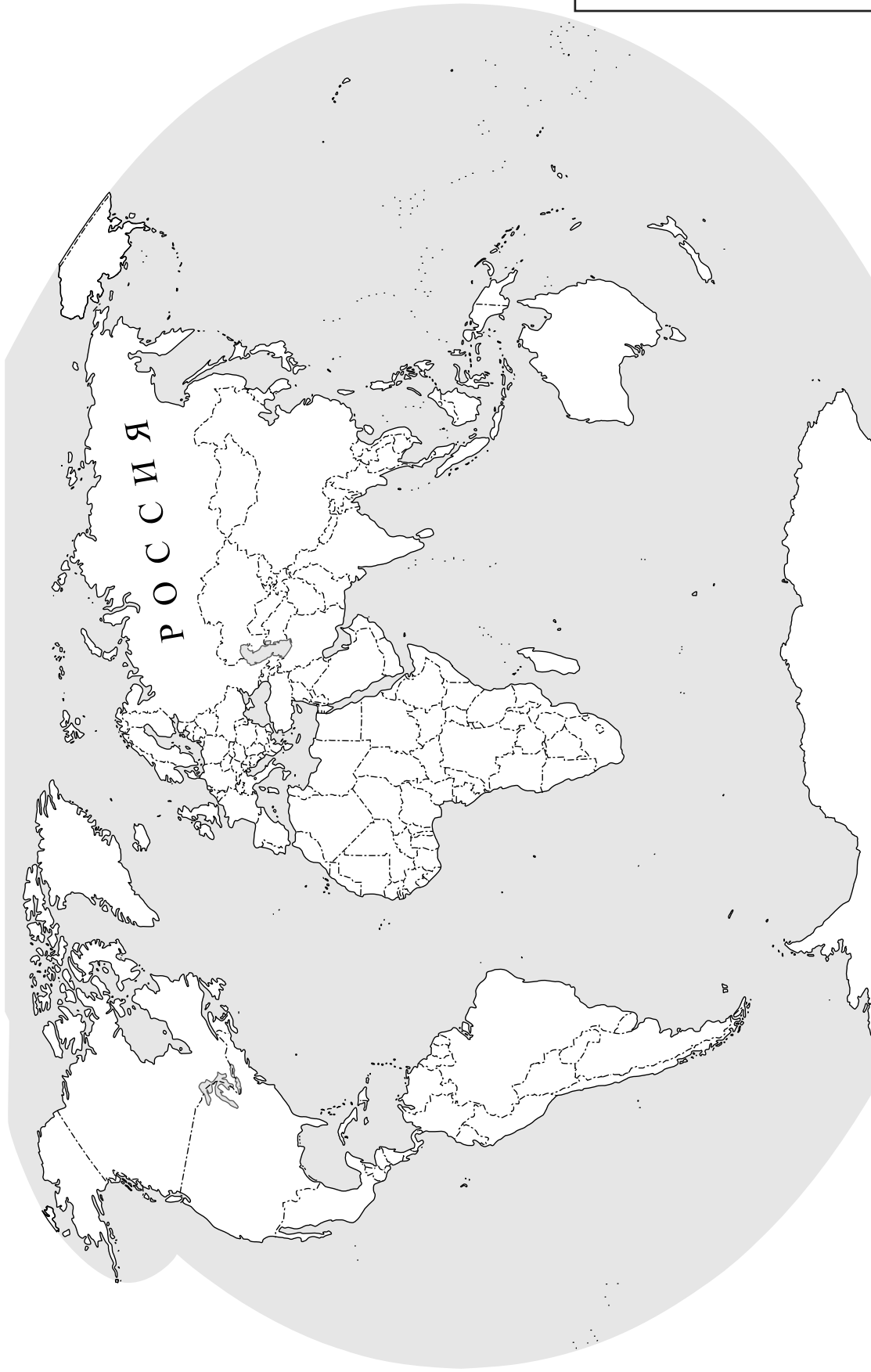
Ответ.

А	Б	В	Г



КОД

 Карта для выполнения заданий 6.1, 7.1



8

Представьте, что Вам было поручено взять интервью у зарубежного сверстника, чтобы он познакомил Вас со своей страной. Для иллюстрации этого интервью Вы попросили его прислать несколько фотографий, сделанных в стране, в которой он живёт.

8.1. Рассмотрите фотографии и ответьте на вопросы.



В какой стране живёт Ваш сверстник?

Ответ. _____

8.2. Рассмотрите представленные ниже рисунки. Выберите рисунок с контуром страны, в которой живёт Ваш сверстник. Запишите в ответе букву, которой обозначен этот рисунок.



А



Б



В

Ответ.

8.3. Предположите, какие ответы на вопросы о своей стране даст Ваш сверстник в ходе интервью. Запишите их в таблицу.

Вопрос	Ответ
1. На каком материке находится твоя страна?	
2. К побережью какого моря выходит твоя страна?	
3. Какие горы есть в твоей стране?	
4. Какие крупные морские порты расположены в твоей стране?	
5. Какую религию исповедует большинство жителей твоей страны?	
6. Какие сельскохозяйственные культуры выращивают в твоей стране?	
7. Какие природные и культурно-исторические достопримечательности привлекают туристов в твою страну?	

