

**Проверочная работа
по МАТЕМАТИКЕ**

7 класс

Вариант 1

Инструкция по выполнению работы

На выполнение работы по математике даётся 90 минут. Работа содержит 16 заданий.

В заданиях, после которых есть поле со словом «Ответ», запишите ответ в указанном месте.

В задании 12 нужно отметить и обозначить точки на числовой прямой. В задании 15 нужно построить схематично график.

В заданиях, после которых есть поле со словами «Решение» и «Ответ», запишите решение и ответ в указанном месте.

Если Вы хотите изменить ответ, зачеркните его и запишите рядом другой.

При выполнении работы нельзя пользоваться учебниками, рабочими тетрадями, справочниками, калькулятором.

При необходимости можно пользоваться черновиком. Записи в черновике проверяться и оцениваться не будут.

Советуем выполнять задания в том порядке, в котором они даны. Для экономии времени пропускайте задание, которое не удаётся выполнить сразу, и переходите к следующему. Постарайтесь выполнить как можно больше заданий.

Желаем успеха!

Таблица для внесения баллов участника

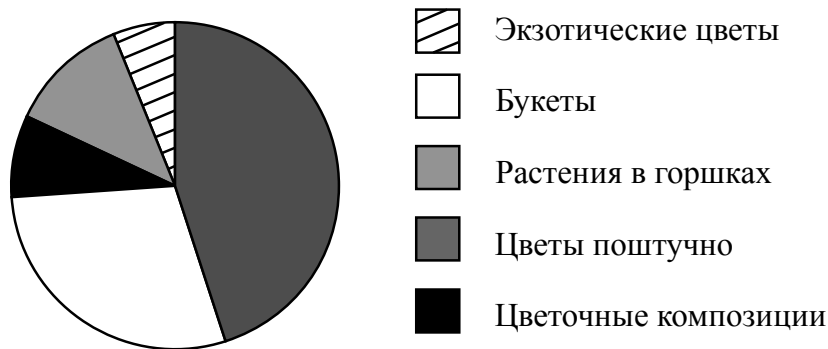
Номер задания	1	2	3	4	5	6	7	8	9	10	11	12	13	14	15	16	Сумма баллов	Отметка за работу
Баллы																		

6 При взвешивании животных на ферме выяснилось, что корова тяжелее лошади, свинья легче коровы, а осёл легче лошади.
Выберите верные утверждения и запишите в ответе их номера.

- 1) Осёл тяжелее коровы.
- 2) Корова самая тяжёлая из всех этих животных.
- 3) Свинья тяжелее коровы.
- 4) Осёл легче коровы.

□	Ответ:	

7 На диаграмме представлена информация о товарах, проданных за месяц в цветочном магазине. Всего за месяц в магазине было продано 3000 единиц товара.



Определите по диаграмме, сколько примерно было продано букетов.

□	Ответ:	

8 Дана функция $y = \frac{5}{3}x - 6$. Найдите значение x , при котором значение функции равно -21 .

□	Ответ:	

9 Решите уравнение $11 - 5(4x - 3) = 4$.

□	Ответ:	

- 10 Павел работает в службе доставки интернет-магазина. Для упаковки коробок используется скотч. Он упаковал 250 больших коробок и израсходовал два рулона скотча полностью, а от третьего осталась ровно треть, при этом на каждую коробку расходовалось по 80 см скотча. Ему нужно заклеить скотчем 280 одинаковых коробок, на каждую нужно по 50 см скотча. Хватит ли двух целых таких рулонов скотча?

Запишите решение и ответ.

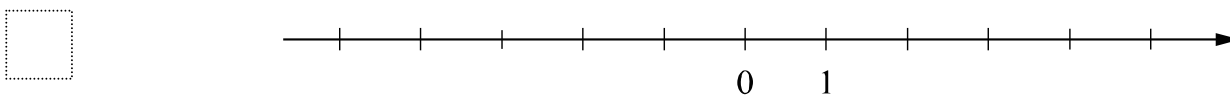
Решение.	
<input style="width: 100%; height: 100%; border: none;" type="checkbox"/>	Ответ:

- 11 Найдите значение выражения $a^2 - 10a + 25 + (a + 5)(5 - a)$ при $a = 2,3$.

<input style="width: 100%; height: 100%; border: none;" type="checkbox"/>	Ответ:
---	--------

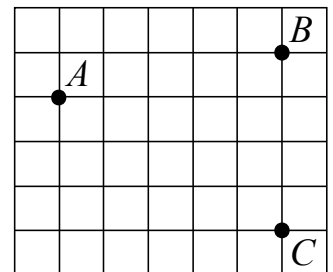
- 12 Отметьте и подпишите на координатной прямой точки $A\left(-3\frac{13}{18}\right)$, $B(0,81)$ и $C(-3,88)$.

Ответ:



- 13 На клетчатой бумаге с размером клетки 1×1 отмечены точки A , B и C . Найдите расстояние от точки A до прямой BC .

<input style="width: 100%; height: 100%; border: none;" type="checkbox"/>	Ответ:
---	--------



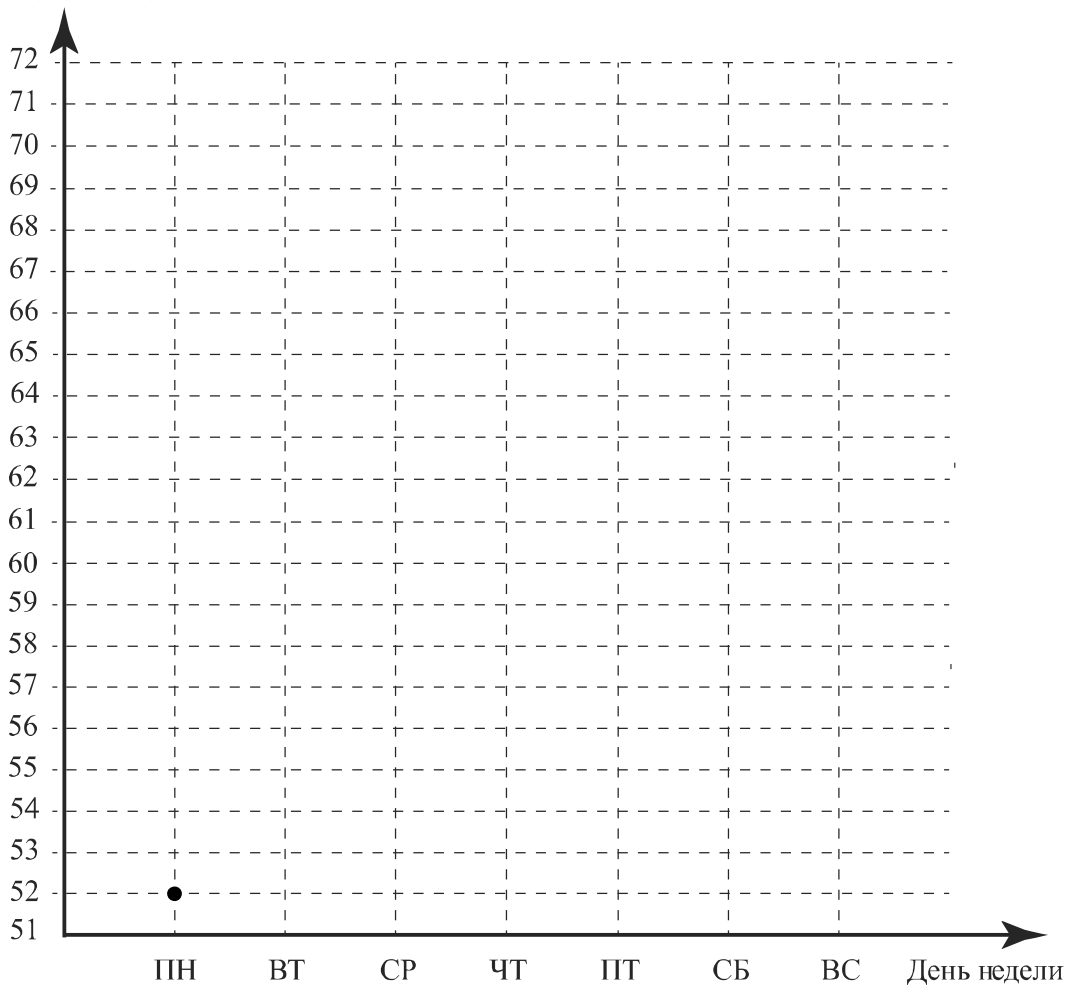
15

Прочитайте текст.

В понедельник музей посетило 52 человека, и это была самая низкая посещаемость за неделю. Во вторник в музее открылась новая выставка, и посетителей было на 8 больше, чем в понедельник. В среду посетителей было на 10% больше, чем во вторник. А в четверг музей посетило на 3 человека меньше, чем в среду. В пятницу в музее не проводят экскурсий, поэтому число посетителей было на 8 человек меньше, чем в четверг. В выходные количество посетителей всегда увеличивается. В субботу их было на 9 человек больше, чем в пятницу, а в воскресенье число посетителей достигло максимума за неделю — в музей пришло на 8 человек больше, чем в субботу.

По описанию постройте график зависимости числа посетителей музея от дня недели. Соседние точки соедините отрезками. Точка, показывающая число посетителей в понедельник, уже отмечена на рисунке.

Ответ: Число посетителей



16

Из пункта А в пункт Б вышел пешеход. Через полчаса из пункта А за ним вдогонку отправился велосипедист и прибыл в пункт Б одновременно с пешеходом. Сколько минут велосипедист находился в пути, если известно, что его скорость в четыре раза больше скорости пешехода?

Запишите решение и ответ.

Решение.

Ответ: