

**Проверочная работа  
по БИОЛОГИИ**

**8 КЛАСС**

**Вариант 1**

**Инструкция по выполнению работы**

На выполнение работы по биологии отводится 60 минут. Работа включает в себя 13 заданий.

Ответы на задания запишите в поля ответов в тексте работы. В случае записи неверного ответа зачеркните его и запишите рядом новый.

При выполнении работы не разрешается пользоваться учебником, рабочими тетрадями и другим справочным материалом.

При необходимости можно пользоваться черновиком. Записи в черновике проверяться и оцениваться не будут.

Советуем выполнять задания в том порядке, в котором они даны. В целях экономии времени пропускайте задание, которое не удаётся выполнить сразу, и переходите к следующему. Если после выполнения всей работы у Вас останется время, то Вы сможете вернуться к пропущенным заданиям.

***Желаем успеха!***

*Таблица для внесения баллов участника*

Номер задания	1 (1)	1 (2)	2.1	2.2	2.3	2.4	3	4.1	4.2	5.1	5.2	6.1	6.2	7	8.1	8.2	9	10.1	10.2
Баллы																			

Номер задания	11	12	13.1	13.2	Сумма баллов	Отметка за работу
Баллы						

1

Как называют специалиста-зоолога, объектом изучения которого является изображённое на фотографии животное?



- 1) энтомолог
- 2) териолог
- 3) герпетолог
- 4) орнитолог

Ответ.

Объясните свой ответ с использованием названия науки по изучению этих животных.

Ответ. \_\_\_\_\_  
 \_\_\_\_\_

2

Рассмотрите изображённое на фотографии животное и опишите его, выполнив задания.

2.1. Укажите тип симметрии животного.

Ответ. \_\_\_\_\_



2.2. Укажите среду обитания животного.

Ответ. \_\_\_\_\_

2.3. Установите последовательность расположения систематических групп изображённого животного, начиная с самой крупной. Используйте слова и словосочетания из предложенного перечня. Запишите в таблицу цифры, под которыми они указаны.

Список слов и словосочетаний:

- 1) Млекопитающие
- 2) Хищные
- 3) Хордовые
- 4) Волк обыкновенный
- 5) Животные

Ответ.
 

Царство	Тип	Класс	Отряд	Вид

2.4. Укажите одно из значений, которое имеет волк обыкновенный в природе.

Ответ. \_\_\_\_\_

3

Известно, что **археоптерикс** – вымершее позвоночное животное, в своём строении имело анатомические признаки, присущие современным пресмыкающимся. Используя эти сведения, выберите из приведённого ниже списка три утверждения, относящиеся к описанию **данных** признаков этого животного.

Запишите в ответе **цифры**, соответствующие выбранным ответам.

- 1) Челюстные и зубные кости археоптерикса несли зубы.
- 2) Передние конечности были снабжены сильными маховыми перьями.
- 3) Большой палец задней конечности археоптерикса был полностью противопоставлен другим пальцам.
- 4) Относительно размера, животное имело большой по объёму мозг.
- 5) Передние конечности содержали по три пальца с когтями.
- 6) Крестцовые позвонки археоптерикса не срастались друг с другом.

Ответ:

--	--	--

4

4.1. Определите тип питания организмов, приведённых в перечне. Запишите **цифры**, под которыми указаны организмы, в соответствующую ячейку таблицы.

Список организмов:

- 1) липа японская
- 2) горлица обыкновенная
- 3) медведь гималайский
- 4) красный плодовый клещик
- 5) колокольчик широколистный
- 6) плаун булавовидный

Ответ.

Автотрофный тип питания	Гетеротрофный тип питания

4.2. Какой тип питания характерен для грифа чёрного, изображённого на рисунке 1?

Ответ. \_\_\_\_\_

Обоснуйте свой ответ. \_\_\_\_\_

\_\_\_\_\_



Рисунок 1

5

Рассмотрите рисунок 2, на котором представлен цикл развития острицы, и ответьте на вопросы.

5.1. Какой цифрой обозначен на рисунке орган человека, в котором обитает острица?

Ответ.

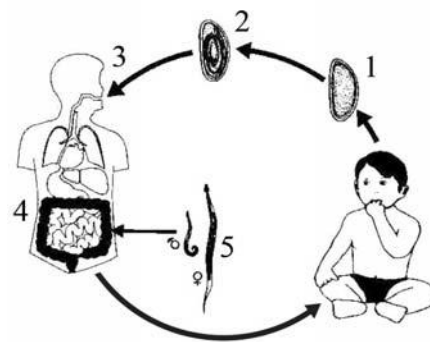


Рисунок 2

5.2. Можно ли заразиться острицами, если пить проточную воду из-под крана? Ответ обоснуйте.

Ответ. \_\_\_\_\_  
 \_\_\_\_\_  
 \_\_\_\_\_

6

В приведённой ниже таблице между позициями первого и второго столбцов имеется взаимосвязь.

Целое	Часть
скелет	цевка
пищеварительная система	...

6.1. Какое понятие следует вписать на место пропуска в этой таблице?

- 1) киль
- 2) трахея
- 3) почка
- 4) печень

Ответ.

6.2. Представители какого класса хордовых имеют в скелете цевку?

Ответ. \_\_\_\_\_

7

К какому типу относят животных, имеющих клетки, строение которых показано на рисунке 3?

- 1) Инфузории
- 2) Кишечнополостные
- 3) Плоские черви
- 4) Членистоногие

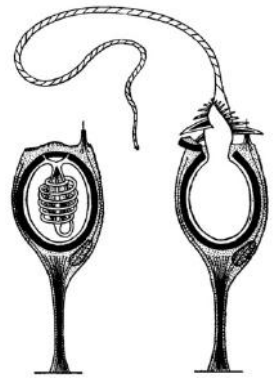


Рисунок 3

□

Ответ:

□

8

8.1. Установите соответствие между характеристиками и классами членистоногих: к каждой позиции, данной в первом столбце, подберите соответствующую позицию из второго столбца.

**ХАРАКТЕРИСТИКИ**

- А) развитие прямое
- Б) три пары ходильных ног
- В) у большинства имеются крылья
- Г) лёгочные мешки и трахеи
- Д) три отдела тела
- Е) простые и сложные глаза

**КЛАССЫ ЧЛЕНИСТОНОГИХ**

- 1) Паукообразные
- 2) Насекомые

Запишите в таблицу выбранные цифры под соответствующими буквами.

□

Ответ.

А	Б	В	Г	Д	Е

8.2. Приведите по три примера членистоногих, относящихся к указанным классам. Запишите их названия в таблицу.

□

Паукообразные	Насекомые

9

Вставьте в текст пропущенные термины из предложенного перечня, используя для этого их цифровые обозначения. Впишите номера выбранных терминов на места пропусков в тексте.

### Органы чувств рыб

Органы чувств рыб имеют особенности, связанные с водной средой обитания. Рыбы имеют плоскую роговицу и шаровидный хрусталик, благодаря чему хорошо видят \_\_\_\_\_(А) расположенные предметы. У рыб хорошо развито обоняние и вкус. Орган слуха и \_\_\_\_\_(Б) представлен парным \_\_\_\_\_(В) ухом. У рыб есть особый орган, позволяющий определять направление движения воды, – \_\_\_\_\_(Г).

СПИСОК ТЕРМИНОВ:

- 1) близко
- 2) наружное
- 3) внутреннее
- 4) далеко
- 5) боковая линия
- 6) плавательный пузырь
- 7) координация
- 8) равновесие

Запишите в таблицу выбранные цифры под соответствующими буквами.

Ответ:

А	Б	В	Г

10

10.1. Если у животного имелся скелет головы, изображённый на рисунке 4, то для этого животного, вероятнее всего, были характерны

- 1) зубы
- 2) смешанная кровь
- 3) трёхкамерное сердце
- 4) копчиковая железа
- 5) перьевой покров



Рисунок 4

Запишите в ответе **цифры**, под которыми указаны выбранные характеристики.

Ответ. \_\_\_\_\_

10.2. В описании животных зоологи часто употребляют термин «копчиковая железа». Какую функцию выполняет копчиковая железа? Укажите одну из функций.

Ответ. \_\_\_\_\_

- 11 Верны ли следующие суждения о моллюсках?  
 А. Тело моллюсков имеет мантию.  
 Б. Мантия моллюсков выделяет вещества, из которых образуется раковина.

- 1) верно только А
- 2) верно только Б
- 3) оба суждения верны
- 4) оба суждения неверны

Ответ:

- 12 Изучите данные приведённой ниже таблицы и ответьте на вопросы.

Таблица

Физиологические показатели животных

Животные	Температура тела, °С	Пульс, уд/мин	Частота дыхания в 1 мин
Кролик	38,5–39,5	120–200	50–60
Курица	40,5–42,0	120–150	12–32
Утка	41,0–43,0	140–250	16–30
Гусь	40,0–41,0	120–160	10–20
Голубь	41,0–43,0	140–200	16–40

Какой диапазон частоты дыхания в 1 минуту характерен для гусей?

Ответ. \_\_\_\_\_

Для какого животного, из перечисленных в таблице, характерен наиболее широкий диапазон пульса?

Ответ. \_\_\_\_\_


К какой экологической группе по составу пищевого рациона относят голубей?

Ответ. \_\_\_\_\_





13

Рассмотрите фотографию собаки породы **басенджи** и выполните задания.







13.1. Выберите характеристики, соответствующие внешнему строению собаки, по следующему плану: окрас шерсти, форма ушей, форма хвоста.










**А. Окрас**

1) однотонный 	2) пятнистый 	3) чепрачный 	4) подпалый 
--	---	--	--

**Б. Форма ушей**

1) стоячие 	2) полустоячие 	3) развешенные 	4) висящие 	5) сближенные 	6) сильно укороченные 
---	---	---	--	--	--

**В. Форма хвоста (может нестись высоко и низко)**

1) саблевидная 	2) кольцом 	3) поленом 	4) прутом 	5) крючком 	6) серпом 	7) купированный 
---	---	---	--	--	--	--

Запишите в таблицу выбранные цифры под соответствующими буквами.



Ответ.

А	Б	В



13.2. Пётр решил выяснить, соответствует ли изображённая на фотографии собака породы басенджи стандартам для использования её в целях чистопородного размножения в клубе собаководства. Помогите Петру решить эту задачу, воспользовавшись фрагментом описания стандарта данной породы.

**Стандарт породы басенджи (фрагмент)**

- 1. Окрас: подпалый, чепрачный или пятнистый.
- 2. Форма ушей: стоячие.
- 3. Форма хвоста: кольцом.

Сделайте заключение о соответствии изображённой на фотографии собаки указанным стандартам породы. Оцените возможность использования собаки этой породы для чистопородного размножения в клубе собаководства.



Ответ. \_\_\_\_\_  
\_\_\_\_\_  
\_\_\_\_\_  
\_\_\_\_\_