

**Проверочная работа
по ФИЗИКЕ**

8 класс

Вариант 1

Инструкция по выполнению работы

На выполнение работы по физике даётся 45 минут. Работа содержит 11 заданий.

Ответом на каждое из заданий 1, 3-7, 9 является число или несколько чисел. В заданиях 2 и 8 нужно написать текстовый ответ. В заданиях 10 и 11 нужно написать решение задач полностью. В случае записи неверного ответа зачеркните его и запишите рядом новый.

При выполнении работы можно пользоваться непрограммируемым калькулятором.

При необходимости можно пользоваться черновиком. Записи в черновике проверяться и оцениваться не будут.

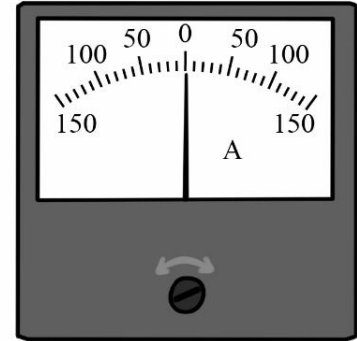
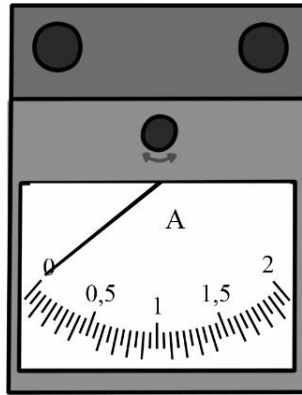
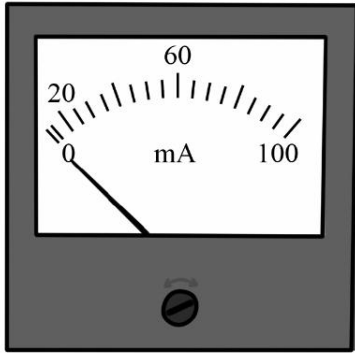
Советуем выполнять задания в том порядке, в котором они даны. Для экономии времени пропускайте задание, которое не удаётся выполнить сразу, и переходите к следующему. Постарайтесь выполнить как можно больше заданий.

Желаем успеха!

Таблица для внесения баллов участника

Номер задания	1	2	3	4	5	6	7	8	9	10	11	Сумма баллов	Отметка за работу
Баллы													

1 Новая батарейка при замыкании её клемм накоротко должна обеспечивать ток короткого замыкания не менее 1,15 А. Укажите цену деления прибора, которым надо воспользоваться для того, чтобы измерить ток короткого замыкания такой новой батарейки.



Ответ: _____ А.

2 Весной во время ледохода многие любят сходить на реку и посмотреть, как по ней плывут льдины. Где будет холоднее – на берегу реки или вдали от неё? Объясните, почему.

Ответ: _____

3

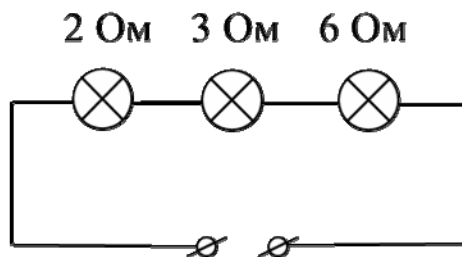
Вася посмотрел на упаковочную коробку электрочайника, и ему стало интересно выяснить, каково значение силы тока, текущего через чайник при его включении в розетку. Помогите Васе найти это значение силы тока, если напряжение в розетке составляет 220 В.



Ответ: _____ А.

4

На рисунке изображена схема участка цепи ёлочной гирлянды. Известно, что сила тока, текущего через этот участок, равна 0,5 А. Чему равно напряжение на лампе с наибольшим сопротивлением? Значения сопротивлений ламп указаны на схеме.



Ответ: _____ В.

5

В ящике для инструментов Денис нашёл гвоздь, и ему стало интересно, какая у него теплоёмкость. Оказалось, что для нагревания гвоздя на $25\text{ }^{\circ}\text{C}$ ему нужно передать количество теплоты, равное 1000 Дж. Зная, что масса гвоздя 0,1 кг, определите по этим данным удельную теплоёмкость металла, из которого он сделан.

Ответ: _____ Дж/(кг· $^{\circ}\text{C}$).

6

Паша не любит пить крепкий горячий кофе, поэтому он всегда разбавляет кофе очень холодной водой в отношении 3:1 (например, к 150 г кофе добавляет 50 г воды). Определите, какой станет температура напитка после установления теплового равновесия между кофе и долитой водой, если начальная температура воды $0\text{ }^{\circ}\text{C}$, а исходная температура горячего кофе $+80\text{ }^{\circ}\text{C}$. Удельные теплоёмкости воды и кофе одинаковые. Смешивание происходит быстро, поэтому потерями теплоты можно пренебречь.

Ответ: _____ $^{\circ}\text{C}$.

7

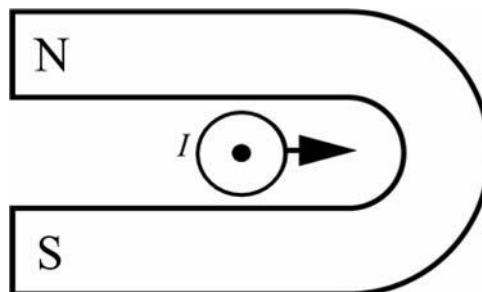
На заводе при обработке цветных металлов в двух тигельных печах плавилась одинаковые объёмы меди и золота. Используя таблицу, найдите отношение количества теплоты, затраченного на плавление меди к количеству теплоты, затраченному на плавление золота. Ответ округлите до десятых долей.

Металл	Удельная теплота плавления λ , кДж/кг	Плотность ρ , кг/м ³
Железо	270	7800
Золото	67	19300
Магний	370	1740
Медь	213	8900
Олово	59	7300
Свинец	24,3	11300
Серебро	87	10500
Сталь	84	7800
Цинк	112,2	7100

Ответ: _____.

8

Подковообразный магнит поднесли к длинному прямому медному проводу (провод расположен перпендикулярно плоскости рисунка). При пропускании по этому проводу электрического тока I в направлении «на нас» провод начинает смещаться вправо. В каком направлении будет смещаться провод, если поменять полюса магнита местами, оставив направление тока в проводе прежним? Ответ кратко обоснуйте.



Ответ и объяснение: _____

9

Фраза «Отдать швартовы!» ассоциируется с морем, кораблями и приключениями. Есть две версии происхождения слова «швартов»: голландские слова «zwaag touw» означают «тяжёлый канат», английские слова «shore» и «tow» – берег и буксир. Таким образом, швартовый канат – это приспособление для привязывания («швартования», как говорят моряки) судна к пристани или к другому кораблю во время стоянки.

Швартовый канат связали из двух разных канатов. Один, более толстый, имеет линейную плотность (т.е. массу единицы длины) 3 кг/м. Второй канат – потоньше – имеет линейную плотность 2 кг/м. Масса всего швартового каната оказалась равна 40 кг. При этом масса использованного куска толстого каната равна половине от массы всего швартова.

- 1) Какова длина использованного куска тонкого каната?
- 2) Найдите среднюю линейную плотность всего швартового каната. Ответ округлите до десятых.

Ответ: 1) _____ м;
 2) _____ кг/м.

10

Для того, чтобы остудить чай, температура которого была 100 °С, Катя добавила в него порцию холодной воды с температурой 25 °С. После установления теплового равновесия температура воды в чашке составила 75 °С. Удельные теплоёмкости чая и воды одинаковы и равны $c = 4200 \text{ Дж}/(\text{кг}\cdot^\circ\text{C})$. Потерями теплоты можно пренебречь.

- 1) Найдите отношение количества теплоты, отданного чаем, к количеству теплоты, полученному водой.
- 2) Найдите отношение массы чая к массе воды.
- 3) Так как чай всё ещё был слишком горячим, Катя добавила в него ещё одну точно такую же порцию холодной воды. Какой станет температура чая после установления нового теплового равновесия?

Напишите полное решение этой задачи.

Решение:	
Ответ:	

11

Андрей заинтересовался, как работает заряд для салюта. В научно-популярной статье в интернете было написано, что заряд взлетает вверх за счёт взрыва специального вещества в патроне. Также Андрей узнал, что стандартный заряд весит 0.8 кг и взлетает на высоту 150 м. В той же статье было написано, что энергию, выделяющуюся при взрыве, принято измерять в тротиловом эквиваленте. Если говорят, что энергия составляет 1 грамм в тротиловом эквиваленте, то это означает, что выделилась энергия 4184 Дж. Ускорение свободного падения 10 Н/кг. Сопротивлением воздуха при проведении расчётов можно пренебречь.

- 1) Рассчитайте энергию, которая выделяется при взрыве вещества в патроне, и выразите её в тротиловом эквиваленте. Считайте, что на подъём заряда расходуется вся выделившаяся при взрыве энергия.
- 2) Рассчитайте скорость заряда вблизи земли.
- 3) Так как количество взрывчатого вещества в разных патронах немного различается, то скорость вылета заряда может быть больше расчётной на 5 %. Чему при этом будет равна высота подъёма?

Решение:	
Ответ:	

