

**Проверочная работа
по МАТЕМАТИКЕ**

8 класс

Вариант 1

Инструкция по выполнению работы

На выполнение работы по математике даётся 90 минут. Работа содержит 19 заданий.

В заданиях, после которых есть поле со словом «Ответ», запишите ответ в указанном месте.

В заданиях, после которых есть поле со словами «Решение» и «Ответ», запишите решение и ответ в указанном месте.

В заданиях 4 и 8 нужно отметить точки на числовой прямой.

Если Вы хотите изменить ответ, зачеркните его и запишите рядом другой.

При выполнении работы можно пользоваться таблицей умножения и таблицей квадратов двузначных чисел. Запрещено пользоваться учебниками, рабочими тетрадями, справочниками, калькулятором.

При необходимости можно пользоваться черновиком. Записи в черновике проверяться и оцениваться не будут.

Советуем выполнять задания в том порядке, в котором они даны. Для экономии времени пропускайте задание, которое не удаётся выполнить сразу, и переходите к следующему. Постарайтесь выполнить как можно больше заданий.

Желаем успеха!

Таблица для внесения баллов участника

Номер задания	1	2	3	4	5	6	7	8	9	10	11	12	13	14	15
Баллы															
			16(1)	16(2)	17	18	19	Сумма баллов	Отметка за работу						

1 Найдите значение выражения $\frac{5}{6} : \left(\frac{2}{3} - \frac{5}{8}\right)$.

□	Ответ:	
---	--------	--

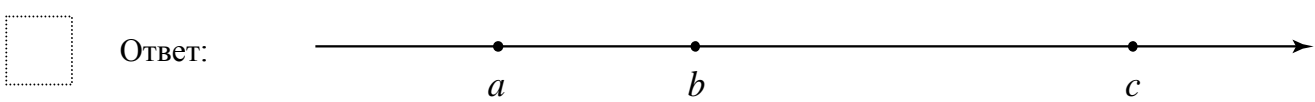
2 Решите уравнение $(2x - 4)(x + 7) + 40 = 0$.

□	Ответ:	
---	--------	--

3 В школе открыты две спортивные секции: по волейболу и по баскетболу. Заниматься можно только в одной из них. Число школьников, занимающихся в секции по волейболу, относится к числу школьников, занимающихся в секции по баскетболу, как 6 : 7. Сколько школьников занимаются в секции по волейболу, если всего в двух секциях занимаются 39 школьников?

□	Ответ:	
---	--------	--

4 На координатной прямой отмечены числа a , b и c . Отметьте на этой прямой какое-нибудь число x так, чтобы при этом выполнялись три условия: $a - x < 0$, $b - x > 0$, $-x + c > 0$.

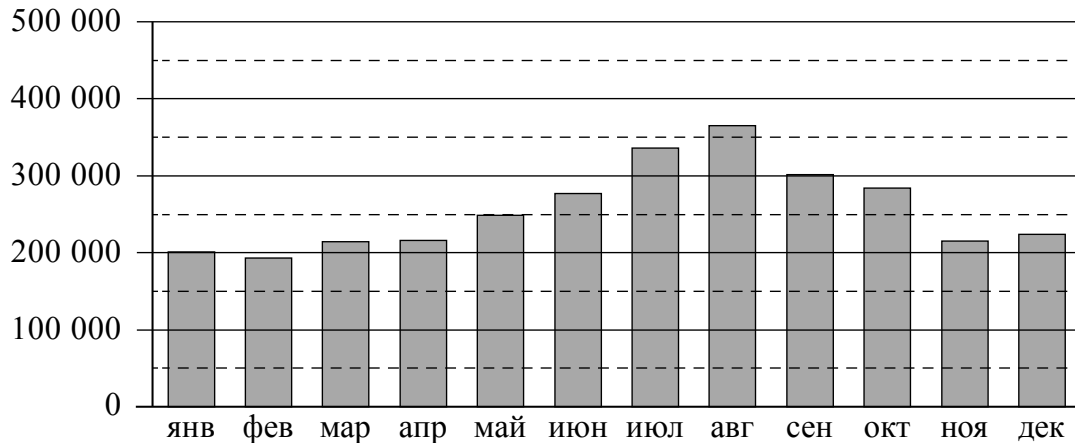


5 Дана функция $y(x) = 7x + 4$. Найдите $y(a+1) - y(a)$.

□	Ответ:	
---	--------	--

6

Пассажиропоток — это количество пассажиров, которых перевозит определённый вид транспорта за определённый промежуток времени (час, сутки, месяц, год). Пассажиропотоком называют также количество пассажиров, проходящих за определённый промежуток времени через транспортный узел (вокзал, аэропорт, автостанцию). Особенностью пассажиропотоков является их неравномерность и изменчивость: они зависят от времени, от направления и от других факторов. Изменение пассажиропотока в зависимости от месяца или времени года называется сезонностью пассажиропотока. На диаграмме показан пассажиропоток аэропорта им. В.К. Арсеньева (Владивосток) в 2019 году.



На сколько примерно человек снизился пассажиропоток в сентябре по сравнению с августом?
 Чем можно объяснить рост пассажиропотока во второй половине лета? Напишите несколько предложений, в которых обоснуйте своё мнение по этому вопросу.

Ответ:																						

7

На соревнованиях по синхронным прыжкам в воду в жюри входит девять судей. Пятеро оценивают синхронность выполнения прыжка. Двое судей оценивают исполнение прыжка первой спортсменкой, ещё двое — исполнение прыжка второй спортсменкой. Итоговая оценка за прыжок выставляется с помощью следующего алгоритма.

1. Из четырёх оценок за исполнение отбрасываются две — наибольшая и наименьшая.
2. Из пяти оценок за синхронность отбрасываются две — наибольшая и наименьшая.
3. Сумму оставшихся пяти оценок умножают на 0,6 и на коэффициент сложности прыжка.

В таблице указаны оценки за выступление пары спортсменов. Определите итоговую оценку, которую они получили за второй прыжок.

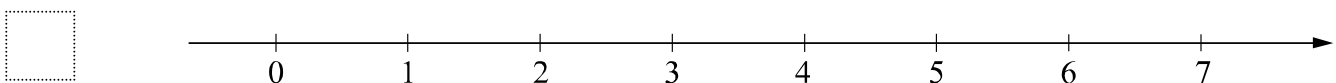
Прыжок	Коэффициент сложности	Оценки судей								
		синхронность выполнения прыжка					исполнение первой спортсменкой		исполнение второй спортсменкой	
1	2,8	8,5	7	6,5	6,5	5,5	8	7,5	7,5	7
2	1,6	8	7,5	7	6	6,5	7,5	7	6,5	7
3	3	7	8	7,5	7,5	6	7	8	6,5	6,5
4	2,4	7	8	8	8,5	7,5	6,5	6	7	7,5
5	1,8	7,5	8,5	8	8	7	7	7	7,5	6,5

□	Ответ:	
---	--------	--

8

Отметьте на координатной прямой число $\sqrt{33}$.

Ответ:



9

Найдите значение выражения $\left(\frac{3x^3}{a^4}\right)^4 \cdot \left(\frac{a^5}{3x^4}\right)^3$ при $a = -\frac{1}{4}$ и $x = -1,25$.

□	Ответ:	
---	--------	--

10

11 апреля на запись в первый класс независимо друг от друга пришли два будущих первоклассника. Считая, что приходы мальчика или девочки равновероятны, найдите вероятность того, что оба пришедших будущих первоклассника оказались девочками.

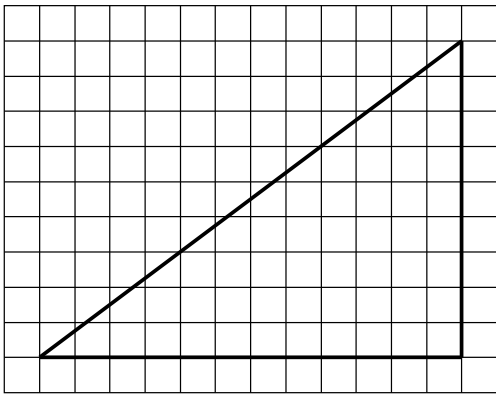
□	Ответ:	
---	--------	--

11 Стоимость проезда в электричке составляет 120 рублей. Школьникам предоставляется скидка 50%. Сколько рублей будет стоить билет на электричку для школьника после подорожания проезда на 15%?

□	Ответ:	

12 На клетчатой бумаге с размером клетки 1×1 изображён прямоугольный треугольник. Найдите длину его гипотенузы.

□	Ответ:	



13 В треугольнике ABC угол C равен 90° , $AC = 9$, $BC = \sqrt{19}$. Найдите $\cos A$.

□	Ответ:	

14 Выберите **неверное** утверждение и запишите в ответе его номер.

- 1) Длина каждой стороны треугольника меньше разности длин двух других его сторон.
- 2) Центром окружности, вписанной в правильный треугольник, является точка пересечения его высот.
- 3) Если при пересечении двух данных прямых третьей соответственные углы равны, то данные две прямые параллельны.

□	Ответ:	

16

Самым известным и престижным турниром по автомобильным гонкам считается чемпионат мира «Формула-1». В этих соревнованиях ежегодно принимают участие 10 команд, за каждую из которых выступают два пилота (гонщика). В течение спортивного сезона проводится несколько этапов (соревнований) «Формулы-1». Эти этапы проводятся в разных странах и называются Гран-при (франц. Grand Prix — большая, главная премия), например, Гран-при Австрии, Гран-при Бельгии.

В зависимости от места, которое занял пилот на очередном этапе, он получает некоторое количество очков. Чем выше место, тем больше очков. В течение сезона ведётся подсчёт суммы очков каждого спортсмена. Чемпионом мира становится спортсмен, набравший наибольшую сумму очков за все гонки сезона.

С 20 сентября по 2 декабря состоялось семь этапов «Формулы-1» сезона 2019 года. Во всех этих гонках принимали участие Пьер Гасли, Себастьян Феттель и Шарль Леклер. В таблице показано, какое место занял каждый из этих трёх спортсменов на каждом этапе. Прочтите фрагмент сопровождающей статьи.

Этап	Спортсмен		
	А	Б	В
Гран-при Сингапура	2	1	8
Гран-при России	3	18	14
Гран-при Японии	6	2	7
Гран-при Мексики	4	2	9
Гран-при США	4	20	16
Гран-при Бразилии	18	17	2
Гран-при Абу-Даби	3	5	18

На последних семи этапах «Формулы-1» 2019 года Гасли и Феттель по четыре раза попали в десятку лучших. Лучший результат, который смог показать Гасли на этих этапах, — призовое 2-е место. Леклер также выше 2-го места на этих этапах не поднимался.

Льюис Хэмилтон тоже принимал участие во всех этих семи гонках. На Гран-при Сингапура он отстал от Леклера на два места. А на Гран-при США Хэмилтон опередил Леклера на два места. На Гран-при Японии Хэмилтон финишировал сразу следом за Себастьяном Феттелем. На этапах турнира в России, в Мексике и в Абу-Даби Хэмилтону удалось завоевать первые места. Но на Гран-при Бразилии Льюис Хэмилтон занял только седьмое место.

1) На основании прочитанного определите, какому спортсмену соответствует столбец А.



Ответ: _____

2) По имеющемуся описанию заполните таблицу, показывающую места, занятые Льюисом Хэмилтоном на последних семи этапах «Формулы-1» в 2019 году.

Ответ:

Этап	Место, занятое Льюисом Хэмилтоном
Гран-при Сингапура	
Гран-при России	
Гран-при Японии	
Гран-при Мексики	
Гран-при США	
Гран-при Бразилии	
Гран-при Абу-Даби	



17

В параллелограмме $ABCD$ биссектриса угла A , равного 60° , пересекает сторону BC в точке M . Отрезки AM и DM перпендикулярны. Найдите периметр параллелограмма, если $AB = 5$.

Запишите решение и ответ.

Решение.

Ответ:

18

Двое рабочих одновременно начали выполнять два одинаковых заказа, состоящих из одинакового количества деталей. Первый рабочий выполнял весь заказ равномерно, изготавливая определённое число деталей в день. Второй сначала изготавливал на 6 деталей в день меньше, чем делал первый рабочий, а когда выполнил половину заказа, то стал делать по 56 деталей в день, в результате чего закончил работу одновременно с первым. Какое количество деталей в день делал первый рабочий, если известно, что оно больше 40?

Запишите решение и ответ.

Решение.

Ответ:

19

Дима написал пять натуральных (необязательно различных) чисел, а потом Лиза вычислила все возможные попарные суммы этих чисел. Получилось всего три различных значения: 43, 64 и 85. Посмотрев на полученные Лизой значения, Андрей смог точно назвать наибольшее из написанных Димой чисел. Какое это число?

Запишите решение и ответ.

Решение.

 Ответ: