

ВПР по математике за 4 класс, комплект 2, вариант 2

Инструкция по выполнению всероссийской проверочной работы

- На выполнение работы по математике даётся 45 минут. Работа содержит 12 заданий.
- В заданиях, после которых есть поле со словом «Ответ», запиши ответ в указанном месте.
- В заданиях 5 (пункт 2) и 11 нужно сделать чертёж или рисунок. В задании 10 — записать ответ, заполнив приведенную форму.
- В заданиях, после которых есть поле со словами «Решение» и «Ответ», запиши решение и ответ в указанном месте.
- Если ты хочешь изменить ответ — зачеркни его и запиши рядом новый.
- Пользоваться учебниками, рабочими тетрадями, справочниками и калькулятором нельзя.
- При необходимости можно пользоваться черновиком. Записи в черновике не проверяют и не оценивают.
- Рекомендуем выполнять задания по порядку. Чтобы сэкономить время, пропускай задание, которое не удаётся выполнить сразу, и переходи к следующему. Не забудь вернуться позже.
- Постарайся выполнить как можно больше заданий.

Задания

1. Вычисли: $47 + 261$.

Ответ:

2. Вычисли: $2 \cdot 18 + 36 : 3$.

Ответ:

3. Рассмотрй рисунок и ответь на вопрос: сколько рублей нужно будет заплатить, если купить одну пачку овсяных хлопьев и четыре пачки манки?



Запиши решение и ответ.

Решение.

Ответ:

4. Праздничный салют начался в 20:55 и продолжался 28 минут. Сколько было времени, когда закончился салют?

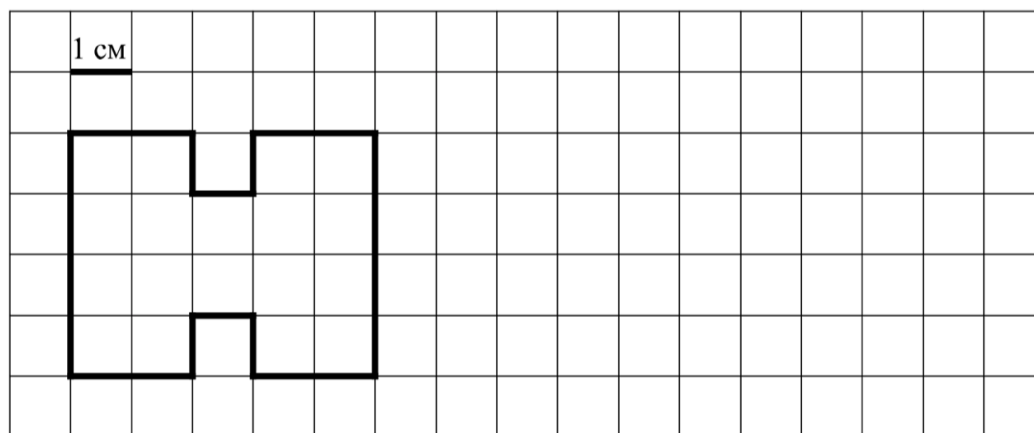
Ответ:

5. Ниже на клетчатом поле со стороной клетки 1 см изображена фигура.

1) Найди площадь этой фигуры.

Ответ:

2) На клетчатом поле рядом с фигурой нарисуй прямоугольник, площадь которого равна площади данной фигуры.



6. Четыре подружки занимаются в кружке рукоделия. Из бумаги и лоскутов ткани они делают цветы. В таблице показано, сколько и каких цветов сделала каждая девочка. Используя эти данные, ответь на вопросы.

Девочка	Незабудка	Роза	Хризантема
Алина	7	5	9
Инна	12	5	1
Света	5	7	1
Юля	7	3	7

1) Сколько роз сделала Инна?

Ответ:

2) Кто из них сделал больше всех цветов?

Ответ:

7. Найди значение выражения $(2089 - 1903) : 3 + 236$.

Ответ:

8. Большая упаковка пастилы стоит 210 рублей. Маленькая — 120 рублей. У Марины была одна купюра в 1000 рублей. Она купила две большие упаковки и столько маленьких, на сколько хватило денег. Сколько маленьких упаковок пастилы купила Марина? Запиши решение и ответ.

Решение.

Ответ:

9. После ужина Слава поиграл на гитаре, почитал книжку и погулял с собакой. На каждое из этих занятий он потратил по полчаса, а затем быстро умылся и лёг спать. Родители попросили не шуметь за час до сна. Гулял с собакой Слава раньше, чем начал читать книжку.

1) Чем Слава занимался сразу после ужина?

Ответ:

2) Чем Слава занимался перед самым сном — играл на гитаре, читал книжку или гулял с собакой?

Ответ:


10. Алёша написал сочинение «Стеллаж» и сделал рисунок стеллажа.

Меня зовут Алёша. Недавно мы купили новый стеллаж. Он большой, у него много полок и отделов. На одной из полок стоят красивые часы, которые папе подарили сотрудники ко дню рождения, и картина. Справа от полки с часами стоят мои школьные учебники. Учебники поставили на открытую полку, потому что это удобно, я ими ежедневно пользуюсь. Все остальные отделы стеллажа имеют дверки. Под полкой со школьными учебниками моя младшая сестрёнка Таня хранит свои игрушки. Она хоть и маленькая, но умеет аккуратно складывать на место вещи после игры и обязательно закрывает дверку. Слева от отдела с игрушками, под часами, хранятся старые семейные фотоальбомы.

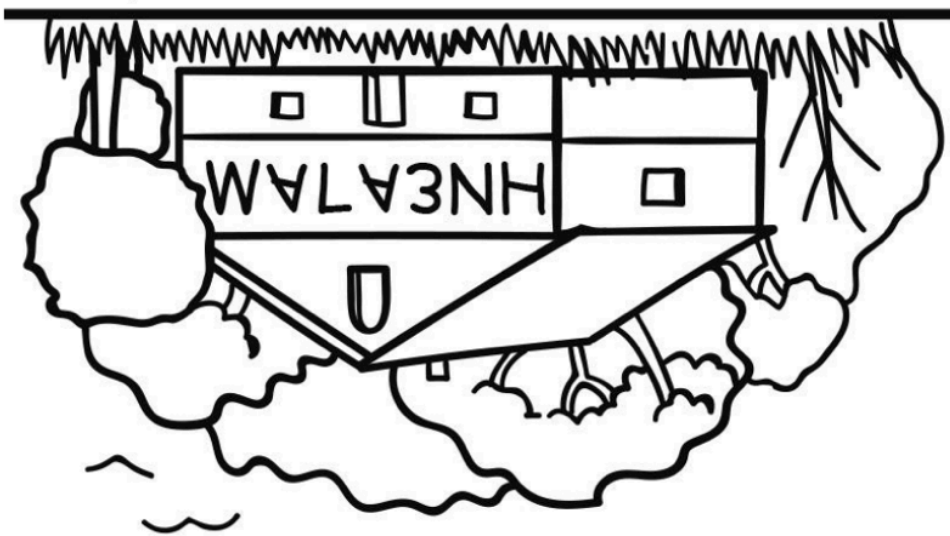
Три верхние отдела стеллажа тоже с дверками. В самый правый мама поставила свои книги, которые ей нужны по работе. Она работает врачом. В среднем верхнем отделе лежат различные документы. Родители нам запрещают его открывать. А слева от документов — книги с приключениями и фантастикой. Их любит читать мой старший брат Никита.

Прочти сочинение и рассмотри рисунок. Пользуясь описанием, которое дал Алёша, обозначь цифрами на рисунке шесть отделов стеллажа.

1. Отдел, где хранятся старые фотоальбомы.
2. Полка с Алёшиными школьными учебниками.
3. Отдел, где хранятся мамины книги.
4. Отдел с приключениями и фантастикой.
5. Отдел с Таниными игрушками.
6. Отдел с документами, который детям открывать запрещено.



11. Вова смотрит в реку и видит там отражение вывески на здании.



Что написано на вывеске?

Ответ:

12. Света, Таня и Катя собирали грибы. Таня собрала больше всех — 39 грибов, а Катя меньше всех — 35 грибов. Они решили разделить все грибы между собой поровну, и у них это получилось. Сколько грибов нашла Света?

Запиши решение и ответ.

Решение.

Ответ: