

ВПР по математике за 4 класс, комплект 3, вариант 2

Инструкция по выполнению всероссийской проверочной работы

- На выполнение работы по математике даётся 45 минут. Работа содержит 12 заданий.
- В заданиях, после которых есть поле со словом «Ответ», запиши ответ в указанном месте.
- В заданиях 5 (пункт 2) и 11 нужно сделать чертёж или рисунок. В задании 10 — записать ответ, заполнив приведенную форму.
- В заданиях, после которых есть поле со словами «Решение» и «Ответ», запиши решение и ответ в указанном месте.
- Если ты хочешь изменить ответ — зачеркни его и запиши рядом новый.
- Пользоваться учебниками, рабочими тетрадями, справочниками и калькулятором нельзя.
- При необходимости можно пользоваться черновиком. Записи в черновике не проверяют и не оценивают.
- Рекомендуем выполнять задания по порядку. Чтобы сэкономить время, пропускай задание, которое не удаётся выполнить сразу, и переходи к следующему. Не забудь вернуться позже.
- Постарайся выполнить как можно больше заданий.

Задания










1. Вычисли: $61 - 19$.

Ответ:

2. Вычисли: $(38 + 18) : 2 - 9$.

Ответ:

3. В магазине продаются овощи. На рисунке указана цена 1 кг.

 <p>Морковь 9 руб.</p>	 <p>Картофель 22 руб.</p>	 <p>Капуста 26 руб.</p>
 <p>Репчатый лук 32 руб.</p>	 <p>Кабачки 97 руб.</p>	 <p>Свёкла 14 руб.</p>
 <p>Редис 58 руб.</p>	 <p>Перец 73 руб.</p>	 <p>Чеснок 180 руб.</p>

Покупатель взял пять килограммов картофеля. Сколько рублей сдачи получит покупатель с 500 рублей?

Запиши решение и ответ.

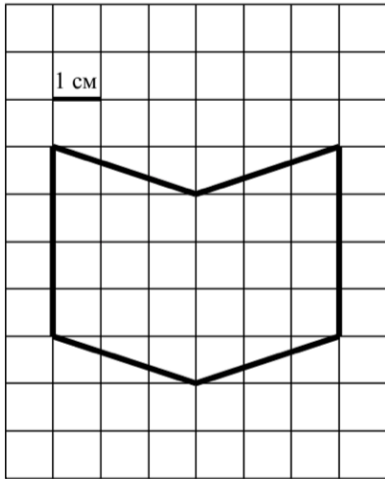
Решение.

Ответ:

4. Репетиция оркестра началась в 10:50 и продолжалась 2 часа 20 минут. Сколько было времени, когда закончилась репетиция?

Ответ:

5. П




а фигура. Сторона клетки равна 1

см.

1) Найди площадь этой фигуры. Ответ дай в кв. см.

Ответ:

2) Нарисуй по клеточкам прямоугольник, площадь которого равна площади изображённой фигуры.



6. В хозяйстве тёти Ани куры, гусыни и утки несли яйца, а тётя Аня вела учёт количества снесённых яиц. Используя таблицу, ответь на вопросы.

Дни по порядку	Куры	Гусыни	Утки
Первый день	10	4	6
Второй день	4	1	4
Третий день	9	7	7
Четвёртый день	7	4	5

1) Сколько яиц снесли куры в третий день?

Ответ:

2) Какие из птиц (куры, гусыни или утки) за все четыре дня снесли меньше всего яиц?

Ответ:

7. Найди значение выражения $(3200 - 2461) \cdot 12 - 43$.

Ответ:

8. Объём бочки 250 л. В пустую бочку вылили 13 двенадцатилитровых и 5 десятилитровых вёдер воды. Сколько ещё литров воды может поместиться в бочке?

Запиши решение и ответ.

Решение.

Ответ:

9. У Саши есть конфеты: 6 мятных, 8 лимонных и 4 вишнёвых. Саша хочет разложить все конфеты в несколько пакетиков так, чтобы в каждом пакетике встречались конфеты всех трёх видов и чтобы во всех пакетиках конфет было одинаковое количество.

1) Какое самое большое количество пакетиков с конфетами сможет собрать Саша?

Ответ:

2) Саша разложил все конфеты в три пакетика, причём в каждом пакетике есть конфеты всех трёх видов и количество конфет в пакетиках одинаковое. Оказалось, что в одном из пакетиков четыре лимонные конфеты. Сколько вишнёвых конфет в этом пакетике?

Ответ:

10. Люба написала сочинение «Наша дача».

Наш дачный посёлок правильно называется «кооператив». У нас есть водонапорная башня, которая на плане обозначена шестиугольником. Башня хоть и ржавая, но работает, и поэтому у нас есть водопровод. Водопровод нам очень нужен, потому что на нашем участке папа сделал бассейн.

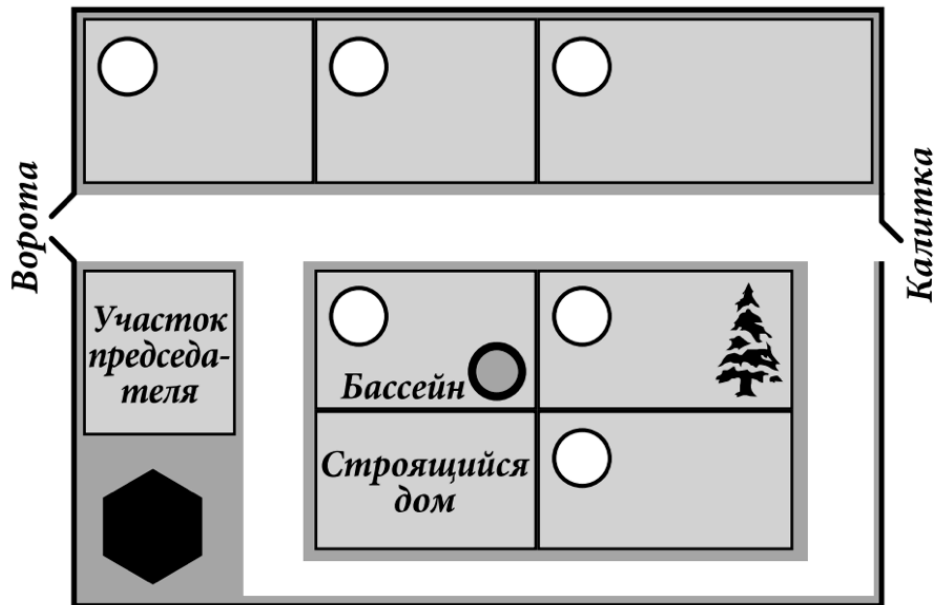
Если выйти с нашего участка и повернуть налево, то придёшь к воротам, а если направо, то будет калитка, через которую мы ходим в лес.

Между нашим участком и калиткой есть ещё один участок, там растёт большая ель, а живёт Алексей Петрович. За его участком дача Степана Ивановича. Степан Иванович врач, и в прошлом году он вылечил больную спину Марии Петровны. Мария Петровна тоже наша соседка, только она живёт с другой стороны посёлка у самых ворот. Если въехать в ворота, то справа дача председателя нашего кооператива, а слева как раз дача Марии Петровны, а за ней ещё две: сначала участок Ильи Михайловича, а ближе к калитке — дача Ивана Павловича. Иван Павлович знает все грибы в лесу — какие хорошие, а какие ядовитые. Поэтому, когда мы идём за грибами, всегда зовём его с собой. Он никогда не отказывается, только ворчит, что мы грибы собирать не умеем и наберём поганок.

Рассмотри план дачного кооператива и, пользуясь описанием, которое дала Люба, обозначь цифрами на плане шесть участков.

1. Участок, где живёт автор сочинения Люба.

2. Участок Алексея Петровича.
3. Участок Степана Ивановича.
4. Участок Марии Петровны.
5. Участок Ильи Михайловича.
6. Участок Ивана Павловича.



11. На столбе висела табличка (рис. 1). Верхний винт, державший табличку, выпал, и табличка перевернулась. Нарисуй, как будет выглядеть перевернутая табличка с надписью (рис. 2).

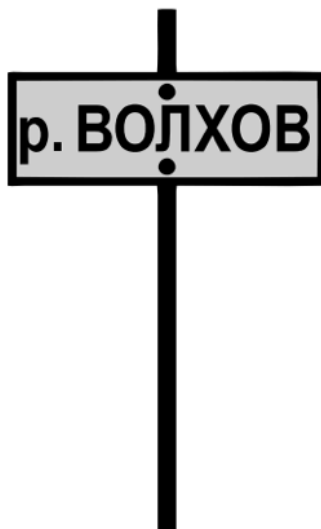


Рис. 1

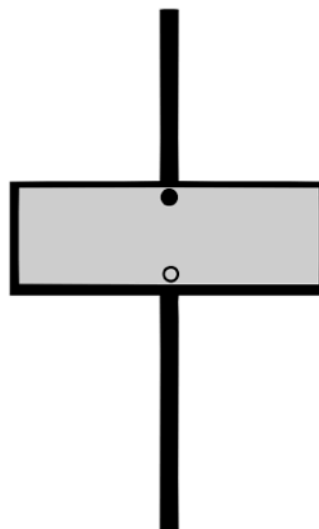


Рис. 2

12. Журавль стоит на двух ногах. А цапля — на одной ноге. Лягушка, сидя в болоте, насчитала 11 ног. Известно, что на болоте журавлей и цапель всего 8. Сколько на болоте цапель?

Запиши решение и ответ.

Решение.

Ответ: