

ВПР по математике за 4 класс, комплект 4, вариант 2

Инструкция по выполнению всероссийской проверочной работы

- На выполнение работы по математике даётся 45 минут. Работа содержит 12 заданий.
- В заданиях, после которых есть поле со словом «Ответ», запиши ответ в указанном месте.
- В заданиях 5 (пункт 2) и 11 нужно сделать чертёж или рисунок. В задании 10 — записать ответ, заполнив приведенную форму.
- В заданиях, после которых есть поле со словами «Решение» и «Ответ», запиши решение и ответ в указанном месте.
- Если ты хочешь изменить ответ — зачеркни его и запиши рядом новый.
- Пользоваться учебниками, рабочими тетрадями, справочниками и калькулятором нельзя.
- При необходимости можно пользоваться черновиком. Записи в черновике не проверяют и не оценивают.
- Рекомендуем выполнять задания по порядку. Чтобы сэкономить время, пропускай задание, которое не удаётся выполнить сразу, и переходи к следующему. Не забудь вернуться позже.
- Постарайся выполнить как можно больше заданий.

Задания







1. Вычисли: $91 : 7$.

Ответ:

2. Вычисли: $15 + 5 \cdot 3 - 16$.

Ответ:

3. На рисунке показаны цены на хлебобулочные изделия в магазине.

Хлеб «Дарницкий».....26 руб. 	Хлеб «Столичный».....25 руб. 	Хлеб «Бородинский»...47 руб. 
Хлеб заварной.....45 руб. 	Хлеб с отрубями.....27 руб. 	Батон нарезной.....18 руб. 
Багет.....67 руб. 	Лепёшка арабская.....31 руб. 	Лаваш армянский.....48 руб. 

Сколько всего рублей надо заплатить за три буханки «Дарницкого» и один лаваш?
Запиши решение и ответ.

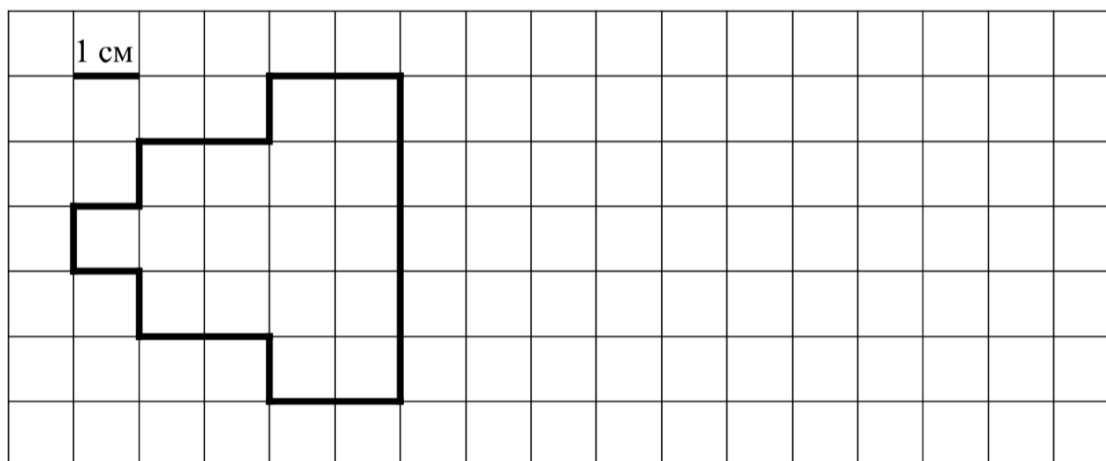
Решение.

Ответ:

4. В 2040 году 1 сентября — суббота. Какой день недели 30 сентября?

Ответ:

5. Ниже на клетчатом поле со стороной клетки 1 см изображена фигура.



1) Найди периметр этой фигуры.

Ответ:

2) На клетчатом поле рядом с фигурой нарисуй квадрат, периметр которого равен периметру данной фигуры.

6. Ирина вела дневник наблюдений за погодой, а в таблице отмечала количество дождливых, пасмурных и солнечных дней в течение каждого месяца. Используя таблицу, ответь на вопросы.

Месяцы	Дождь	Пасмурно	Солнечно
Июнь	7	5	18
Июль	5	4	22
Август	9	11	11
Сентябрь	14	10	6

1) Сколько дождливых дней было в августе?

Ответ:

2) Каких дней (дождливых, пасмурных или солнечных) было в течение четырёх месяцев больше?

Ответ:

7. Найди значение выражения $(1463 - 1307) : 2 + 316$.

Ответ:

8. Две бригады рабочих выкладывают с двух сторон асфальтовую дорогу длиной в 2 км. На тот момент, когда бригады рабочих встретились, первая положила 10 участков по 80 м каждый, а вторая – 20 участков одинаковой длины. Участки какой длины (в метрах) кладёт вторая бригада?

Запиши решение и ответ.

Решение.

Ответ:

9. Андрей и Владимир подтягивались на турнике: сначала Андрей подтянулся один раз, затем Владимир – два раза, потом Андрей – три раза и так далее. В сумме ребята подтянулись 21 раз.

1) Кто подтягивался последним?

Ответ:

2) Сколько раз подтянулся Андрей?

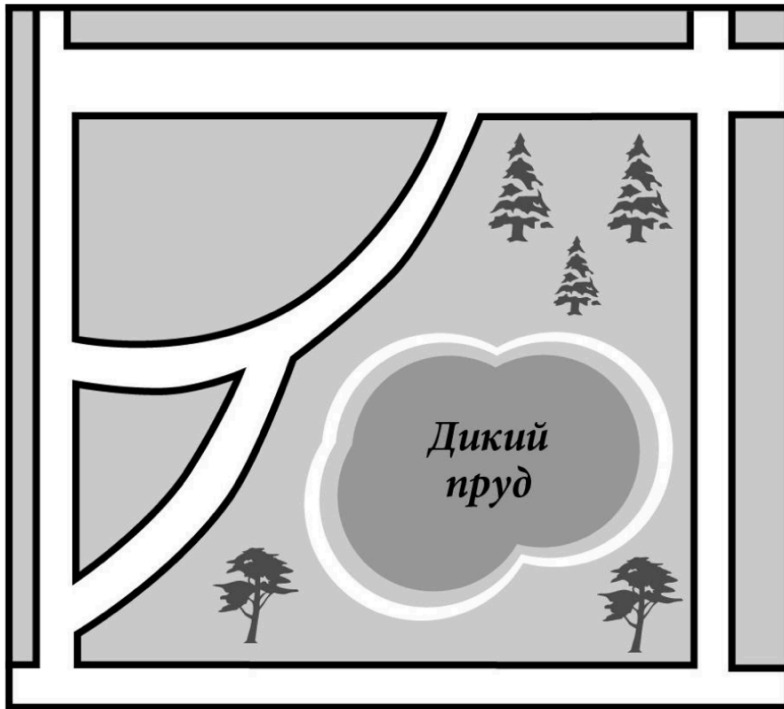
Ответ:

10. Журналист написал очерк о парке и новых кварталах в его родном городке.

Любимое место отдыха наших горожан — парк, в центре которого раскинулся пруд с романтическим названием Дикий. Рядом с парком недавно появились два новых жилых квартала. Если посмотреть на план города, то видно, что новые кварталы треугольные. Квартал поменьше — он называется «Парковый» — ограничен прямой как стрела улицей Полевой, а также двумя улочками поменьше — ул. Швейной и ул. Прудовой. Обе улочки старые и узкие, но при строительстве новых домов их привели в порядок и заасфальтировали. Прудовая длиннее Швейной. Она позволяет объехать перекрёсток Полевой и Широкой, где всё чаще скапливаются автомобильные пробки.

В планах мэрии города продлить Полевую улицу на юг к будущей застройке. Сейчас Полевая заканчивается, упираясь в ул. Ельскую. Если свернуть с Полевой на Ельскую налево, то слева вы снова увидите парк и Дикий пруд, а затем будет поворот на улицу со смешным названием Воробей. Откуда взялось такое птичье название, никто сейчас уже не помнит. Улица Воробей выведет вас опять на ул. Широкую, где и завершится ваше путешествие вокруг Дикого пруда.

Прочти очерк и рассмотри план. Пользуясь описанием, которое дал журналист, надпиши названия всех улиц на плане.



11. Даша смотрит на прозрачную дверь изнутри магазина.

Что написано на двери?

Ответ:



12. Света и Маша хотят купить куклу. У Светы есть только некоторое количество монет достоинством в 1 руб. Ей не хватает до покупки куклы 85 руб. У Маши тоже есть

деньги, но ей не хватает до покупки этой куклы 2 руб. Если девочки сложат свои деньги вместе, им всё равно не хватит денег на покупку куклы.

Сколько стоит кукла?

Запиши решение и ответ.

Решение.

Ответ: