

ВСЕРОССИЙСКАЯ ПРОВЕРОЧНАЯ РАБОТА**ГЕОГРАФИЯ****11 КЛАСС****Вариант 1****Инструкция по выполнению работы**

Проверочная работа включает в себя 17 заданий. На выполнение работы по географии отводится 1 час 30 минут (90 минут).

Записывайте ответы на задания в отведённом для этого месте в работе. В случае записи неверного ответа зачеркните его и запишите рядом новый.

При выполнении заданий работы Вы можете использовать необходимые карты атласов.

При выполнении заданий Вы можете использовать черновик. Записи в черновике проверяться и оцениваться не будут.

Советуем выполнять задания в том порядке, в котором они даны. Для экономии времени пропускайте задание, которое не удаётся выполнить сразу, и переходите к следующему. Если после выполнения всей работы у Вас останется время, Вы сможете вернуться к пропущенным заданиям.

Баллы, полученные Вами за выполненные задания, суммируются. Постарайтесь выполнить как можно больше заданий и набрать наибольшее количество баллов.

Желаем успеха!

Таблица для внесения баллов участника

Номер задания	1	2	3	4	5	6	7	8	9	10	11	12	13	14	15	16	17 К1	17 К2	Сумма баллов	Отметка за работу
Баллы																				

1

Сумма биологически активных температур – это годовая сумма средних суточных температур воздуха или почвы, превышающих определённый порог: 0 °С; +5 °С; +10 °С и т.д. Чем выше сумма биологически активных температур на определённой территории, тем более теплолюбивые сельскохозяйственные культуры можно выращивать на ней. Запишите перечисленные регионы России в порядке увеличения суммы активных температур выше +10 °С, начиная с региона с наименьшим значением этого показателя.

Курская область
Тверская область
Ставропольский край

Ответ: _____

2

Первая очередь комплекса по выпуску газомоторных автобусов и электробусов открылась в Собинском районе Владимирской области. Новое предприятие планируется как полноценный научно-производственный комплекс, где выпуск автобусов будет сочетаться с инновационным проектированием. При выходе на полную мощность планируется создать 650 рабочих мест.

Карты какого географического района России необходимо выбрать, чтобы найти информацию, необходимую для оценки географических условий размещения здесь данного производства?

Ответ: _____

3

Железные дороги обеспечивают значительную часть грузооборота нашей страны. Для каких трёх из перечисленных регионов России характерна наибольшая густота железных дорог? Запишите цифры, под которыми указаны эти регионы.

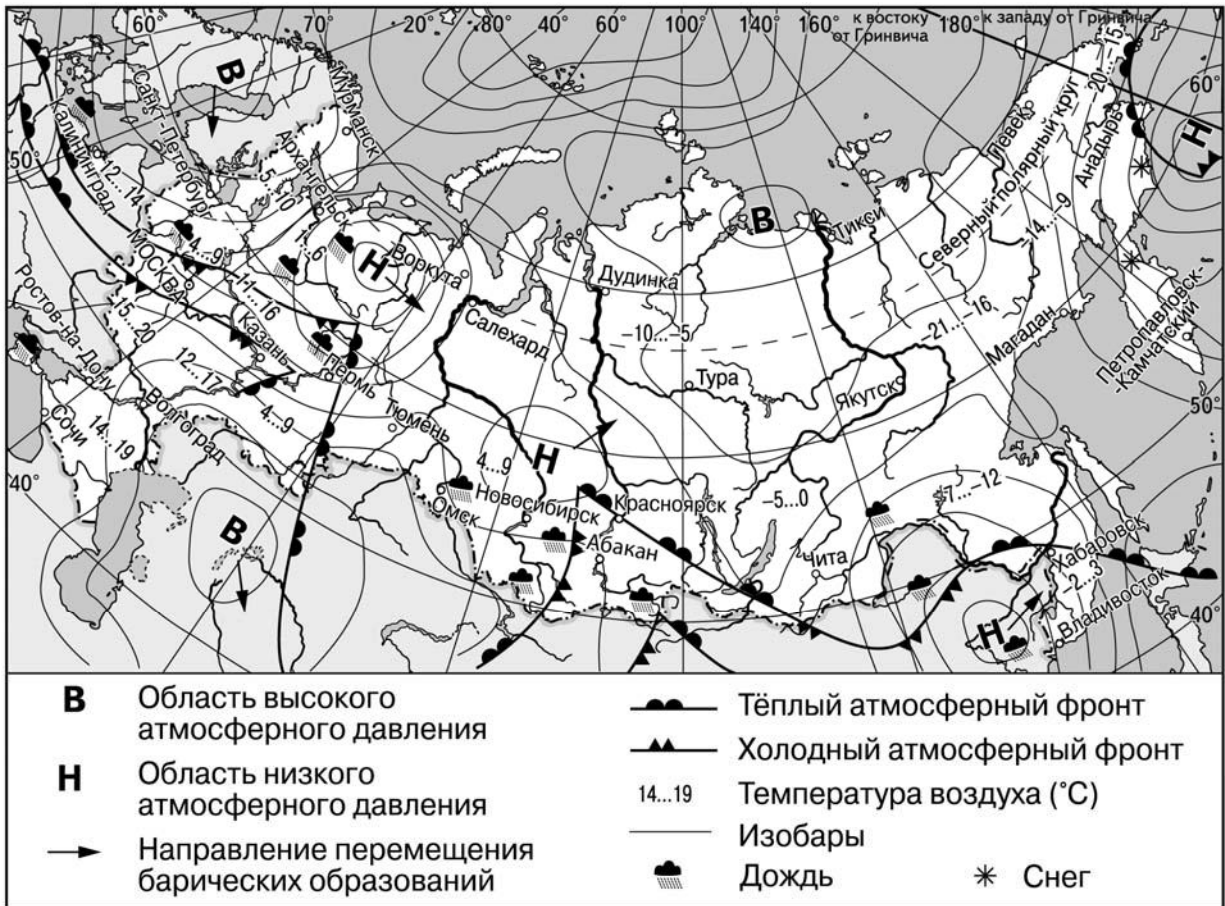
- 1) Тульская область
- 2) Краснодарский край
- 3) Иркутская область
- 4) Магаданская область
- 5) Красноярский край
- 6) Брянская область

Ответ:

--	--	--

Задания 4–6 выполняются с использованием приведённой ниже карты.

Карта прогноза погоды на 10 апреля 2019 г. (на 15 часов московского времени)



4

С антициклонами весной обычно связана солнечная погода. Назовите один (любой) населённый пункт в Азиатской части России из числа показанных на карте, погоду в котором 10 апреля 2019 г. будет определять антициклон.

Ответ: _____

5

Иван из Перми прослушал прогноз погоды по радио: «Завтра, 11 апреля 2019 г., потеплеет, в дневные часы температура воздуха поднимется до +14 °С, местами возможен дождь, ветер умеренный», но не услышал, для его ли города этот прогноз был составлен. С помощью карты определите, для какого из показанных на карте городов был составлен этот прогноз.

Ответ: _____

6

Прочитайте прогноз погоды на 11 апреля 2019 г. для города Москвы: «Завтра, 11 апреля 2019 г., в Москве ожидается похолодание, в ночные часы столбики термометров опустятся до +4 °С. Пройдёт дождь, возможны порывы ветра до 17 м/с». Объясните, почему в Москве ожидается выпадение атмосферных осадков.

Ответ: _____

7

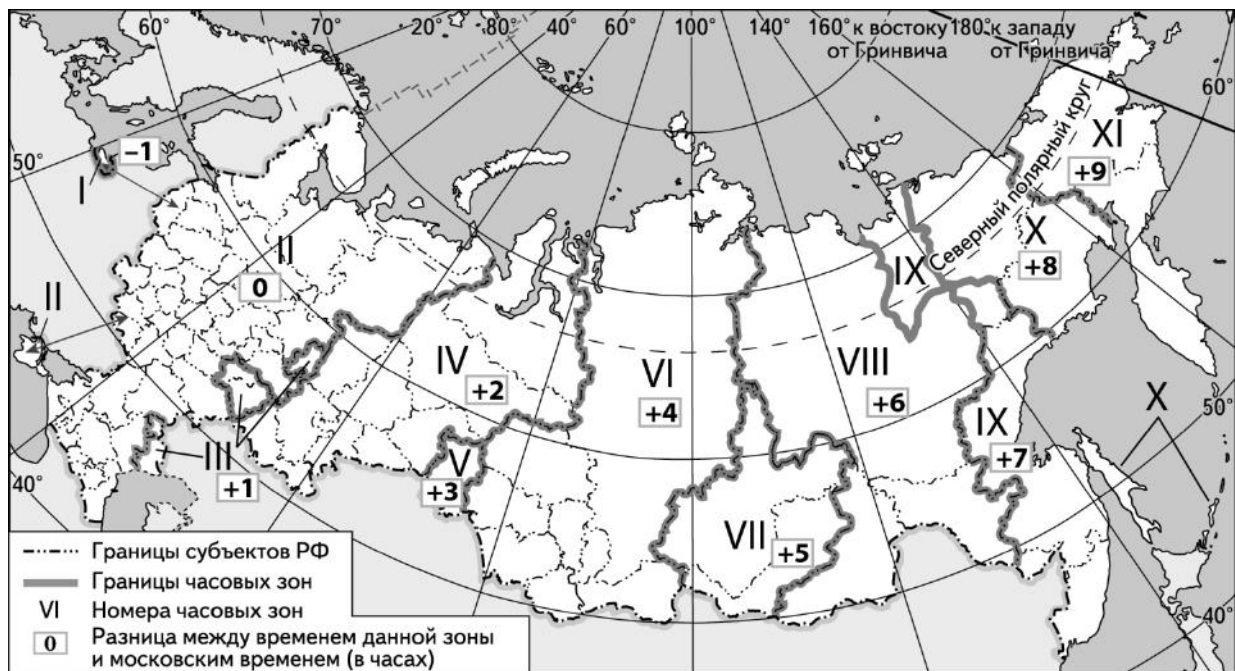
Потенциал российских регионов для развития туризма огромен. Каждый из них имеет рекреационные ресурсы, способные привлечь тысячи туристов из России и зарубежных стран. Определите субъект Российской Федерации по описанию его рекреационного потенциала.

«Рекреационный потенциал этого края определяется наличием выхода к двум морям, одно из которых в силу своих небольших глубин безопаснее и более подходит для отдыха с детьми. Здесь, на Ейской косе пляжи песчано-ракушечные. Наиболее известные курорты – Ейск, Пересыпь, Кучугуры, Приморско-Ахтарск».

Ответ: _____

8

На выборах депутатов Государственной Думы избирательные участки 19 сентября 2021 г. работали с 8 до 20 часов по местному времени. Используя карту, определите, в каких из перечисленных регионов в 16 часов по московскому времени голосование уже закончилось. Запишите цифры, под которыми они указаны.



- 1) Ямало-Ненецкий автономный округ
- 2) Чукотский автономный округ
- 3) Омская область
- 4) Хабаровский край
- 5) Республика Башкортостан
- 6) Магаданская область

Ответ: _____.

9

Прочитайте приведённый ниже текст, в котором пропущен ряд слов. Выберите из предлагаемого списка слова, которые необходимо вставить на места пропусков, обозначенных буквами. Обратите внимание на то, что слов в списке больше, чем Вам потребуется для заполнения пропусков. Каждое слово может быть использовано только один раз. Запишите в текст номера выбранных слов.

Демографическая ситуация в Латвии

Согласно статистическим данным, численность населения Латвии на начало 2019 г. составила 1,9 млн. человек. Численность населения страны сокращается, как за счёт _____ (А) убыли – превышения числа умерших людей над числом родившихся, так и за счёт превышения числа уехавших из страны над числом въехавших в страну. В возрастной структуре населения страны доля лиц старше 65 лет _____ (Б) доли детей в возрасте до 15 лет. При сохранении такой демографической ситуации в стране будет наблюдаться _____ (В) среднего возраста населения.

Список слов:

- 1) естественный
- 2) снижение
- 3) миграционный
- 4) меньше
- 5) увеличение
- 6) больше

Запишите в таблицу под каждой буквой номер выбранного Вами слова.

Ответ:

А	Б	В

10

На уроке учащиеся анализировали статистические данные, приведённые ниже в таблице, в целях сравнения темпов роста валового регионального продукта (ВРП) в Ставропольском крае и в Республике Коми в период с 2014 по 2016 г. Галина указала, что в Ставропольском крае ежегодно происходило увеличение объёмов ВРП, а в Республике Коми – его уменьшение.

Динамика объёмов ВРП (в % к предыдущему году)

Регион	2014 г.	2015 г.	2016 г.
1) Ставропольский край	104,3	100,9	100,4
2) Республика Коми	95,7	98,3	98,5

Правильный ли вывод сделала Галина? Свой ответ обоснуйте.

Ответ: _____

11) Какие из следующих высказываний верны? Запишите цифры, под которыми указаны эти высказывания.

- 1) Уровень экономического развития страны определяется численностью её населения.
- 2) Возрастная структура населения тесно связана с рождаемостью и смертностью.
- 3) На размещение предприятий целлюлозно-бумажной промышленности большое влияние оказывает обеспеченность территории водными ресурсами.
- 4) Создание крупных водохранилищ приводит к повышению уровня грунтовых вод на прилегающих к ним территориях.
- 5) В летнее время продолжительность светового дня на территории России увеличивается при движении с севера на юг.

Ответ: _____.

12) Уровень экономического развития страны во многом определяет особенности её населения и хозяйства. Установите соответствие между страной и её характерной особенностью: к каждому элементу первого столбца подберите соответствующий элемент из второго столбца.

СТРАНА	ОСОБЕННОСТЬ
A) Лаос	1) высокая (более 75 лет) средняя ожидаемая продолжительность жизни населения
Б) Нидерланды	2) значительная (более 20%) доля сельского хозяйства в ВВП
В) Мали	

Запишите в таблицу выбранные цифры под соответствующими буквами.

Ответ:

А	Б	В

13) На сегодняшний день среди основных видов потребляемого в мире топлива примерно 25% приходится на уголь. Уголь по-прежнему является одним из основных видов топлива во многих странах мира. Учащиеся нашли в интернете информацию о том, что в Германии в 2018 г. было добыто 169 млн т угля, при этом показатель ресурсобеспеченности на этот год составлял 214 лет.

Определите, какова была величина разведанных запасов угля (в миллионах тонн) в Германии в 2018 г.

Ответ: _____ млн т.

Задания 14–16 выполняются с использованием приведённого ниже текста.

Алтайский край наращивает экспорт сыра

Экспорт сыра из Алтайского края превысил 600 т в первом полугодии 2019 г., тогда как экспорт за весь 2018 г. составил 400 т. Импортируют алтайский сыр Казахстан и страны Средней Азии. В 2018 г. регион получил возможность экспорта продукции в Китай и сейчас есть уверенность в том, что пройдя определённые процедуры, край сможет поставлять сыр на рынок этой страны. Объёмы производства сыра растут ежегодно – только по итогам 2018 г. алтайские сыроделы изготовили порядка 93 тыс. т продукта. Регион производит сыра в разы больше, чем потребляет: до 70% уходит за пределы Алтайского края.

14 Карты какого географического района России необходимо использовать для определения географического положения Алтайского края?

Ответ: _____

15 К какому межотраслевому комплексу относится производство, о котором говорится в тексте?

Ответ: _____

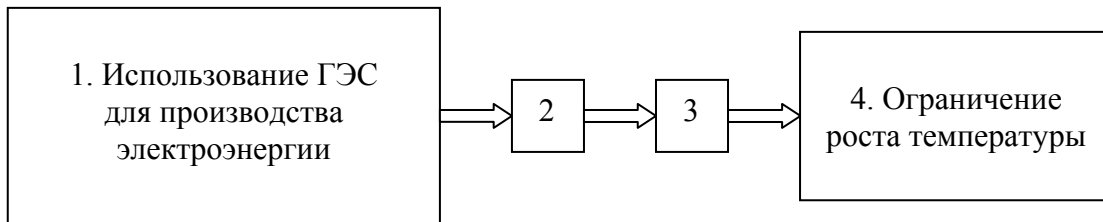
16 Объясните, какая особенность сельского хозяйства региона способствует успешному развитию производства сыра, о котором говорится в тексте?

Ответ: _____

17

Целью подписанного Россией Парижского соглашения по климату является сдерживание роста среднепланетарной температуры воздуха, представляющего огромную опасность для человечества. Многие специалисты среди мер, нацеленных на борьбу с глобальным потеплением, называют возможность более широко использования ГЭС для производства электроэнергии.

Приведите рассуждения, подтверждающие наличие связей между использованием ГЭС для производства электроэнергии и ограничением роста среднепланетарной температуры воздуха, обозначенные на схеме цифрами 2 и 3.



Ответ: _____

